

تم تحميل هذا الملف من موقع المناهج السعودية



موقع المناهج المنهاج السعودي

*للحصول على أوراق عمل لجميع الصفوف وجميع المواد اضغط هنا

<https://www.almanahj.com/sa>

* للحصول على أوراق عمل لجميع مواد الصف المستوى الثاني اضغط هنا

<https://almanahj.com/sa/>

* للحصول على جميع أوراق الصف المستوى الثاني في مادة رياضيات ولجميع الفصول, اضغط هنا

<https://almanahj.com/sa/math>

* للحصول على أوراق عمل لجميع مواد الصف المستوى الثاني في مادة رياضيات الخاصة بـ الفصل الثاني اضغط هنا

<https://www.almanahj.com/sa/math2>

* لتحميل كتب جميع المواد في جميع الفصول للـ الصف المستوى الثاني اضغط هنا

<https://www.almanahj.com/sa/grade>

للحصول على جميع روابط الصفوف على تلغرام وفيسبوك من قنوات وصفحات: اضغط هنا

<https://t.me/sacourse>

المادة / رياضيات (2).

الباب الأول

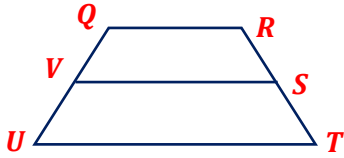
الصف / الأول الثانوي.

الأسم /

الموضوع / شبه النصف وشكل
الطائرة الورقية.

ورقة العمل (5)


س1/ أجب عن كل ما يأتي ؟



1/ من الشكل المجاور : إذا كان $UT = 22$ ، $QR = 12$ ، فأوجد VS ؟

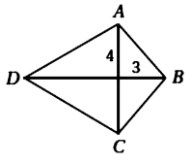


2/ من الشكل المجاور : إذا كان $UT = 12$ ، $SV = 9$ ، فأوجد QR ؟

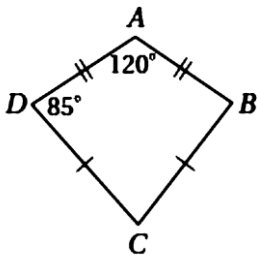


3/ من الشكل المجاور : إذا كان $SV = 11$ ، $QR = 5$ ، فأوجد UT ؟

س2/ أجب عن كل ما يأتي ؟



1/ في الشكل المجاور: إذا كان BCD على شكل طائرة ورقية فأحسب AB ؟



2/ في الشكل المجاور: إذا كان $ABCD$ على شكل طائرة ورقية فأحسب $m\angle C$ ؟