

تم تحميل هذا الملف من موقع المناهج السعودية



## اختبار أحياء نهائي عملي مع الإجابة

موقع المناهج ← المناهج السعودية ← الصف الثاني الثانوي ← علوم ← الفصل الثاني ← أوراق عمل ← الملف

تاريخ إضافة الملف على موقع المناهج: 10:44:53 2025-02-04

ملفات اكتب للمعلم اكتب للطالب | اختبارات الكترونية | اختبارات | حلول | عروض بوربوينت | أوراق عمل  
منهج انجليزي | ملخصات وتقارير | مذكرات وبنوك | الامتحان النهائي للمدرس

المزيد من مادة  
علوم:

## التواصل الاجتماعي بحسب الصف الثاني الثانوي



صفحة المناهج  
السعودية على  
فيسبوك

الرياضيات

اللغة الانجليزية

اللغة العربية

التربية الاسلامية

المواد على تلغرام

## المزيد من الملفات بحسب الصف الثاني الثانوي والمادة علوم في الفصل الثاني

مطوية درس الجهاز العضلي

1

مطوية درس جهازا التكاثر في الإنسان

2

مطوية درس تركيب الجهاز العصبي


3

مطوية درس الجهاز التنفسي

4

مطوية درس الغدد الصم

5

 وزارة التعليم Ministry of Education	المملكة العربية السعودية وزارة التعليم إدارة التعليم بمحافظة .....	ثانوية .....	المدرسة
		الثاني	الفصل الدراسي
الزمن	50 دقيقة	ثاني/ عام	الصف
أسئلة الاختبار النهائي لمقرر أحياء 2 - 2 لعام 1446هـ (عملي) (نموذج 1)			

اسم الطالبة	الصف	رقم الجلوس
-------------	------	------------


السؤال	السؤال الأول	السؤال الثاني	المجموع	المصححة	المراجعة	المدققة
الدرجة						

	<b>السؤال الأول</b> أ/ ارسمي رسماً تخطيطياً لجناح الدجاجة ب/ وضح على الرسم كيف ترتبط العظام معاً
--	--

<b>السؤال الثاني:</b> اختاري الإجابة الصحيحة في كل مما يلي:
---

1	ما نوع المفصل في الشكل التالي	2	صنفي : أي العضلات التالية تصف بانها قلبية
a	الكروي	a	A
b	المنزلق	b	B
c	الرزقي	c	C
d	المحوري	d	C و A
3	ما الجزء المشار لها بالرقم 1 في الصورة	4	في أي جزء يتم تبادل الغازات بين الرئة والدم
a	قشرة الكلية	a	1
b	نخاع الكلية	b	2
c	حوض الكلية	c	3
d	الحالب	d	4
5	الرقم الذي يشير للأذين الأيمن	6	ما نوع الاستجابة المناعية في الشكل
a	1	a	جينية
b	2	b	متخصصة
c	3	c	غير متخصصة
d	4	d	هرمونية

انتهت الأسئلة مع خالص دعواتنا لك بالتوفيق .... معلمتك: أ/

 وزارة التعليم Ministry of Education	المملكة العربية السعودية وزارة التعليم إدارة التعليم بمحافظة .....	ثانوية .....	المدرسة
		الثاني	الفصل الدراسي
50 دقيقة	الزمن	ثاني/ عام	الصف
أسئلة الاختبار النهائي لمقرر أحياء 2 - 2 لعام 1446هـ (عملي) (نموذج 1)			

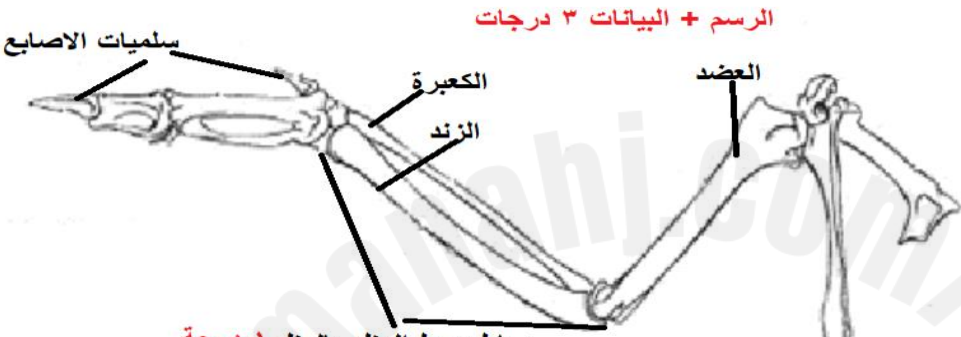
اسم الطالبة	نموذج الإجابة	رقم الجلوس	2/ع/...
-------------	---------------	------------	---------

السؤال	السؤال الأول	السؤال الثاني	المجموع	المصححة	المراجعة	المدققة
الدرجة	4	6	10			

**السؤال الأول**

أ/ ارسمي رسماً تخطيطياً لجناح الدجاجة ب/ وضح على الرسم كيف ترتبط العظام معاً


**الرسم + البيانات 3 درجات**



**السؤال الثاني:** اختاري الإجابة الصحيحة في كل مما يلي:



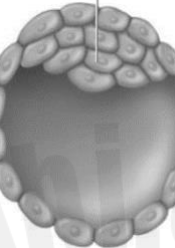

1	ما نوع المفصل في الشكل التالي	2	صنفي : أي العضلات التالية تصف بانها قلبية
a	الكروي	a	A
b	المنزلق	b	<b>1</b> B
c	<b>1</b> الرزي	c	C
d	المحوري	d	C و A
3	ما الجزء المشار لها بالرقم 1 في الصورة	4	في أي جزء يتم تبادل الغازات بين الرئة والدم
a	<b>1</b> قشرة الكلية	a	1
b	نخاع الكلية	b	2
c	حوض الكلية	c	<b>1</b> 3
d	الحالب	d	4
5	الرقم الذي يشير للأذين الأيمن	6	ما نوع الاستجابة المناعية في الشكل
a	1	a	جينية
b	2	b	<b>1</b> متخصصة
c	<b>1</b> 3	c	غير متخصصة
d	4	d	هرمونية

انتهت الأسئلة مع خالص دعواتنا لك بالتوفيق .... معلمتك: أ/

 وزارة التعليم Ministry of Education	المملكة العربية السعودية وزارة التعليم إدارة التعليم بمحافظة .....		ثانوية .....	المدرسة
			الثاني	الفصل الدراسي
50 دقيقة	الزمن	ثاني/ عام		الصف
أسئلة الاختبار النهائي لمقرر أحياء 2 - 2 لعام 1446هـ (عملي) (نموذج 2)				

اسم الطالبة	الصف	رقم الجلوس
-------------	------	------------


السؤال	السؤال الأول	السؤال الثاني	المجموع	المصححة	المراجعة	المدققة
الدرجة						

				<p><b>السؤال الأول</b> حدي لاي مرحلة من مراحل النمو الجنيني تنتمي الصور التالية: البلاستيولة          الثلاث الشهور الأولى -          الثلاث الشهور الثانية -          الثلاث الشهور الثالثة</p>
---	---	---	--	--

**السؤال الثاني:** اختاري الإجابة الصحيحة في كل مما يلي:

1	ما نوع المفصل في الشكل التالي	2	أي العضلات التالية تصف بانها قلبية
a	الكروي	a	A
b	المنزلق	b	B
c	الرزبي	c	C
d	المحوري	d	C و A
3	ما الجزء المشار لها بالرقم 1 في الصورة	4	في أي جزء يتم تبادل الغازات بين الرئة والدم
a	قشرة الكلية	a	1
b	نخاع الكلية	b	2
c	حوض الكلية	c	3
d	الحالب	d	4
5	الرقم الذي يشير للأذين الأيمن	6	ما نوع الاستجابة المناعية في الشكل
1	a	a	جنينية
2	b	b	متخصصة
3	c	c	غير متخصصة
4	d	d	هرمونية



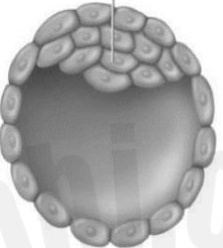

انتهت الأسئلة مع خالص دعواتنا لك بالتوفيق .... معلمتك: أ/

 وزارة التعليم Ministry of Education	المملكة العربية السعودية		ثانوية .....	المدرسة
	وزارة التعليم		الثاني	الفصل الدراسي
	إدارة التعليم بمحافظة .....		ثاني/ عام	الصف
50 دقيقة	الزمن	أسئلة الاختبار النهائي لمقرر أحياء 2 - 2 لعام 1446هـ (عملي) (نموذج 2)		

اسم الطالبة	الصف /ع/2/ ...	رقم الجلوس
-------------	----------------	------------

## نموذج الإجابة


السؤال	السؤال الأول	السؤال الثاني	المجموع	المصححة	المراجعة	المدققة
الدرجة	4	6	10			

 <b>الثلاث الشهور الثانية 1</b>	 <b>الثلاث الشهور الأولى 1</b>	 <b>البلاستيولة 1</b>	 <b>الثلاث الشهور الثالثة 1</b>	<b>السؤال الأول</b> حدي لاي مرحلة من مراحل النمو الجنيني تنتمي الصور التالية: البلاستيولة الثلاث الشهور الأولى - الثلاث الشهور الثانية - الثلاث الشهور الثالثة
---	--	---	--	--

<b>السؤال الثاني:</b> اختاري الإجابة الصحيحة في كل مما يلي:	
---	--

1	ما نوع المفصل في الشكل التالي	2	أي العضلات التالية تصف بانها لا ارادية
a	الكروي	A	a
b	المنزلق <b>1</b>	B	b
c	الرززي	C	c
d	المحوري	A و b <b>1</b>	d
3	ما الجزء المشار لها بالرقم 2 في الصورة	4	في أي جزء يتم تبادل الغازات بين الرئة والدم
a	قشرة الكلية	1	a
b	نخاع الكلية <b>1</b>	2	b
c	حوض الكلية	3	c
d	الحالب	4	d
5	الرقم الذي يشير للأذين الأيسر	6	ما نوع الاستجابة المناعية في الشكل
a	<b>1</b>	a	جنينية
b	2	b	مخصصة <b>1</b>
c	3	c	غير مخصصة
d	4	d	هرمونية

انتهت الأسئلة مع خالص دعواتنا لك بالتوفيق .... معلمتك: أ/

 وزارة التعليم Ministry of Education	المملكة العربية السعودية وزارة التعليم إدارة التعليم بمحافظة .....	ثانوية .....	المدرسة
		الثاني	الفصل الدراسي
50 دقيقة	الزمن	ثاني/ عام	الصف
أسئلة الاختبار النهائي لمقرر أحياء 2 - 2 لعام 1446هـ (عملي) (نموذج 3)			

اسم الطالبة	الصف	رقم الجلوس
-------------	------	------------


السؤال	السؤال الأول	السؤال الثاني	المجموع	المصححة	المراجعة	المدققة
الدرجة						

<b>السؤال الأول</b> أ/ارسمي رسما مبسطا يوضح مراحل تكوين الحيوان المنوي
---

<b>السؤال الثاني:</b> اختاري الإجابة الصحيحة في كل مما يلي:
---

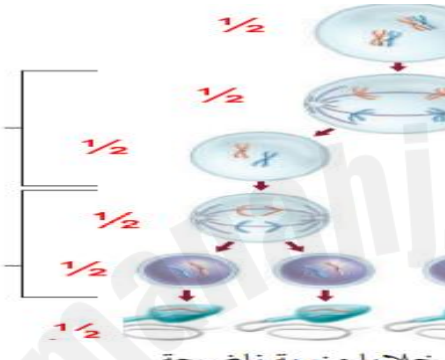
1	ما نوع المفصل في الشكل التالي	2	أي العضلات التالية تصف بانها ارادية
a	الكروي	a	A
b	المنزلق	b	B
c	الرززي	c	C
d	المحوري	d	C و B
3	ما الجزء المشار لها بالرقم 2 في الصورة	4	في أي جزء يتم تبادل الغازات بين الرئة والدم
a	قشرة الكلية	a	1
b	نخاع الكلية	b	2
c	حوض الكلية	c	3
d	الحالب	d	4
5	الرقم الذي يشير للبطين الأيمن	6	ما نوع الاستجابة المناعية في الشكل
1	a	a	جينية
2	b	b	متخصصة
3	c	c	غير متخصصة
4	d	d	هرمونية

انتهت الأسئلة مع خالص دعواتنا لك بالتوفيق .... معلمتك: أ/

 وزارة التعليم Ministry of Education	المملكة العربية السعودية وزارة التعليم إدارة التعليم بمحافظة .....	ثانوية .....	المدرسة
		الثاني	الفصل الدراسي
الزمن	50 دقيقة	ثاني/ عام	الصف
أسئلة الاختبار النهائي لمقرر أحياء 2 - 2 لعام 1446هـ (عملي) (نموذج 3)			

اسم الطالبة	رقم الجلوس	2/ع/...	<b>نموذج الإجابة</b>
-------------	------------	---------	----------------------

السؤال	السؤال الأول	السؤال الثاني	المجموع	المصححة	المراجعة	المدققة
الدرجة	4	6	10			



خلايا متوتية ناضجة

**السؤال الأول**  
أ/ رسمي رسما مبسطا  
يوضح مراحل تكوين  
الحيوان المنوي

**السؤال الثاني:** اختاري الإجابة الصحيحة في كل مما يلي:


1	ما نوع المفصل في الشكل التالي	2	أي العضلات التالية تصف بانها ارادية
a	الكروي <b>1</b>	a	A
b	المنزلق	b	B
c	الرززي	c	<b>1</b> C
d	المحوري	d	C و B
3	ما الجزء المشار لها بالرقم 3 في الصورة	4	في أي جزء يتم تبادل الغازات بين الرئة والدم
a	قشرة الكلية	a	1
b	نخاع الكلية	b	2
c	حوض الكلية <b>1</b>	c	<b>1</b> 3
d	الحالب	d	4
5	الرقم الذي يشير للبطين الأيسر	6	ما نوع الاستجابة المناعية في الشكل
a	1	a	جينية
b	<b>1</b> 2	b	متخصصة <b>1</b>
c	3	c	غير متخصصة
d	4	d	هرمونية

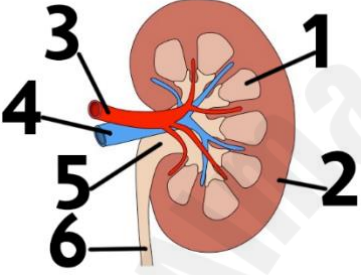
انتهت الأسئلة مع خالص دعواتنا لك بالتوفيق .... معلمتك: أ/

اختبار عملي لمقرر أحياء 2-2  
زمن الاختبار: 50 دقيقة  
الفصل الدراسي الثاني  
للعام الدراسي 1446 هـ

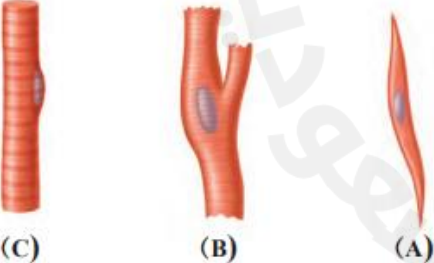
اسم الطالبة	رقم الجلوس	الشعبة
-------------	------------	--------

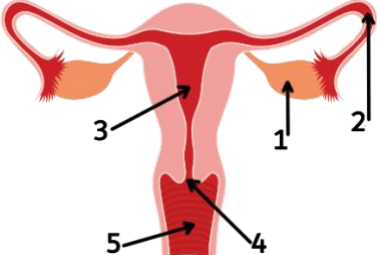
درجات فقط	10	أجيب على الأسئلة التالية على حسب الشكل المجاور لها.
-----------	----	---

	1 ما هو نوع المفصل الموجود في الصورة؟ .....
	- ما لون نهايات العظام في المفصل المتحرك .....

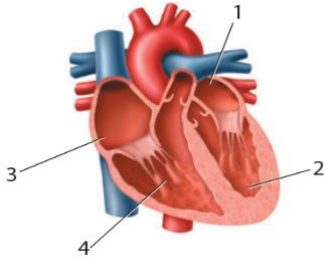
	2 الي أي جهاز ينتمي هذا العضو ..... والرقم 6 يشير ..... .....
--	---

3 استقص رد الفعل المنعكس لرمش العين فسري سبب اختلاف ردة الفعل للشخص في كل مره ؟ ..... .....
--

	4 أي العضلات ارادية ..... وكيف تربط العضلات مع العظام .....
---	--

	5 ما هو التركيب المشار له بالرقم 1؟ ..... ينمو فيه الجنين حتى ولادته رقم .....
---	---





اسم العضو؟ .....

6

ما هو اسم الحجرة المشار لها برقم 4

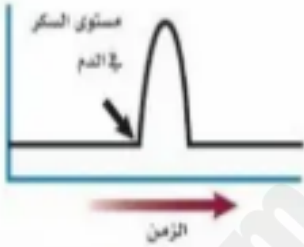
.....

من تجربة : كيف يساعد انزيم الببسين في عملية الهضم ؟

7

صف دور كل من الببسين والرقم الهيدروجيني في هضم البروتينات ؟

.....



يوضح الرسم البياني مستوى السكر في الدم لفترة من الزمن ,  
ما هو الهرمون الذي قد يسبب الارتفاع المفاجئ المشار اليه

8

بالسهم .....

وماهي الغدة المفرزة له .....

من تجربة : هل يمكن مشاهدة اثار التعرض للكحول

9

ما العواقب التي تنتج عن شرب الكحول مستقبلا ؟

.....

اجيبي عن الاسئلة الاتية

10

1- خلية تنشط الخلية البلازمية ( B ) والخلايا التائية القاتلة ( T )

2- ما نوع الاستجابة المناعية الممثلة في الشكل

.....


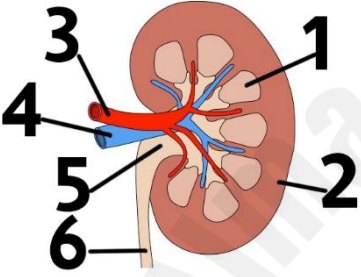
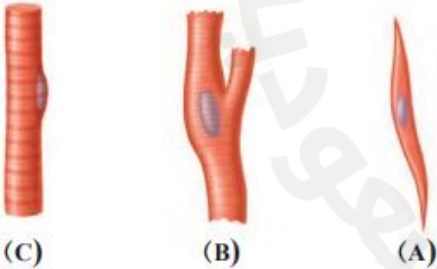
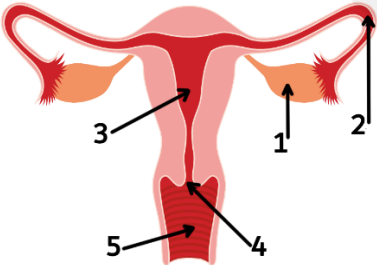


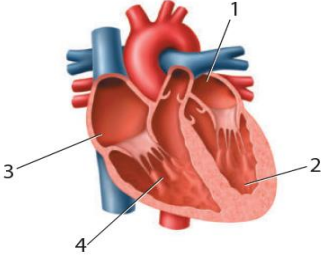
انتهت الأسئلة

معلم المادة:

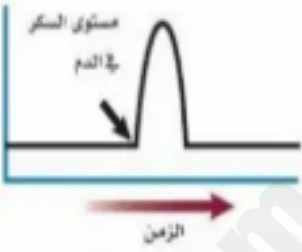
اختبار عملي لمقرر أحياء ٢-٢  
زمن الاختبار: ٥٠ دقيقة  
الفصل الدراسي الثاني  
للعام الدراسي 1446 هـ

## نموذج الإجابة


اسم الطالبة	الرقم الحلوي	الشعبة
درجات فقط	١٠	
		أجب على الأسئلة التالية على حسب الشكل المجاور لها.
		١ ما هو نوع المفصل الموجود في الصورة؟ الرزبي 1/2 - ما لون نهايات العظام في المفصل المتحرك لونها ابيض 1/2
		٢ الي أي جهاز ينتمي هذا العضو الجهاز الإخراجي 1/2 والرقم ٦ يشير الحالب 1/2
		٣ استقص رد الفعل المنعكس لرمش العين فسري سبب اختلاف ردة الفعل للشخص في كل مره ؟ ردة الفعل المنعكس تختلف حسب نوع الحاسة وشدة المؤثر وعمر الشخص الذي يستقبل المؤثر ١
		٤ أي العضلات ارادية رقم C 1/2 وكيف تربط العضلات مع العظام ب الاوتار 1/2
		٥ ما هو التركيب المشار له بالرقم ١؟ المبيض 1/2 ينمو فيه الجنين حتى ولادته رقم ٣ 1/2

	اسم العضو ؟ القلب $\frac{1}{2}$	٦
	ما هو اسم الحجرة المشار لها برقم ٤ بطين ايمن $\frac{1}{2}$	

من تجربة : كيف يساعد انزيم البيسين في عملية الهضم ؟	٧
صف دور كل من البيسين والرقم الهيدروجيني في هضم البروتينات ؟ انزيم البيسين وحمض الهيدروكلوريك يهضم البروتينات في المعدة وان البيسين يسرع من عملية هضم البروتينات	

	يوضح الرسم البياني مستوى السكر في الدم لفترة من الزمن , ماهو الهرمون الذي قد يسبب الارتفاع المفاجئ المشار اليه بالسهم الجلوكاجون $\frac{1}{2}$	٨
	وماهي الغدة المفرزة له البنكرياس $\frac{1}{2}$	

من تجربة : هل يمكن مشاهدة اثار التعرض للكحول	٩
ما العواقب التي تنتج عن شرب الكحول مستقبلا ؟ تلف طويل لبعض مناطق الدماغ المسؤولة عن الذاكرة	

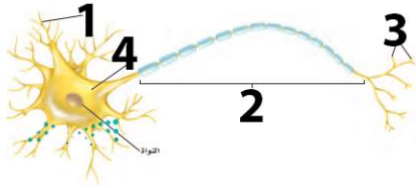
	اجيبي عن الاسئلة الاتية	١٠
	١- خلية تنشط الخلية البلازمية ( B ) والخلية التائية القاتلة ( T ) الخلية التائية المساعدة $\frac{1}{2}$ ٢- ما نوع الاستجابة المناعية الممثلة في الشكل متخصصة $\frac{1}{2}$	

انتهت الأسئلة

معلم المادة:

اجيبي على الأسئلة التالية على حسب الشكل المجاور لها.

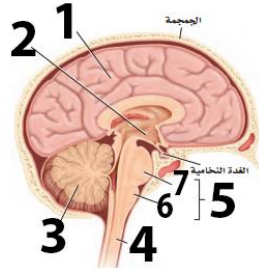
درجات فقط



ما هو التركيب المشار له بالرقم 2

- A جسم الخلية  
B المحور  
C الزوائد الشجرية

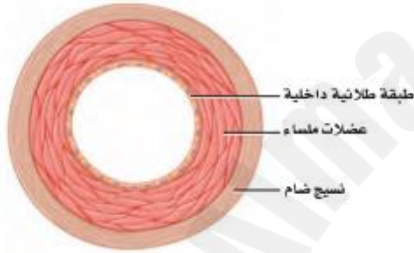
1



ما هو التركيب المشار له بالرقم 1

- A مخيخ  
B نخاع مستطيل  
C مخ

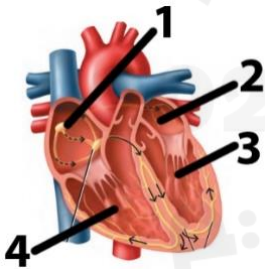
2ع



أي من أنواع الأوعية الدموية يظهر في الصورة؟

- A شرايين  
B أوردة  
C شعيرات دموية

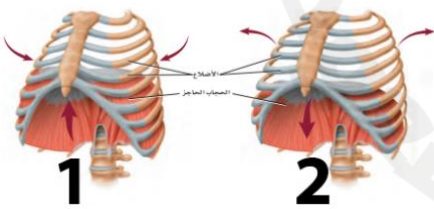
3



أي حجر القلب يشار لها بالرقم 1؟

- A الأذين الأيسر  
B البطين الأيسر  
C الأذين الأيمن

4



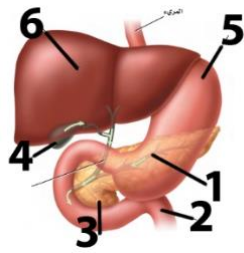
أي عمليات التنفس تظهر في الرسم رقم 1؟

- A زفير  
B شهيق  
C شهيق وزفير

5

يتبع

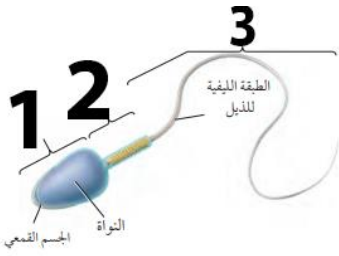




ما هو التركيب المشار له برقم 6؟

- A الكبد  
B الحوصلة المرارية  
C البنكرياس

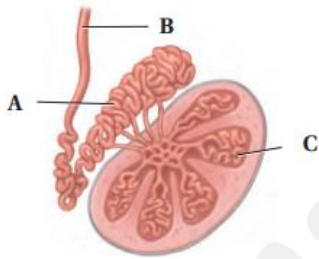
6



ما هو التركيب المشار له برقم 2؟

- A القطعة الوسطية  
B الرأس  
C الذيل

7



ما هو التركيب المشار له A؟

- A الأنابيب المنوية  
B الوعاء الناقل  
C البربخ

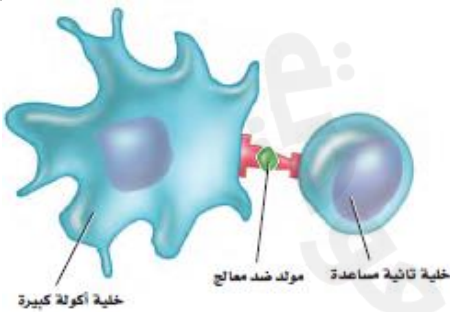
8



أين تحدث عملية الإخصاب في الصورة التالية؟

- A 1  
B 2  
C 3

9



ما نوع الاستجابة المناعية الممثلة في الشكل؟

- A جينية  
B غير متخصصة  
C متخصصة

10