

تم تحميل هذا الملف من موقع المناهج السعودية



## موقع المناهج المنهاج السعودي

\* للحصول على أوراق عمل لجميع الصفوف وجميع المواد اضغط هنا

<https://www.almanahj.com/sa>

\* للحصول على أوراق عمل لجميع مواد المستوى الخامس اضغط هنا

<https://almanahj.com/sa/14>

\* للحصول على جميع أوراق المستوى الخامس في مادة جغرافيا ولجميع الفصول, اضغط هنا

<https://almanahj.com/sa/14geography>

\* للحصول على أوراق عمل لجميع مواد المستوى الخامس في مادة جغرافيا الخاصة بـ الفصل الأول اضغط هنا

<https://www.almanahj.com/sa/14geography1>

\* لتحميل كتب جميع المواد في جميع الفصول للـ المستوى الخامس اضغط هنا

<https://www.almanahj.com/sa/grade14>

للحصول على جميع روابط الصفوف على تلغرام وفيسبوك من قنوات وصفحات: اضغط هنا

<https://t.me/sacourse>

الموضوع: السكان – العوامل الطبيعية التي تؤثر في توزيع السكان

أجب على كل من:

أوضح ما المقصود بالتعداد السكاني مع ذكر أهدافه:

من العوامل ..... مثل تأخير سن الزواج، وقد لوحظ أن المهنة و ..... والتي تؤثر في الإنجاب، والأقطار ..... عموماً أكثر إنجاباً من الأقطار

أوراق عمل (الجغرافيا و

مدرسة

التاريخ: / / 14 هـ

الاسم: الفصل:

الموضوع: العوامل البشرية التي تؤثر في توزيع السكان.

أكمل ما يلي:

تختلف نسبة الوفيات بين الدول ويتوقف ذلك على .....  
و .....، وتبلغ أعلى نسبة وفيات في العالم 23 في  
الآلاف ..... وأقل نسبة وفيات ..... (دول الخليج العربي)

صح أم خطأ!

أدى إنشاء خط أنابيب  
التابلاين في المملكة العربية  
السعودية إلى إنشاء مدن  
كثيرة بالقرب منه مثل  
القيصومة، ورفحا، وطريف،  
وعرعر.

(.....)

السكان يتركزون على  
سواحل القارات، ويقتلون  
في داخلها.

(.....)

معظم آثار الحروب في  
توزيع السكان ذات طابع  
دائم.

(.....)

.....

- معدل الوفيات = ..... / .....  
× 100.

تحدث المجاعات غالباً نتيجة .....  
.....، أو .....

- النمو السكاني يقصد به

.....  
.....

الموضوع: التحول الديموغرافي – توزيع السكان حسب الأجناس.

ما هي أهمية نموذج التحول الديموغرافي؟

.....  
.....  
.....  
.....  
.....

أصحح الخطأ إن وجد:

في الفترة الأولى من مرحلة التحول الديموغرافي يرتفع معدل الوفيات ويبقى معدل المواليد منخفضاً

التصحيح: ..... .

في المرحلة التي سبقت التحول الديموغرافي يكاد معدل المواليد، الذي يتابع هبوطه، أن يكون مساوياً لمعدل الوفيات.

التصحيح: ..... .

الموضوع: الهجرات السكانية.

أضع علامة ( ) أمام العبارة الصحيحة وعلامة ( ) أمام العبارة الخاطئة:

☐

الهجرة الداخلية تكون أصعب من الهجرة الدولية، نتيجة لوجود بعض المتاعب والعقبات.

☐

يقصد بالهجرة الداخلية انتقال الإنسان ونقل مقر إقامته من مكان جغرافي إلى مكان جغرافي آخر داخل حدود الدولة

☐

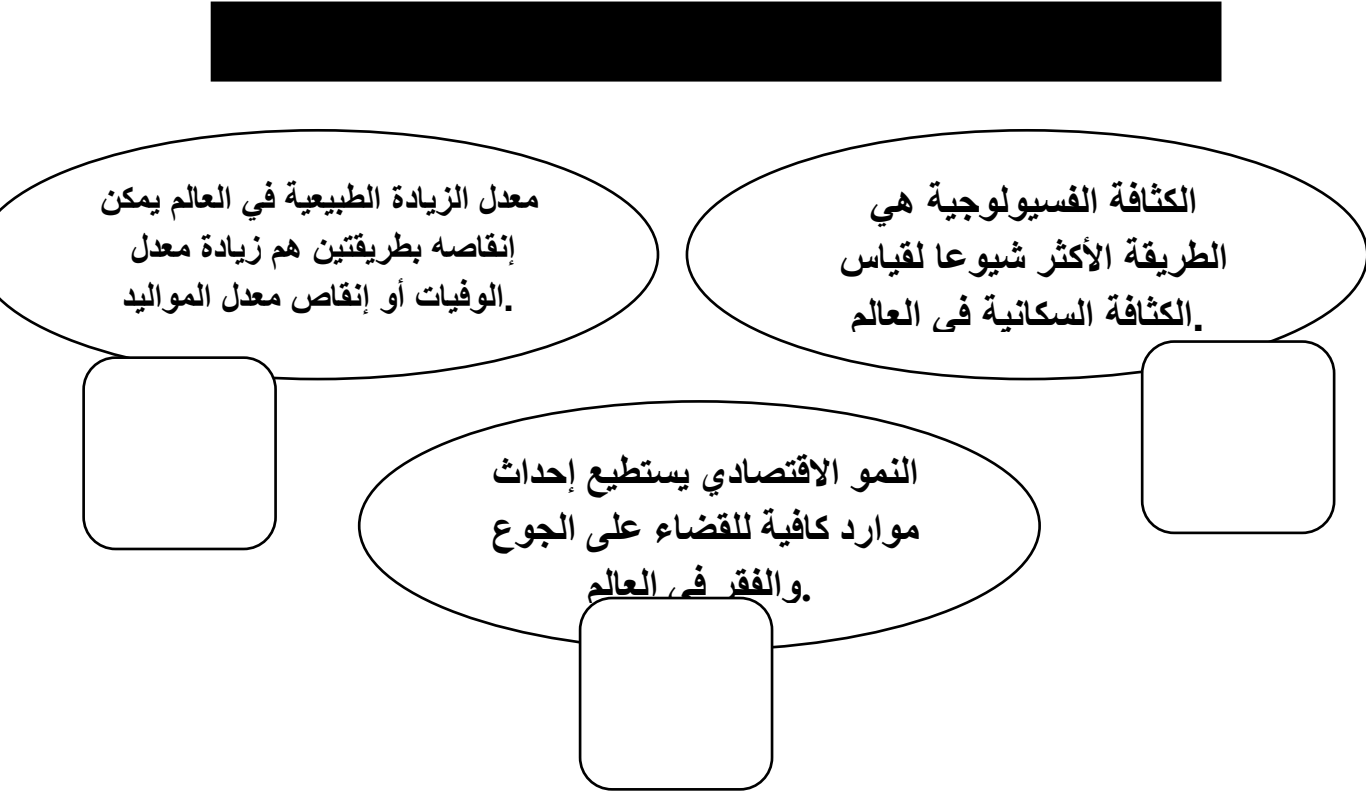
الهجرة تؤدي إلى زيادة السكان في كل  
.....

ما هي أبرز نتائج الهجرة الدولية للسكان؟

- ..... ●
- ..... ●
- ..... ●
- ..... ●
- ..... ●

.....

الموضوع: الكثافة السكانية – الاكتظاظ السكاني.



أكمل ما يلي:

- الكثافة السكانية = ..... / .....
- ..... = ..... / مساحة الأراضي الزراعية.
- الكثافة الحضرية = ..... / .....
- .....

الموضوع: العمران (1) – العمران (2).

**:أضغ علامة ( ) أمام العبارة الصحيحة وعلامة ( ) أمام العبارة الخاطئة**

☐

العمران الريفى هو كل تجمع بشرى يقل عدد سكانه عن ألفى نسمة ويعمل غالبيتهم بالزراعة والرعى.

☐

العمران المبعثر (المنعزل) يعرف بالقرية الثابتة وهى التى يعمل غالبية أهلها بزراعة الأرض.

☐

من خصائص المجتمع الحضري قوة العلاقات الاجتماعية بين سكانه.

تعاني المدن من مشكلات كثيرة أكتب خمسة منها:

.....

.....

.....

.....

.....



الموضوع: العمران (3).

مدن الإدارة والحكم:

.....  
.....  
.....  
.....  
.....

المدن الدينية:

.....  
.....  
.....  
.....  
.....

أكمل ما يلي بما يناسب:

- المدن التجارية تقوم عادة عند ..... و.....  
ومن أمثلتها ..... .
- من أمثلة المدن الصناعية: ..... بالولايات المتحدة وليون في .....  
و..... و..... في المملكة العربية السعودية.
- تعد ..... وظيفة لاحقة تستخدم لحماية الحياة المدنية  
و..... بخطر ما.

الموضوع: الموارد الطبيعية والبشرية – العلاقة بين السكان والموارد.

ما هي الإجراءات التي يجب أن تُتخذ للتغلب على عجز الموارد؟

- ..... ■
- ..... ■
- ..... ■
- ..... ■
- ..... ■

أضع علامة ( ) أمام العبارة الصحيحة وعلامة ( ) أمام العبارة الخاطئة:

☐

يعد الإنسان في الجغرافيا الاقتصادية هو العامل الإنتاجي الأول

☐

الموارد المتجددة هي الموارد المتجددة بطبيعتها كالقمح والنفط

☐

يُقصد بالموارد الطبيعية الإنسان من حيث انه المنتج والمستهلك وصاحب الخبرات.

الموضوع: العوامل الطبيعية المؤثرة في الإنتاج الاقتصادي.



كيف تؤثر التضاريس في كثافة السكان وتوزيعهم الجغرافي؟

.....  
.....  
.....

ما هو الدور الذي تلعبه التربة في الإنتاج الاقتصادي؟

.....  
.....  
.....



تختلف أقاليم العالم في كمية الضوء حيث تبلغ أعلاها عند القطبين وتقل مع الاتجاه نحو خط الاستواء (.....).

الحرارة المرتفعة تعمل على إبطاء عملية التمثيل الضوئي للنباتات نتيجة لجفاف حبوب اللقاح.

(.....)

الموضوع: العوامل البشرية المؤثرة في الإنتاج الاقتصادي.



اختلاف توزيع السكان لا يعني اختلاف في  
القوى العاملة.

يحدد حجم السوق بعدد السكان ومستوى  
دخلهم.

.....

.....

كلما كانت الطرق متوفرة أدى ذلك إلى  
سرعة انتقال السلع وانتشارها في الأسواق  
فـ، الوقت المناسب

.....

أبين دور التطور العلمي والتقدم التكنولوجي في الإنتاج الاقتصادي:

.....

.....

.....

.....

.....

.....

.....

.....

.....

أوراق عمل (الجغرافيا والتربية الوطنية 2 المستوى الخامس - النظام الفصلي)  
مدرسة ..... التاريخ: ..... / ..... / 14 هـ  
الاسم ..... الفصل: .....

---

.....

.....

الموضوع: الأنشطة الاقتصادية (1).

أصحح الخطأ إن وجد:

تصدر أمريكا الشمالية والوسطى قارات العالم في إنتاج الأقمشة.

التصحيح: .....

تصدر آسيا قارات العالم في إنتاج الأقمشة، إذ بلغت نسبة إنتاجها 31,6 من جملة إنتاج العالم.

التصحيح: .....

تزايد الاستثمار في الغابات:

.....  
.....  
.....  
.....

الموضوع: الأنشطة الاقتصادية (2).

أكمل ما يلي:

ينتشر الرعي التجاري في ..... وأستراليا وفي ..... وفي

.....

ظهرت الزراعة الراقية أول ما ظهرت في السهول الفيضية لأنهار ..... و .....  
و ..... و ..... و .....

ما هي أهم مناطق الرعي في العالم؟

..... ←

..... ←

..... ←

..... ←

الموضوع: الأنشطة الاقتصادية (3).



.....

.....


ما الفرق بين التعدين السطحي والتعدين الباطني؟

.....  
.....  
.....  
.....  
.....  
.....  
.....

.....  
.....  
.....  
.....  
.....  
.....  
.....



الموضوع: الأنشطة الاقتصادية (4) - الأنشطة الاقتصادية (5).



- .....  
• .....  
• .....

أكمل ما يلي:

- 1- الصناعة الحديثة: هي الصناعات التي تعتمد على .....  
..... وتنقسم إلى ثلاثة أنواع هي: .....  
و ..... و .....  
2- تتعدد أنواع السياحة ومنها: .....، .....، ..... ، وسياحة المؤتمرات،  
.....، .....، ..... و .....  
3- الصناعة هي .....  
.....

الموضوع: الأنشطة الاقتصادية (6).

أكمل ما يلي:

من أهمية التجارة:

- وسيلة هامة لتحريك المال وتداوله؛ إذ تعتبر العملية التجارية مصدر كسب الرزق للكثيرين.
- .....
- .....
- .....

ما الفرق بين كلاً من؟

التجارة الخارجية والتجارة الداخلية

.....  
.....  
.....  
.....  
.....  
.....  
.....  
.....  
.....  
.....

الفائض والعجز

.....  
.....  
.....  
.....  
.....  
.....  
.....  
.....  
.....  
.....

الموضوع: تعريف الدولة وعناصرها – مقومات الدولة الطبيعية (1).

ما هي العوامل التي يتوقف عليها الاعتراف الدولي بسيادة الدولة؟

- ..... ❖
- ..... ❖
- ..... ❖
- ..... ❖

أضع علامة ( ) أو ( ) أمام العبارات التالية:

- 1- يؤدي تجاور دول قوية مع ضعيفة إلى توجيه سياسية الأخيرة بما يتماشى مع جيرانها الأقوياء. ( )
- 2- تسمى الدول التي لا تشرف على بحار أو أي مسطحات مائية تسمى دول حبيس. ( )
- 3- يساعد الموقع بالنسبة لليابس والماء الدولة على اكتسابها شخصية خاصة ويحدد طبيعة مصالحها وحالتها الاقتصادية والسياسية. ( )

الموضوع: مقومات الدولة الطبيعية (2).

## ما الفرق بين كلاً من؟

### الشكل المستطيل للدولة:

.....  
.....  
.....  
.....  
.....

### الشكل المنتظم للدولة:

.....  
.....  
.....  
.....  
.....

أضع علامة ( ) أمام العبارة الصحيحة وعلامة ( ) أمام العبارة الخاطئة:

☐

الشكل المثقوب هو عدم اتصال رقعة الدولة ببعضها وتشتتها مما يكون عائقاً أمام الدولة في تآدية وظيفتها بشكل مثالي في حالة السلم والحرب.

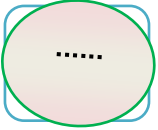

☐

تكمن أهمية التضاريس من ناحيتين الأولى تأثيره على مجهود الإنسان وما يترتب عليه من تطوره وتحضره والناحية الثانية تأثيره على العوامل الأخرى الطبيعية.

☐

جلب المناخ الجيد عبر التاريخ الاستعمار لبعض الدول وشجع على الهجرة إليها إما لتشابهه مع مناخ المستعمر أو لملائمته له.

## الموضوع: المقومات البشرية للدولة.



كلما انتشر السكان على مساحة الدولة بانتظام وكانت عاصمة الدولة ذات موقع متوسط كان ذلك مثالياً.



كلما كانت الأقليات منتشرة على رقعة الدولة ساعد ذلك على انفصالها عن السكان الآخرين.



يشكل سكان بعض الدول في غالبيتهم مجموعة واحدة بينما بعض الدول تضم أقليات نشأت لسيطرة شعوب أقوى منها على مناطقها.

أكتب دور الدين في ترابط وتوحيد الدول:

.....

.....

.....

.....

.....

.....

الموضوع: المقومات الاقتصادية للدول (1).



كيف يمكن تقسيم دول العالم اقتصادياً؟

- ..... ✓
- ..... ✓
- ..... ✓
- ..... ✓
- ..... ✓



توزيع الموارد المعدنية بين دول  
العالم.

.....  
.....  
.....  
.....

سيطرة فئة معينة من السكان على  
معظم الثروة.

.....  
.....  
.....  
.....

الموضوع: المقومات الاقتصادية للدول (2).

ما النتائج المترتبة على ما يلي؟

انخفاض سعر النفط في الدول التي تعتمد عليه كمصدر دخل.

.....  
.....  
.....  
.....

أضغ علامة ( ) أمام العبارة الصحيحة وعلامة ( ) أمام العبارة الخاطئة:

السكك الحديدية تتميز بأنها أسرع في الإنشاء من الطرق البرية  
ويمكن مدها في المناطق الوعرة وبأقل تكلفة

يتميز النقل المائي بأنه الأقل سعراً ولكنه يستغرق وقت أطول في  
وصول السلع

تعتبر القدرة الصناعية للدولة من عوامل قوتها السياسية فالدول  
العظمى اليوم هي في المقدمة صناعياً وسياسياً

الموضوع: الحدود السياسية للدولة (1).

ما الفرق بين كلاً من التخوم والحدود السياسية؟

**:التخوم**

**:الحدود السياسية**



### أكتب وظائف الحدود وأوضحها

.....

.....

[illegible]

□ □

■ ■ ■ ■ ■ ■ ■ ■ ■ ■

[illegible]

■ ■ ■ ■ ■ ■ ■ ■ ■ ■ ■ ■

[illegible]

■ ■ ■ ■ ■ ■ ■ ■ ■ ■ ■ ■

.....

.....

.....

.....

.....

.....

أضغ علامة ( ) أمام العبارة الصحيحة وعلامة ( ) أمام العبارة الخاطئة:

ما يميز المستنقعات والصحاري أنها كثيرة السكان وتمتد لمسافات تصلح أن تكون حداً سياسياً يفصل بين الدول

تعد الصحاري من الحواجز المثالية التي فصلت بين الحضارات القديمة

المياه الدولية:

المياه الإقليمية:

أكتب وظائف المياه الإقليمية مع توضيحها:

- .....  
.....
- .....  
.....
- .....  
.....
- .....  
.....

الموضوع: التخطيط الإقليمي.

ما هي أهمية التخطيط الإقليمي؟

.....  
.....  
.....

أجبني على ما يلي:

أكتب أهداف التخطيط الإقليمي:

- ..... •
- ..... •
- ..... •
- ..... •

الموضوع: الأسس الطبيعية للتخطيط الإقليمي.

أضع علامة ( ) أمام العبارة الصحيحة وعلامة ( ) أمام العبارة الخاطئة:

☐

أشكال السطح لا تؤثر على اتخاذ القرارات لدى المخططين فمعرفة  
بخرائط المكان تجعلهم أقل قدرة على التأثير الإيجابي في النشاط  
البشري.

☐

ينعكس المناخ على النشاط الاقتصادي والسبب في ذلك يعود إلى  
محدودية قدرة البشر على التحكم في هذا العامل.

☐

في الغابات النفضية والمخروطية ذات الأشجار الطويلة تنشط حرفة  
الرعي.

« ما النتائج المترتبة على ما يلي؟ »

تحويل بعض مناطق الغابات والحشائش لمناطق سكنية:

.....  
.....  
.....  
.....

الموضوع: الأسس البشرية للتخطيط الإقليمي

ما النتائج المترتبة على التخطيط الجيد المتكامل المبني على معرفة ثروات الإقليم وطبيعته الجغرافية؟

.....  
.....  
.....  
.....  
.....

أكتب الدور الذي يلعبه النقل في تحقيق التنمية:

.....  
.....  
.....  
.....

الموضوع: أنماط التخطيط الإقليمي الرئيسية (التخطيط السكاني) – التخطيط العمراني  
(1).

أضع علامة ( ) أمام العبارة الصحيحة وعلامة ( ) أمام العبارة الخاطئة:

☐

في حال وقوع التجمعات العمرانية عند التقاء الطرق البرية يطلق عليها  
الموقع العقدي البشري.

☐

المدينة هي تجمع سكاني صغير يمارس سكانه أنشطة بسيطة

.

☐

في المناطق ذات الحرارة العالية يفضل توفير الظل عن طريق  
تضييق الشوارع وتقريب المباني

أكتب ثلاثة من العوامل البشرية المؤثرة في التخطيط العمراني؟

.....  
.....

.....  
.....

.....  
.....

الموضوع: التخطيط العمراني (2).

أكمل ما يلي:

من أهداف تخطيط المدن:

- تجميل المدن و.....
- ..... الصناعية.
- .....
- .....
- تخطيط وتنظيم .....
- .....

أكتب عوامل اختلاف التركيب العمراني للمدن:

- .....
- .....
- .....
- .....

الموضوع: التخطيط التعديني – التخطيط الصناعي.

ما هي الخبرات الأساسية التي تتطلبها عمليات تنمية الموارد التعدينية؟

- .....
- .....
- .....
- .....
- .....

.....

.....

.....

.....



أوراق عمل (الجغرافيا والتربية الوطنية 2 المستوى الخامس - النظام الفصلي)  
مدرسة ..... التاريخ: ..... / ..... / 14 هـ  
الاسم ..... الفصل: .....

---

الموضوع: مدينتا الجبيل وينبع الصناعيتين.

ما هي أسباب تأسيس مدينتي الجبيل وينبع؟

- ..... (1)
- ..... (2)
- ..... (3)
- ..... (4)
- ..... (5)
- ..... (6)

الاستشعار عن بعد الأرضية (GPS) – أدوات الاستشعار عن  
ومكوناته.

.....

تبلغ مساحتها 103 ملايين متراً مربعاً تتميز بوقوعها على الساحل الجنوبي الغربي للبحر الأحمر وبقرتها من مضيق باب المندب والقرن الأفريقي والساحل الشرقي لإفريقيا.

.....

تم إنشاؤها على ساحل الخليج العربي تبعد 80 كيلومتراً شمال شرق مدينة الجبيل لتكون واحداً من أهم الموانئ المتخصصة في تصدير المنتجات المعدنية.

• ما هي الوحدات الرئيسية التي يتكون نظام تحديد المواقع العالمي ((GPS)؟

.....

.....

.....

الموضوع : عناصر الدقة في أجهزة (GPS) – الاستشعار عن بعد.



ما هي العوامل التي تؤثر في اختيار نوعية جهاز تحديد المواقع ((GPS)؟

1. ....
2. ....
3. ....
4. ....
5. ....

أملأ الفراغات التالية:

(العوامل التي تؤثر في الدقة الناتجة من الرصد بجهاز GPS):

1. أخطاء ذاتية في الأقمار . ....
2. ....
3. ....
4. أخطاء ناتجة من موقع الراصد .....
- .....

أوراق عمل (الجغرافيا والتربية الوطنية 2 المستوى الخامس - النظام الفصلي)  
مدرسة ..... التاريخ: ..... / ..... / 14 هـ  
الاسم ..... الفصل: .....

---

الموضوع: أدوات الاستشعار عن بعد ومكوناته – المساحة التصويرية.

الموضوع: إنتاج الخرائط من الصور الجوية

نطقة ما:

.....

.....

.....

.....

.....

اجيب على ما يلي.

ما هي .....

تقسم أجهزة الاستشعار إلى ثلاثة أنواع من حيث اعتمادها على مصدر الطاقة.

المستشعرات الفعالة هي التي تستشعر الطاقة المنعكسة والمنبثقة من المظاهر المدروسة (والصادرة من الشمس) مثل المستشعرات (SPOT) المحملة على متن القمر الصناعي، سهت

جهاز الاستشعار هو أداة يمكنها أن ترسل وتستقبل وتسجل الأشعة المنعكسة عن المادة المدروسة أو المنبثقة منها ضمن مجال طيفي واحد أو عدة مجالات طيفية.

## الموضوع: الصور والمرئيات الفضائية

### أملأ الفراغات التالية:

من مميزات الصورة الفضائية:

- تقدم معلومات أكثر عن الهدف المصوّر وخصائصه المختلفة.
- .....
- .....
- .....
- تتجاوز الحدود السياسية والعوائق الطبيعية.
- .....

أوضح العلاقة بين الصور الجوية والفضائية وعلاقتها بالخرائط.


.....

.....

.....

.....

الموضوع: نظم المعلومات الجغرافية.



نظام حاسوبي لجمع وإدارة ومعالجة البيانات ذات الطبيعة المكانية.

.....  
.....  
.....

أوضح تصنيف برامج الخرائط المستخدمة في الحاسب.

- ..... ●  
.....
- ..... ●  
.....
- ..... ●  
.....
- ..... ●  
.....



أوراق عمل (الجغرافيا والتربية الوطنية 2 المستوى الخامس - النظام الفصلي)  
مدرسة ..... التاريخ: ..... / ..... / 14 هـ  
الاسم ..... الفصل:

الموضوع: قواعد البيانات في نظم المعلومات الجغرافية.



..... ■

..... ■

..... ■

..... ■

..... ■

## الموضوع: تمثيل البيانات المكانية (1)

--

- .....
- .....
- .....
- .....
- .....

## ما هي خصائص نموذج البيانات الشبكية (النقطية)؟

## السلييات

[illegible]

## الإجاءيات

أوراق عمل (الجغرافيا والتربية الوطنية 2 المستوى الخامس - النظام الفصلي)  
مدرسة ..... التاريخ: ..... / ..... / 14 هـ  
الاسم ..... الفصل:

الموضوع: تمثيل البيانات المكانية (2) – تطبيقات نظم المعلومات الجغرافية.

### استخدام نظم المعلومات الجغرافية له فوائد عدة منها:

- [illegible]

علام الجديد ووسائله (1).

علام الجديد؟

هو نموذج يعرف سطح الأرض الحقيقي بما عليه من ظاهرات إلى الحاسب باستخدام الإحداثيات الأفقية (س (والرأسية) ص)

.....

.....

.....

الموضوع: مفهوم الإعلام الجديد ووسائله (2).

الإعلام الجديد هو عبارة عن تقنيات متطورة  
ترتبط بالانترنت وتعتمد على معطيات الإعلام  
والاتصال.

قواعد المعلومات

المواقع على الانترنت

مواقع التواصل  
الاجتماعي

ما المقصود بالتعريف التالي؟

بأنه

هو عبارة عن خدمات اجتماعية عن طريق الانترنت تقدم خدمة حسابات وصفحات للأشخاص عبارة عن مدونة بأعداد كلمات محدودة وتسمح بدمج الصوت والصورة والفيديو

الوسائل الاعلام الجديدة

عبارة عن برامج على المواقع تعرض فيها الآراء والأفكار بحرية تامة ويتم مناقشتها بشكل آني

- .....
- .....
- .....
- .....

أكتب خصائص الإعلام الجديد.

- (1) .....
- (2) .....
- (3) .....
- (4) .....
- (5) .....
- (6) .....
- (7) .....

الموضوع: سلبيات الإعلام الجديد.

للإعلام الجديد سلبيات هي:

- .....
- .....
- .....
- .....
- .....
- .....

أشرح دور الإعلام الجديد في تحريف وتزوير الحقائق.

- .....
- .....
- .....
- .....
- .....
- .....

الموضوع: وظائف الإعلام الجديد.

أجب على ما يلي:

من وظائف الإعلام الجديد:

- ..... ●
- ..... ●
- ..... ●
- ..... ●
- ..... ●
- ..... ●

أشرح الخدمات التي يقدمها الإعلام الجديد في مجالات التعليم والترفيه.

.....

.....

.....

.....

.....

.....