

تم تحميل هذا الملف من موقع المناهج السعودية



موقع المناهج المنهاج السعودي

* للحصول على أوراق عمل لجميع الصفوف وجميع المواد اضغط هنا

<https://www.almanahj.com/sa>

* للحصول على أوراق عمل لجميع مواد المستوى الخامس اضغط هنا

<https://almanahj.com/sa/14>

* للحصول على أوراق المستوى الخامس في مادة رياضيات ولجميع الفصول, اضغط هنا

<https://almanahj.com/sa/14math>

* للحصول على أوراق عمل لجميع مواد المستوى الخامس في مادة رياضيات الخاصة بـ الفصل الثاني اضغط هنا

<https://www.almanahj.com/sa/14math2>

* لتحميل كتب جميع المواد في جميع الفصول للمستوى الخامس اضغط هنا

<https://www.almanahj.com/sa/grade14>

للحصول على جميع روابط الصفوف على تلغرام وفيسبوك من قنوات وصفحات: اضغط هنا

<https://t.me/sacourse>

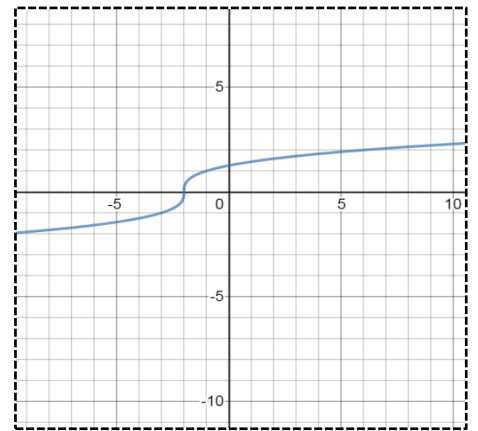
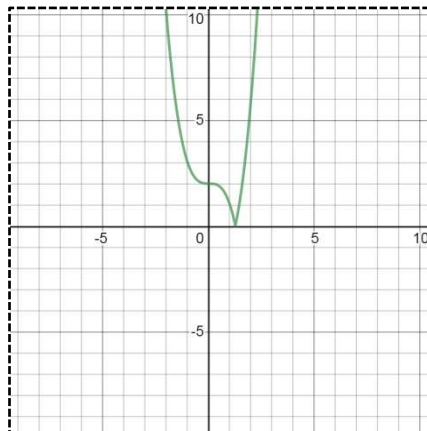
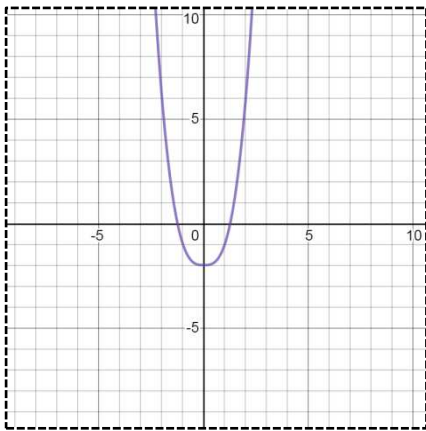
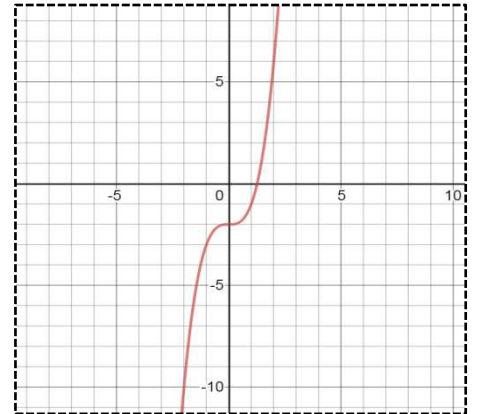
ارجو لكم التوفيق :

استعمل التمثيل البياني المجاور لتحديد الدوال الثلاث التالية

• $|f(x)|$

• $f(|x|)$

• $f^{-1}(x)$



استعمل التمثيل البياني المجاور لتحديد الدوال الثلاث التالية

• $|f(x)|$

• $f(|x|)$

• $f^{-1}(x)$

