


تم تحميل هذا الملف من موقع المناهج السعودية



الملف اختبار تشخيصي سكره الشمري

[موقع المناهج](#) ← [المناهج السعودية](#) ← [الصف الثاني](#) ← [علوم](#) ← [الفصل الثالث](#)

المزيد من الملفات بحسب الصف الثاني والمادة علوم في الفصل الثالث

<a href="#">أسئلة اختبار نهائي</a>	1
<a href="#">نموذج تقويمي ختامي للمهارات</a>	2
<a href="#">بوربونت استعمال الطاقة</a>	3
<a href="#">اختبار منتصف الفصل</a>	4
<a href="#">اختبار قياس المهارات</a>	5


## اختبار تشخيصي لمادة العلوم الصف الثاني لعام ١٤٤٥ هـ

(درجتان لكل فقرة)

١٠ درجات

\* / نضع علامة (  $\frac{1}{4}$  ) تحت الأجوبة الصحيحة :

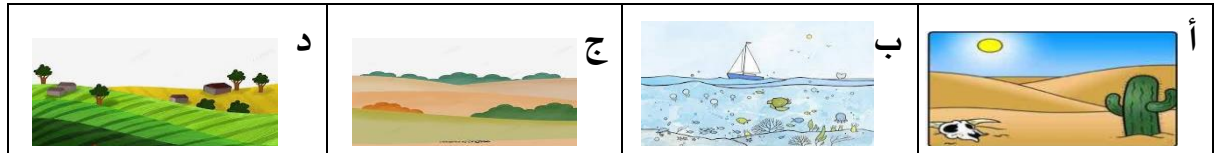
١ / أي المراحل التالية تمثل بداية السلسلة الغذائية :



٢ / كيف تختلف النباتات عن باقي المخلفات ؟

أ	تحتل مكان صغير	ب	تحتاج للهواء لتنمو	ج	تحتاج للماء لتعيش	د	تنتج غذاءها من الشمس
---	----------------	---	--------------------	---	-------------------	---	----------------------

٣ / أي من هذه المواطن تعيش فيها السحلية :



٤ / مالخاصية التي ساعدت الدب القطبي على العيش في المنطقة القطبية :

أ	الفرو السميك	ب	العيون الحادة	ج	الحراشيف	د	الاسنان الحادة
---	--------------	---	---------------	---	----------	---	----------------

٥ / المرحلة الأخيرة من دورة حياة الفراشة هي :

