

شكراً لتحميلك هذا الملف من موقع المناهج السعودية



اختبار تجريبي للفترة الثانية

[موقع المناهج](#) ← [المناهج السعودية](#) ← [الصف الثاني](#) ← [رياضيات](#) ← [الفصل الثالث](#) ← [الملف](#)

التواصل الاجتماعي بحسب الصف الثاني



روابط مواد الصف الثاني على تلغرام

[الرياضيات](#)

[اللغة الانجليزية](#)

[اللغة العربية](#)

[التربية الاسلامية](#)

المزيد من الملفات بحسب الصف الثاني والمادة رياضيات في الفصل الثالث

مجموعة اختبارات نهائية	1
ملخص رائع لدروس المنهج	2
اختبار تجريبي للفترة الثانية	3
اختبار منتصف الفصل	4
الدرس الثالث الملتزمات اللترات	5

المملكة العربية السعودية
وزارة التعليم
إدارة التعليم بمحافظ عسير
مدرسة الكسائي الابتدائية



الدرجة: _____

توقيع ولي الأمر :

اختبار تجريبي للفترة الثانية الفصل الدراسي الثالث ١٤٤٤ هـ

الصف: الثاني الابتدائي

المادة: رياضيات

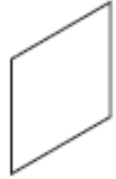
اسم الطالب:

السؤال الأول: سم الأشكال التالية ، وحدد عدد أضلاعها وزواياها.

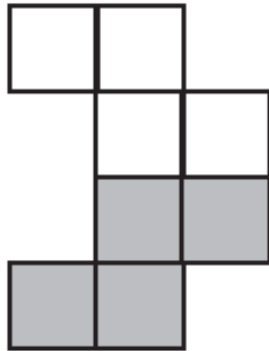


تم تحميل هذا الملف من
موقع المناهج السعودية

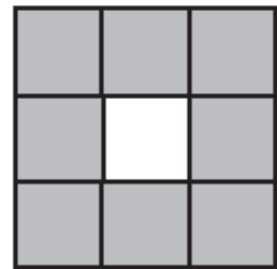
alManahj.com/sa



السؤال الثاني : اوجد مساحة الأجزاء المظللة فيما يلي :



وحداتٍ مربعةٍ



وحداتٍ مربعةٍ

السؤال الثالث : ضع دائرة حول الوحدة الأنسب لقياس سعة كل وعاء فيما يلي:

نتر	مللتر	
نتر	مللتر	

السؤال الرابع: (أ) اوجد نتائج الجمع التالي :



$$\begin{array}{r} 514 \\ + 233 \\ \hline \end{array}$$

نم تحميل هذا الملف من

موقع المناهج السعودية

$$\begin{array}{r} 149 \\ + 366 \\ \hline \end{array}$$

alManahj.com/sa

(ب) اوجد نتائج الطرح التالي :

$$\begin{array}{r} 425 \\ - 374 \\ \hline \end{array}$$

$$\begin{array}{r} 847 \\ - 161 \\ \hline \end{array}$$