

تم تحميل هذا الملف من موقع المناهج السعودية



\* للحصول على أوراق عمل لجميع الصفوف وجميع المواد اضغط هنا

<https://www.almanahj.com/sa>

\* للحصول على أوراق عمل لجميع مواد الصف الثاني اضغط هنا

<https://www.almanahj.com/sa/2>

\* للحصول على أوراق الصف الثاني في مادة رياضيات وجميع الفصول, اضغط هنا

<https://www.almanahj.com/sa/2>

\* للحصول على أوراق عمل لجميع مواد الصف الثاني في مادة رياضيات الخاصة بـ اضغط هنا

<https://www.almanahj.com/sa/23>

\* لتحميل كتب جميع المواد في جميع الفصول للـ الصف الثاني اضغط هنا

<https://www.almanahj.com/sa/grade2>

للحصول على جميع روابط الصفوف على تلغرام وفيسبوك من قنوات وصفحات: اضغط هنا

<https://t.me/sacourse>

almanahj.com/sa

المنهج السعودية

# الصف الثاني



قائدة المدرسة ب ٥٣  
سلمى الثقفي

معلمة المادة  
جواهر البقمي

مشرفة الصفوف الأولية  
آمنة السيد



## اختبار قبلي

الاسم : ..... الصف: الثاني اليوم: ..... التاريخ: / / ١٤٤١هـ

almanahj.com/sa

المنهج السعودية

• تحديد القيمة المنزلية لرقم في عدد (١٠٠٠).

معياري رقم (١)

• ترتيب الأعداد ضمن (١٠٠٠).

معياري رقم (٥)

الدرجة	رقم السؤال
	١
	٢
	٣
	الدرجة المستحقة

قائدة المدرسة ب ٥٣  
سلمى الشقي

معلمة المادة  
جواهر البقمي

مشرفة الصفوف الأولية  
آمنة السيد



الطالب/ة: ..... الصف: الثاني اليوم: ..... التاريخ: / / ١٤٤١هـ

### اختبار قبلي

الدرجة المستحقة

٢٠

المهارة	معياري رقم
تحديد القيمة المنزلية لرقم في عدد (١٠٠٠).	١
ترتيب الأعداد ضمن (١٠٠٠).	٥

• السؤال الأول: أحيط القيمة المنزلية للرقم المظلل:-

٦

٢٥ ٥ أو ٥٠	٢٧ ٢ أو ٢٠	٦٥ ٦ أو ٦٠
٨٦ ٨ أو ٨٠	٣٩ ٩ أو ٩٠	٤١ ٤ أو ٤٠

• السؤال الثاني: اكتب الأعداد المفقودة بالفراغات التالية :-

٦

.....، ٤٢، ٤١	٩٨، .....، ٩٦	٥٢، ٥٣، .....	١٦، ١٧، .....	٢٢، .....، ٢٠	١٣، .....، ١٥
---------------	---------------	---------------	---------------	---------------	---------------

• السؤال الثالث: أرتب الأعداد التالية من الأكبر إلى الأصغر:-

٨

○	○	○	○	←	٨٣	٧٧	٢٤	٥٨	(أ)
○	○	○	○	←	٦٦	٣٠	٤٥	١٢	(ب)



## اختبار بعدي

الاسم : ..... الصف: الثاني اليوم: ..... التاريخ: / / ١٤٤١هـ

almanahj.com/sa

المنهج السعودية

• تحديد القيمة المنزلية لرقم في عدد (١٠٠٠).

معياري رقم (١)

• ترتيب الأعداد ضمن (١٠٠٠).

معياري رقم (٥)

الدرجة	رقم السؤال
	١
	٢
	٣
	٤
	الدرجة المستحقة

قائدة المدرسة ب ٥٣  
سلمى الشقي

معلمة المادة  
جواهر البقي

مشرفة الصفوف الأولية  
آمنة السيد



الطالب/ة: ..... الصف: الثاني اليوم: ..... التاريخ: / / ١٤٤١ هـ

الدرجة المستحقة

اختبار بعدي

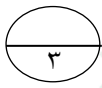
٢٠

معياري رقم (١) تحديد القيمة المنزلية لرقم في عدد ضمن (١٠٠٠).

معياري رقم (٥) ترتيب الأعداد ضمن (١٠٠٠).



السؤال الأول: أحيط حول القيمة المنزلية للرقم الذي تحته خط:-



(٨ أو ٨٠)

أ. ٩ ٨

(٤ أو ٤٠)

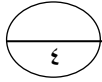
ب. ٤ ٢

(٥ أو ٥٠)

ج. ٤ ٥



السؤال الثاني:



أضع علامة (✓) أو (x) أمام العبارات التالية:-

أ. العدد ٦٩ يلي العدد ٦٨ ( )

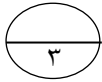
ب. القيمة المنزلية للعدد ٥ في الرقم (٦٥) هي عشرات ( )

ج. الأعداد (٢٠، ٣٠، ٥٠) مرتبة من الأكبر إلى الأصغر ( )

د. العدد ١ في الرقم ١٥ في منزلة العشرات ( )



السؤال الثالث: أصلُ العمود (أ) بما يناسبه من العمود (ب):-



(ب)

١٠  
تنازلي  
تصاعدي  
٧٨

(أ)

١- القيمة المنزلية للعدد الذي تحته خط (١٣)

٢- الأعداد (٩٣، ٩٦، ٩٨) مرتبة بطريقة

٣- العدد ٧٧ يليه

١٠

• السؤال الرابع:

اكتب الأعداد المفقودة في المربعات الفارغة بالترتيب من الأصغر إلى الأكبر:-

٤٥	٤٤	٤٣	٤٢	٤١
٥٥				٥١
٦٥		٦٣		٦١
٧٥				٧١
٨٥		٨٣		٨١



انتهت الاسئلة