

اليوم : الاثنين

الدرجة المستحقة



المملكة العربية السعودية

إدارة التربية والتعليم بتبوك

المدرسة الابتدائية 22

التاريخ : 1435/ 5/9 هـ

الحصة : الثانيه والثالثة

المادة: رياضيات

## الاختبار الدوري الاولي لمادة الرياضيات للصف الثاني ابتدائي 1435


الصف الثاني ابتدائي ( )

اسم العصفورة الجميلة :


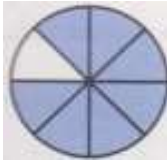



### السؤال الاول :

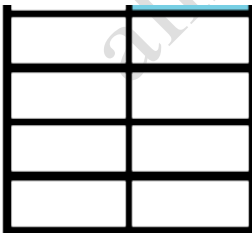
أ/ اكتب الوقت الذي تشير إليه الساعة



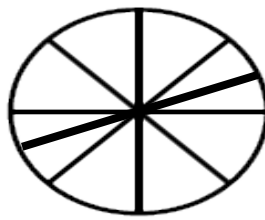
ب/ اكتب الكسر الدال على الجزء المظلل:




ج/ ألون الاجزاء التي تمثل الكسر المكتوب



8



7



1



## السؤال

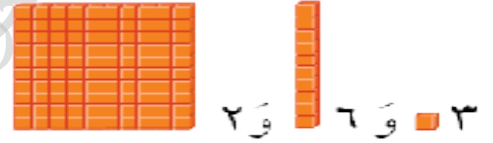
أ/ اكتب العدد في صورة مئات وعشرات وآحاد

مئات - عشرات - آحاد



ب/ أملأ لوحة المنازل و اكتب العدد :

مئات	عشرات	آحاد



ج/ قارن بين الكسرين < او > .



د/ اكتب العدد .

$$\dots\dots\dots = 300 + 70 + 6$$

هـ/ أقرن بين العددين ثم اكتب الإشارة المناسبة <, >, =

$$207 \quad \bigcirc \quad 203$$

$$794 \quad \bigcirc \quad 794$$

$$790 \quad \bigcirc \quad 842$$

و/اكتب العدد بالكلمات :

900

بالتوفيق يا حلوات

معلمة الرياضيات :



موقع المناهج السعودية [www.alManahj.com/sa](http://www.alManahj.com/sa)