

تم تحميل هذا الملف من موقع المناهج السعودية



موقع المناهج المنهاج السعودي

* للحصول على أوراق عمل لجميع الصفوف وجميع المواد اضغط هنا

<https://www.almanahj.com/sa>

* للحصول على أوراق عمل لجميع مواد الصف الثاني اضغط هنا

<https://almanahj.com/sa/2>

* للحصول على جميع أوراق الصف الثاني في مادة علوم ولجميع الفصول, اضغط هنا

<https://almanahj.com/sa/2science>

* للحصول على أوراق عمل لجميع مواد الصف الثاني في مادة علوم الخاصة بـ الفصل الأول اضغط هنا

<https://www.almanahj.com/sa/2science1>

* لتحميل كتب جميع المواد في جميع الفصول للـ الصف الثاني اضغط هنا

<https://www.almanahj.com/sa/grade2>

للحصول على جميع روابط الصفوف على تلغرام وفيسبوك من قنوات وصفحات: اضغط هنا

<https://t.me/sacourse>

مهارات علوم الصف الثاني الفترة ١+٢

اسم الطالبة:

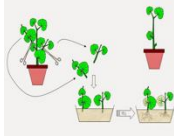
رقم	المهارة	اتقنت/لم تتقن
١	الطريقة العلمية	

رتبي بالأرقام الطريقة العلمية التي يستخدمها العلماء:

اسأل	
ألاحظ	
أضع خطة	
أستنتج	
أسجل نتائج	

رقم	المهارة	اتقنت/لم تتقن
٢	تفسير اعتبار النباتات مخلوقات حية	

تعتبر النباتات مخلوقات حية لانها:



رقم	المهارة	اتقنت لم تتقن
٣	تعدد حاجات النبات	

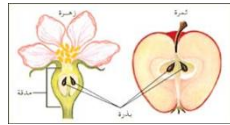
تحتاج المخلوقات الحية الى:



رقم	المهارة	اتقنت /لم تتقن
٤	وصف مبسط للبذرة مع بيان مصدرها	

اكمل:

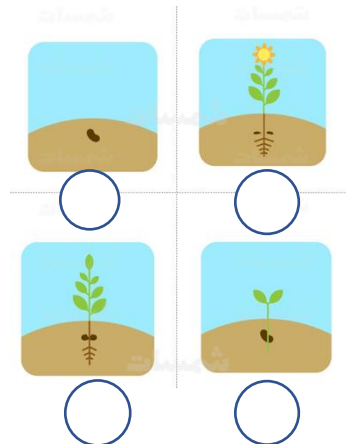
(١) يسمى الجزء من النبات الذي ينمو ويصبح نباتاً جديداً ب.....



(٢) مصدر البذرة هو

رقم	المهارة	اتقنت/لم تتقن
٥	ترتيب مجموعة صور لمراحل دورة حياة نبات ما	

رتبي مراحل نمو النبات بالأرقام:

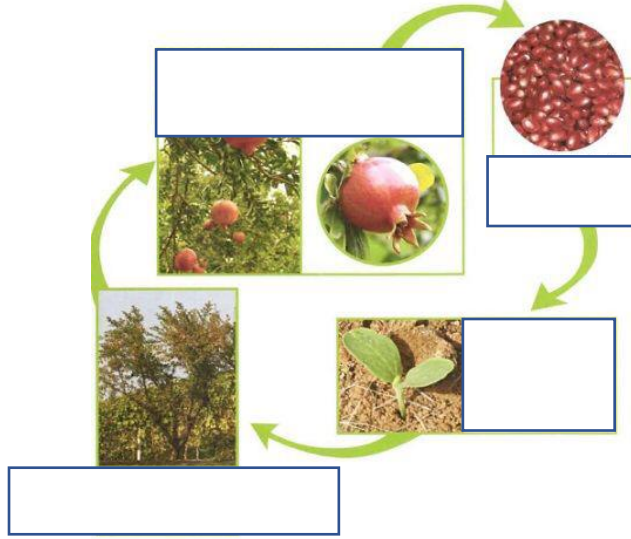


مهارات علوم الصف الثاني الفترة ١+٢

اسم الطالبة:

رقم	المهارة	اتقنت/لم تتقن
٦	دورة حياة الرمان	

حددي البيانات التالية في دورة حياة الرمان:
(بذرة - بادرة - نبتة مكتملة النمو - الازهار تتحول الى ثمار)



رقم	المهارة	اتقنت/لم تتقن
٧	تصنيف الحيوانات والمقارنة بينها تبعا لصفاتهما الجسمية من خلال قراءة صور	

اكمل الجدول بمثال واحد ثم صلي كل مثال بصفاته الجسمية:

التصنيف	مثال	الصفات الجسمية
طيور		تبيض وتعيش على اليابسة
برمائيات		يغطي جسمها الريش
ثدييات		لها ستة ارجل وقرون استشعار
حشرات		تلد وتعتني بصغارها
اسماك		تتنفس بالخياشيم
زواحف		يغطي جسمها حراشيف




س: من الصور السابقة ضعي دائرة حول الحيوانات الفقارية فقط؟

مهارات علوم الصف الثاني الفترة ١ + ٢

اسم الطالبة:

رقم	المهارة	اتقنت/لم تتقن
٨	ترتيب مراحل دورة حياة حيوان ما من خلال الصور	


رتبي دورة حياة الحيوانات التالية :




رقم	المهارة	اتقنت/لم تتقن
٩	المقارنة بين دورة حياة حيوانين مختلفين من خلال الصور	

اكمل مراحل النمو :


دورة حياة الماعز



مَاعِزٌ مُكْتَمِلُ النَّمُو




يَتَكَوَّنُ صَغِيرُ المَاعِزِ هِي بَطْنُ أُمِّهِ.




مَاعِزٌ حَدِيثُ الوِلَادَةِ


دورة حياة الدجاج




دجاجة مكتملة النمو



تفقس



تفقس



تفقس

رقم	المهارة	اتقنت/لم تتقن
١٠	توضيح كيفية استخدام بعض الحيوانات لمواطنها	

ضعي الكلمة المناسبة في الفراغ المناسب:

(الاحتباء - تبني - النوم)

١) يستخدم الضب جحره ل..... ٢) تستخدم الارانب جحورها ل..... من الثعابين

٣)..... السناجب مساكنها اعلى الأشجار.

مهارات علوم الصف الثاني الفترة ١ + ٢

اسم الطالبة:

رقم	المهارة	اتقنت/لم تتقن
١١	توضح كيفية استخدام بعض النبات لموطنة	

ضعي علامة صح او خطأ:

- (١) النباتات التي تعيش في الأماكن الجافة تحتفظ بالماء ()
 (٢) النباتات التي تعيش في الأماكن الرطبة تتخلص من الماء الزائد ()

رقم	المهارة	اتقنت/لم تتقن
١٢	تكوين سلسلة غذائية في موطن ما من خلال مجموعة من الصور	
١٣	تحديد الفريسة والمفترس في السلسلة الغذائية	

(١)رتبي السلسلة الغذائية التالية:

(٢)ضعي دائرة حول فريسة واحدة وخط تحت مفترس واحد فقط:



رقم	المهارة	اتقنت/لم تتقن
١٤	تحدد بعض أنواع المواطن	

صلي بين كل موطن مع صورته:

عشبي رطب	عشبي دافئ	حار وجاف	بارد ومثلج

رقم	المهارة	اتقنت/لم تتقن
١٥	التمثيل لبعض المخلوقات الحية التي تعيش في مواطن مختلفة	

اختراري الإجابة الصحيحة:

- (١) حيوان يعيش في المنطقة القطبية: (جمل - الدب القطبي - القطه.)
 (٢) حيوان يعيش في الغابة: (الأسد - البطريق - الحوت)
 (٣) حيوان يعيش في الصحراء الحارة (بطة - جمل - سمكة)

رقم	المهارة	اتقنت/لم تتقن
١٦	تسمية بعض اشكال اليابسة	

اختراري الإجابة الصحيحة من بين الأقواس:

ماذا تمثل هذه الصور:		
(. تلال - سهل - وادي)	(تلال - جبل - وادي)	(تلال - جبال - سهل)

مهارات علوم الصف الثاني الفترة ١ + ٢

اسم الطالبة:

رقم	المهارة	اتقنت/لم تتقن
١٧	تقديم كتابة حول ترشيد استهلاك الماء	

تقوم الطالبة بعمل مطوية أو بحث أو مقال أو بطاقة حول ترشيد الماء

رقم	المهارة	اتقنت/لم تتقن
١٨	معرفة مفهوم الصخور والمعادن	

اكمل الفراغ بوضع الكلمات المناسبة:




(صخور - تربة - معادن - ماء)

(١) هي أشياء غير حية موجودة في الأرض.....

(٢) هي أجزاء صلبة غير حية تتكون منها الصخور.....

رقم	المهارة	اتقنت/لم تتقن
١٩	تعدد بعض الأنواع المختلفة من التربة	

صلي:

		تربة طينية
		تربة رملية
		تربة سطحية زراعية