

تم تحميل هذا الملف من موقع المناهج السعودية



* للحصول على أوراق عمل لجميع الصفوف وجميع المواد اضغط هنا

<https://www.almanahj.com/sa>

[2/sa/com.almanahj//:https](https://www.almanahj.com/sa/2)

* للحصول على أوراق عمل لجميع مواد الصف الثاني اضغط هنا

* للحصول على جميع أوراق الصف الثاني في مادة رياضيات ولجميع الفصول, اضغط هنا

[https://almanahj.com/sa/2](https://www.almanahj.com/sa/2)

* للحصول على أوراق عمل لجميع مواد الصف الثاني في مادة رياضيات الخاصة بـ اضغط هنا


<https://www.almanahj.com/sa/23>

* لتحميل كتب جميع المواد في جميع الفصول للـ الصف الثاني اضغط هنا

<https://www.almanahj.com/sa/grade2>

[sacourse/me.t//:https](https://www.almanahj.com/sa/course)

للحصول على جميع روابط الصفوف على تلغرام وفيسبوك من قنوات وصفحات: اضغط هنا



almanahj.com/sa
المنهاج السعودية

أَسْتَعِدُّ

فِكْرَةُ الدَّرْسِ

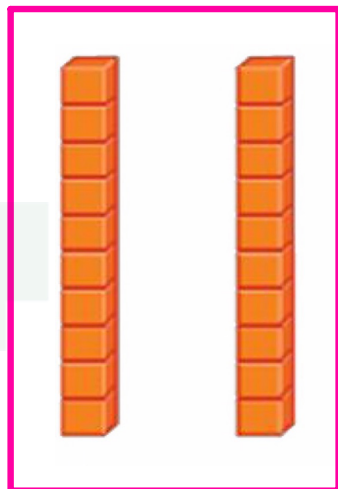
أَجْمَعُ الْأَحَادَ
لِأَكُونُ الْعَشْرَاتِ.

المُفْرَدَاتُ

الأحادُ

العشراتُ

العشراتُ



الأحادُ

الأحادُ: المنزلة الأولى في العدد، ووحدها تساوي (١).

العشراتُ: المنزلة الثانية في العدد، ووحدها تساوي (١٠) من الأحاد.

الأحاد والعشرات ١-١

٣٢



الأحاد والعشرات ١-١

٤٥



الأحاد والعشرات ١-١

٨٠



١-١ الأحاد والعشرات

صفحة ١٠

أَجْمَعُ ١٠ آحَادٍ لِأَكُونُ عَشْرَةً وَاحِدَةً:



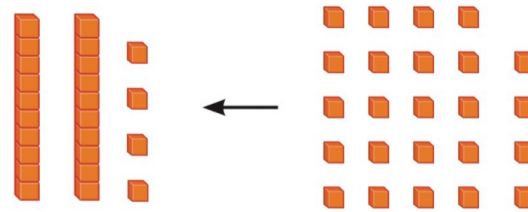
٧٠ آحَادًا = _____ عَشْرَاتٍ

almanahj.com/sa

٩٠ آحَادًا = _____ عَشْرَاتٍ

١٠ آحَادٍ = _____ عَشْرَةً

أَجْمَعُ آحَادًا وَعَشْرَاتٍ أَيضًا:



٢٤ تَعْنِي ٤ آحَادٍ
و ٢ عَشْرَاتٍ.

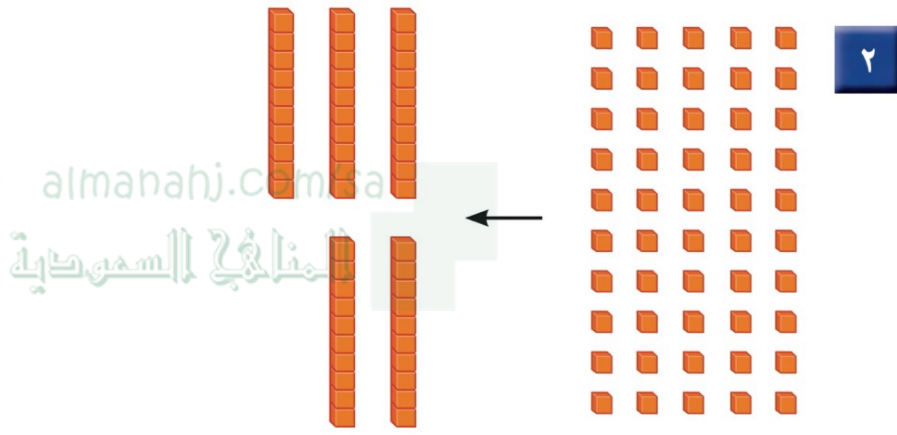
٢٤ آحَادًا = _____ آحَادٍ وَ _____ عَشْرَاتٍ = ٢٠ + ٤ = _____

الأحاد والعشرات

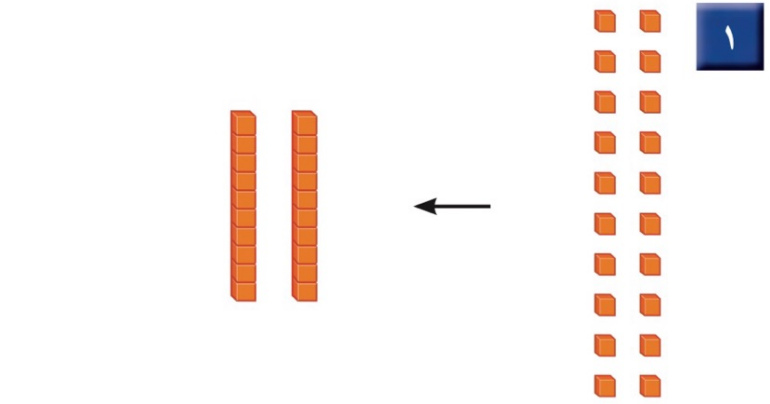
١-١

أتأكد

صفحة ١١



عشرات _____ = أحادًا _____



الأحاد والعشرات

١-١


آتأكد



صفحة ١١

صفحة ١١

أكتب عدد الأحاد والعشرات فيما يأتي، ثم أكتب العدد:



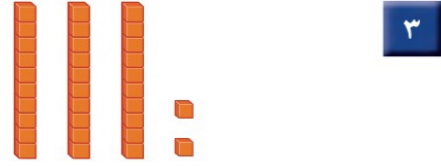
٤

almanahj.com/s

العشرات

أحاد

$$\underline{\hspace{2cm}} = \underline{\hspace{2cm}} + \underline{\hspace{2cm}}$$




٣

عشرات

أحاد

$$\underline{\hspace{2cm}} = \underline{\hspace{2cm}} + \underline{\hspace{2cm}}$$

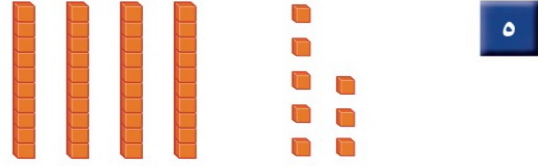


٦

عشرات

أحاد

$$\underline{\hspace{2cm}} = \underline{\hspace{2cm}} + \underline{\hspace{2cm}}$$



٥

عشرات

أحاد

$$\underline{\hspace{2cm}} = \underline{\hspace{2cm}} + \underline{\hspace{2cm}}$$

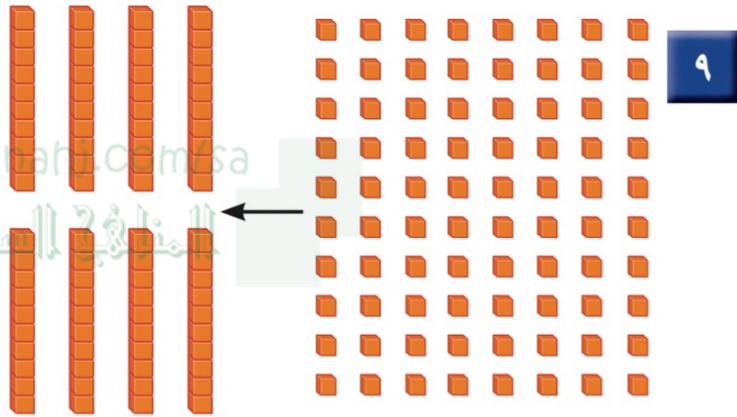
الأحاد والعشرات

١-١


صفحة ١٢

أَتَدَرِّبُ

أَكْتُبُ العَدَدَ :



عَشْرَاتٍ _____ = أَحَادًا _____



عَشْرَاتٍ _____ = أَحَادًا _____

الأحاد والعشرات

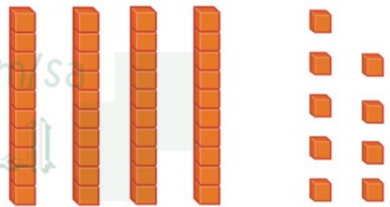
١-١

أَتَدَرِّبُ

صفحة ١٢

أَكْتُبْ عَدَدَ الْأَحَادِ وَالْعَشْرَاتِ فِيمَا يَأْتِي، ثُمَّ أَكْتُبْ الْعَدَدَ:


١١



عَشْرَاتٍ _____ أَحَادٍ _____

_____ = _____ + _____

١٠



عَشْرَاتٍ _____ أَحَادٍ _____

_____ = _____ + _____

almanahj.com/sa
المنهج السعودية



الواجب
في منصة مدرستي

