

روابط مجموعات المناهج السعودية

كل ما يحتاجه الطالب في جميع الصفوف من أوراق عمل واختبارات ومذكرات, يجده هنا في الروابط التالية لأفضل مواقع المناهج السعودية:

القناة الرسمية لموقع المناهج السعودية : www.almanahj.com/sa

روابط مجموعات الواتساب

[الصف الأول الابتدائي](#)

[الصف الثاني الابتدائي](#)

[الصف الثالث الابتدائي](#)

[الصف الرابع الابتدائي](#)

[الصف الخامس الابتدائي](#)

[الصف السادس الابتدائي](#)

[الصف الأول متوسط](#)

[الصف الثاني متوسط](#)

[الصف الثالث متوسط](#)

[الصف الأول الثانوي](#)

[الصف الثاني الثانوي العلمي](#)

[الصف الثاني الثانوي الأدبي](#)

[الصف الثالث الثانوي العلمي](#)

[الصف الثالث الثانوي الأدبي](#)

[مجموعة أخبار التربية](#)

روابط مجموعات التلغرام

[الصف الأول](#)

[الصف الثاني](#)

[الصف الثالث](#)

[الصف الرابع](#)

[الصف الخامس](#)

[الصف السادس](#)

[الصف الأول متوسط](#)

[الصف الثاني متوسط](#)

[الصف الثالث متوسط](#)

[الصف الأول الثانوي](#)

[الصف الثاني الثانوي الأدبي](#)

[الصف الثاني الثانوي العلمي](#)

[الصف الثالث الثانوي الأدبي](#)

[الصف الثالث الثانوي العلمي](#)

[المناهج السعودية](#)

نموذج رقم (3)

الاختبار الدوري للصف الثاني الإبتدائي مادة الرياضيات الفترة الرابعة

المملكة العربية السعودية
وزارة التعليم
مكتب التربية والتعليم بمحافظة
الجبيل
قسم الصفوف الأولية



وزارة التعليم
Ministry of Education

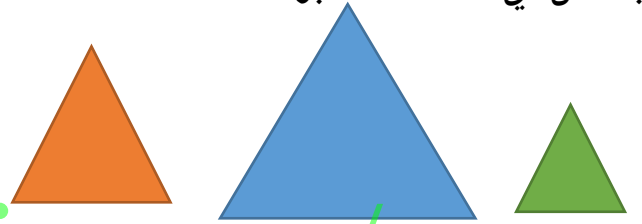


اسم الطالبة المدرسة الصف

الرقم	رقمه	المقارنة بين مساحات أشكال مختلفة وترتيبها			المعيار
39		متقن	متقن	متقن	متقن
		متقن	متقن	غير متقن	ملاحظة
		من 90% إلى أقل من 100%	من 80% إلى أقل من 90%	أقل من 80%	100%

السؤال الأول:

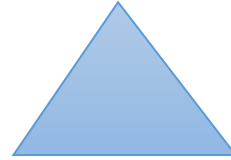
أرتب الأشكال حسب مساحتها مبتدئة
بالشكل ذي المساحة الأكبر:



.....
almanahj.com/sa

الرقم	رقمه	تمييز الأشكال الهندسية المستوية (المربع- المستطيل-المثلث-الدائرة-شبه المنحرف-السداسي) ووصفها حسب عدد أضلاعها ورؤوسها			المعيار
35		متقن	متقن	متقن	متقن
		متقن	متقن	غير متقن	ملاحظة
		من 90% إلى أقل من 100%	من 80% إلى أقل من 90%	أقل من 80%	100%

السؤال الثاني: اجيبي عما يلي:



اسم الشكل
عدد أضلاعه
عدد رؤوسه:

الرقم	رقمه	المقارنة بين شكلين مستويين وبين مجسمين			المعيار
36		متقن	متقن	متقن	متقن
		متقن	متقن	غير متقن	ملاحظة
		من 90% إلى أقل من 100%	من 80% إلى أقل من 90%	أقل من 80%	100%

السؤال الثالث: اجيبي عما يلي:



المجسم هو
حرفاً و..... رؤوس



المجسم هو
حرفاً و..... رؤوس



المعيار	قياس الطول وتقديره باستخدام وحدات غير قياسية، مسطرة السنتيمترات			رقمه	38
متقن	<input type="checkbox"/> متقن	<input type="checkbox"/> متقن	<input type="checkbox"/> غير متقن	ملاحظة	<input type="checkbox"/>
100%	من 90% إلى أقل من 100%	من 80% إلى أقل من 90%	أقل من 80%		

السؤال الرابع:



قيسي طول القلم مستعملة وحدة القياس

القياس تقريباً



قيسي طول هذا القلم بالسنتيمترات

القياس سنتمتراً

المعيار	حل المسائل الرياضية باستخدام استراتيجيات ومهارات مناسبة مع اتباع الخطوات الاربعة			رقمه	2
متقن	<input type="checkbox"/> متقن	<input type="checkbox"/> متقن	<input type="checkbox"/> غير متقن	ملاحظة	<input type="checkbox"/>
100%	من 90% إلى أقل من 100%	من 80% إلى أقل من 90%	أقل من 80%		

السؤال الخامس:

لضفدع أربعة أرجل، ولضفدعان ثماني أرجل . فكم رجلاً لثلاثة ضفادع ؟

الفهم: **المعطيات:** الضفدع له أرجل، والضفدعان لهما أرجل

المطلوب: كم.....؟
اخطط : استعمل انشاء.....
الحل :

عدد الضفادع	ضفدع	ضفدعان	ثلاث ضفادع
عدد الأرجل	4	8	

