

شكراً لتحميلك هذا الملف من موقع المناهج السعودية



اختبار تشخيصي لبرنامج تعزيز المهارات

[موقع المناهج](#) ← [المناهج السعودية](#) ← [الصف الثاني](#) ← [رياضيات](#) ← [الفصل الثالث](#) ← [الملف](#)

تاريخ نشر الملف على موقع المناهج: 11:29:17 2023-03-18

التواصل الاجتماعي بحسب الصف الثاني



المزيد من الملفات بحسب الصف الثاني والمادة رياضيات في الفصل الثالث

مجموعة اختبارات نهائية	1
ملخص رائع لدروس المنهج	2
اختبار تحريبي للفترة الثانية	3
اختبار منتصف الفصل	4
الدرس الثالث المملترات اللترات	5

أسئلة اختبار التشخيص لبرنامج تعزيز المهارات للمرحلة الابتدائية

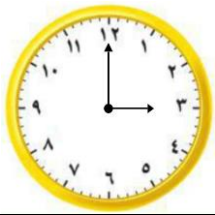
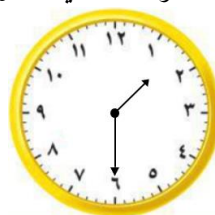
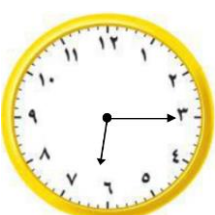
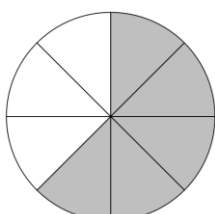
الدرجة المستحقة _____	رياضيات		المادة
	الصف الثاني الابتدائي		الصف المستهدف
	المدرسة		اسم الطالب/ة
	قم باختيار الإجابة الصحيحة في كل مما يلي:		

المهارة المستهدفة		قراءة البيانات الممثلة بالصور والأعمدة																					
الشكل أدناه يبين المواد المفضلة لدي الطلاب، ما مجموع الطلاب الذين يفضلون مادة الرياضيات أو العلوم؟																							
<p>المادة المفضلة</p> <table border="1"> <tr> <td></td> <td></td> <td></td> <td></td> <td>الرياضيات </td> </tr> <tr> <td></td> <td></td> <td></td> <td></td> <td>القراءة </td> </tr> <tr> <td></td> <td></td> <td></td> <td></td> <td>العلوم </td> </tr> <tr> <td></td> <td></td> <td></td> <td></td> <td>البدنية </td> </tr> </table> <p>المفتاح: كل صورة = استجابة واحدة</p>								الرياضيات					القراءة					العلوم					البدنية
				الرياضيات																			
				القراءة																			
				العلوم																			
				البدنية																			
أ	ب	ج	د																				

المهارة المستهدفة		قراءة البيانات الممثلة بالصور والأعمدة	
جدول الإشارات في الشكل أدناه يمثل الإفطار المفضل لدي الطلاب، ما الشكل الذي يمثل البيانات بالأعمدة؟			
الإشارات		الإفطار المفضل	
		الفول	
		البيض	
		الفلافل	

د	ج	ب	أ
الإفطار المفضل	الإفطار المفضل	الإفطار المفضل	الإفطار المفضل
عدد الطلاب	عدد الطلاب	عدد الطلاب	عدد الطلاب
الفول	الفول	الفول	الفول
البيض	البيض	البيض	البيض
الفلافل	الفلافل	الفلافل	الفلافل
نوع الطعام	نوع الطعام	نوع الطعام	نوع الطعام

المهارة المستهدفة		قراءة البيانات الممثلة بالصور والأعمدة																																											
التمثيل بالأعمدة أدناه يمثل الطلاب المتفوقين من الصف الثاني، كم عدد الطلاب المتفوقين يوم الثلاثاء؟																																													
<p>الطلاب المتفوقين من الصف الثاني</p> <table border="1"> <tr> <td>عدد الطلاب</td> <td>الأحد</td> <td>الاثنين</td> <td>الثلاثاء</td> <td>الأربعاء</td> <td>الخميس</td> </tr> <tr> <td>5</td> <td></td> <td></td> <td></td> <td></td> <td></td> </tr> <tr> <td>4</td> <td></td> <td></td> <td></td> <td></td> <td></td> </tr> <tr> <td>3</td> <td></td> <td></td> <td></td> <td></td> <td></td> </tr> <tr> <td>2</td> <td></td> <td></td> <td></td> <td></td> <td></td> </tr> <tr> <td>1</td> <td></td> <td></td> <td></td> <td></td> <td></td> </tr> <tr> <td>0</td> <td></td> <td></td> <td></td> <td></td> <td></td> </tr> </table> <p>أيام الأسبوع</p>				عدد الطلاب	الأحد	الاثنين	الثلاثاء	الأربعاء	الخميس	5						4						3						2						1						0					
عدد الطلاب	الأحد	الاثنين	الثلاثاء	الأربعاء	الخميس																																								
5																																													
4																																													
3																																													
2																																													
1																																													
0																																													
أ	ب	ج	د																																										

المهارة المستهدفة		قراءة الساعة وكتابة الوقت الذي تشير إليه الساعة			
٤ بدأت المباراة الساعة ٧:٠٥ وبعد عشرين دقيقة أحرز الفريق الأحمر الهدف الأول، فكم كانت الساعة وقت احراز الهدف؟					
أ	٧:١٥	ب	٧:٢٥	ج	٧:٣٥
د	٧:٤٥				
المهارة المستهدفة		قراءة الساعة وكتابة الوقت الذي تشير إليه الساعة			
٥ وصل إبراهيم إلى المنزل بحسب الوقت أدناه، ما الوقت الذي تشير إليه الساعة؟					
					
أ	٣:٠٠	ب	٣:١٥	ج	١٢:٠٠
د	١٢:١٥				
المهارة المستهدفة		قراءة الساعة وكتابة الوقت الذي تشير إليه الساعة			
٦ يبدأ محمد مراجعة الرياضيات بحسب الوقت أدناه، ما الوقت الذي تشير إليه الساعة؟					
					
أ	١٢:٠٠	ب	١٢:٣٠	ج	١:٠٠
د	١:٣٠				
المهارة المستهدفة		قراءة الساعة وكتابة الوقت الذي تشير إليه الساعة			
٧ ذهب سعد إلى سوق الخضار بحسب الوقت أدناه، ما الوقت الذي تشير إليه الساعة؟					
					
أ	٣:٠٠	ب	٣:٣٠	ج	٦:١٥
د	٦:٢٠				
المهارة المستهدفة		تمثيل الكسر الدل على أكثر من جزء واحد من أجزاء الكل المتطابقة وقراءته وكتابته			
٨ ما الكسر الذي يمثل الأجزاء المظللة من الشكل؟					
					
أ	$\frac{3}{8}$	ب	$\frac{4}{8}$	ج	$\frac{5}{8}$
د	$\frac{6}{8}$				

المهارة المستهدفة		تمثيل الكسر الدل على أكثر من جزء واحد من أجزاء الكل المتطابقة وقراءته وكتابته	
٩		ما الشكل الذي يمثل $\frac{3}{7}$ ؟	
أ		ب	
ج		د	
المهارة المستهدفة		التعبير بالكسور عن شيء أو أشياء متماثلة ضمن مجموعة	
١٠		ما الكسر الذي يمثل عدد الأسماك السوداء؟	
أ	$\frac{3}{7}$	ب	$\frac{3}{4}$
ج	$\frac{4}{7}$	د	$\frac{4}{4}$

انتهت الأسئلة..