

تم تحميل هذا الملف من موقع المناهج السعودية



الملف ورقة عمل الأشكال المستوية

[موقع المناهج](#) ⇨ [المناهج السعودية](#) ⇨ [الصف الثاني](#) ⇨ [رياضيات](#) ⇨ [الفصل الثالث](#)

الملف ورقة عمل الأشكال المستوية

[موقع المناهج](#) ⇨ [المناهج السعودية](#) ⇨ [الصف الثاني](#) ⇨ [رياضيات](#) ⇨ [الفصل الثالث](#)


المزيد من الملفات بحسب الصف الثاني والمادة رياضيات في الفصل الثالث

<a href="#">تحضير عين لدروس الفصل الثالث</a>	1
<a href="#">اختبار الفترة الخامسة</a>	2
<a href="#">اختبار الفصل التاسع</a>	3
<a href="#">أسئلة اختبار الفصل العاشر</a>	4
<a href="#">اختبار الفترة الخامسة الباب التاسع</a>	5


الأشكال المستوية	عنوان الدرس	الاسم
	التاريخ	الثاني ( )

ارسم خطأ بين الشكل و اسمه :


شبة المنحرف  
almanahj.com/sa  
المنالج السموية



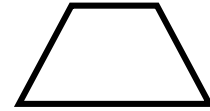
متوازي الاضلاع



دائرة



مربع



مثلث

