

تم تحميل هذا الملف من موقع المناهج السعودية

almanahj.com/sa
موقع
المناهج السعودية

الملف نموذج إجابة اختبار تشخيصي قبلي لتعزيز المهارات

[موقع المناهج](#) ← [المناهج السعودية](#) ← [الصف الثاني](#) ← [علوم](#) ← [الفصل الثالث](#)

روابط مواقع التواصل الاجتماعي بحسب الصف الثاني



روابط مواد الصف الثاني على تلغرام

[الرياضيات](#)

[اللغة الانجليزية](#)

[اللغة العربية](#)

[التربية الاسلامية](#)

المزيد من الملفات بحسب الصف الثاني والمادة علوم في الفصل الثالث

أسئلة اختبار نهائي	1
نموذج تقويمي ختامي للمهارات	2
بوربوينت استعمال الطاقة	3
اختبار منتصف الفصل	4
اختبار قياس المهارات	5

(نموذج اجابه) اختبار التشخيص لبرنامج تعزيز المهارات للمرحلة الابتدائية

الدرجة المستحقة

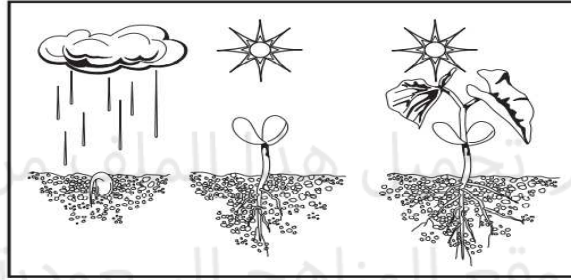
١٠

المادة	العلوم (النموذج القبلي)
الصف المستهدف	ثاني ابتدائي
اسم الطالب/ة	المدرسة

قم باختيار الإجابة الصحيحة في كل مما يلي:

المهارة المستهدفة التعرف على مراحل دورة حياة النبات

■ نلاحظ من خلال الصورة التالية أن النبات:



ب ينتج نباتا جديدا

أ ينتج الغذاء


د يطلق الأكسجين

ج ينمو ويتغير

وصف دورات حياة الحيوانات والمقارنة بينها

المهارة المستهدفة

■ أي جزأين من دورة الحياة يظهر في الرسم؟



ب حيوان صغير واخر مكتمل النمو

أ بيضه وحيوان مكتمل النمو

د حيوان مكتمل النمو واخر ميت

ج بيضه وحيوان صغير

وصف دورات حياة الحيوانات والمقارنة بينها

المهارة المستهدفة


■ أي الحيوانات الاتية له جناحان ومنقار؟



د



ج







ب



أ

المهارة المستهدفة		وصف السلسلة الغذائية	
<p>■ نلاحظ من خلال السلسلة الغذائية التالية أن الصقر يتغذى على:</p>			
<p>شمس نبات أرنب صقر</p>			
أ	ب	ج	د
المهارة المستهدفة		وصف السلسلة الغذائية	
<p>■ ما المعلومات التي أحصل عليها من السلسلة الغذائية؟</p>			
أ	ب	ج	د
تحصل المخلوقات الحية على الغذاء	تتأثر المخلوقات الحية بالضوء	تعتني الحيوانات بصغارها	تصنع النباتات الغذاء من الشمس
المهارة المستهدفة		المقارنة بين الغابات المطيرة والغابات الأخرى	
<p>■ أي العبارات التالية تصف الموطن الذي توضحه الصورة؟</p>			
أ	ب	ج	د
عشبي ورطب	عشبي ودافئ	بارد وفيه ثلوج	حار وجاف
المهارة المستهدفة		تفسير كيف تتكون التربة	
<p>■ أي الحيوانات التالية تعيش في المنطقة القطبية؟</p>			

	د		ج		ب		أ
٨							
كيف يجعل الدبال التربة أفضل للزراعة؟							
يزيل المواد المغذية من التربة		أ	يجعل التربة تفقد الماء		ب		
يضيف المواد المغذية إلى التربة		ج	يجعل لون التربة أكثر سوادا		د		
التوصل إلى أن دوران الأرض حول نفسها يسبب الليل والنهار				المهارة المستهدفة			
٩							
ما سبب تعاقب الليل والنهار؟							
الحركة الدورانية		أ	مدار الأرض		ب		
دوران الأرض حول الشمس		ج	دوران الأرض حول محورها		د		
توضيح العلاقة بين الكواكب والشمس				المهارة المستهدفة			
١٠							
كيف تتشابه الكواكب الثمانية في النظام الشمسي؟							
جميعها متساوية في الحجم		أ	جميعها تدور حول الشمس		ب		
جميعها يدور حولها قمر واحد		ج	جميعها يحيط بها حلقات		د		