


تم تحميل هذا الملف من موقع المناهج السعودية



الملف اختبار تشخيصي محلول سكره الشمري

[موقع المناهج](#) ⇨ [المناهج السعودية](#) ⇨ [الصف الثاني](#) ⇨ [علوم](#) ⇨ [الفصل الثالث](#)

المزيد من الملفات بحسب الصف الثاني والمادة علوم في الفصل الثالث

أسئلة اختبار نهائي	1
نموذج تقويمي ختامي للمهارات	2
بوربوينت استعمال الطاقة	3
اختبار منتصف الفصل	4
اختبار قياس المهارات	5





اختبار تشخيصي لمادة العلوم الصف الثاني لعام ١٤٤٥ هـ

(درجتان لكل فقرة)

١٠ درجات

* / نضع علامة (✓) تحت الأجوبة الصحيحة :





١ / أي المراحل التالية تمثل بداية السلسلة الغذائية :

د	ج	ب	أ
			

٢ / كيف تختلف النباتات عن باقي المخلوقات ؟

ج	ب	أ
تنتج غذاءها من الشمس	تحتاج للهواء لتنمو	تحتل مكان صغير
ج	ب	أ
تحتاج للماء لتعيش	تحتاج للهواء لتنمو	تحتل مكان صغير

٣ / أي من هذه المواطن تعيش فيها السحلية :

د	ج	ب	أ
			

٤ / ما الخاصية التي ساعدت الدب القطبي على العيش في المنطقة القطبية :

د	ج	ب	أ
الاسنان الحادة	الحراشيف	العيون الحادة	الفرو السميك

٥ / المرحلة الأخيرة من دورة حياة الفراشة هي :

د	ج	ب	أ
			