

تم تحميل هذا الملف من موقع المناهج السعودية



# موقع المناهج المنهاج السعودي

\* للحصول على أوراق عمل لجميع الصفوف وجميع المواد اضغط هنا

<https://www.almanahj.com/sa>

\* للحصول على أوراق عمل لجميع مواد الصف الثاني اضغط هنا

<https://almanahj.com/sa/2>

\* للحصول على جميع أوراق الصف الثاني في مادة رياضيات ولجميع الفصول, اضغط هنا

<https://almanahj.com/sa/2math>

\* للحصول على أوراق عمل لجميع مواد الصف الثاني في مادة رياضيات الخاصة بـ الفصل الثاني اضغط هنا

<https://www.almanahj.com/sa/2math2>

\* لتحميل كتب جميع المواد في جميع الفصول للـ الصف الثاني اضغط هنا

<https://www.almanahj.com/sa/grade2>

للحصول على جميع روابط الصفوف على تلغرام وفيسبوك من قنوات وصفحات: اضغط هنا

<https://t.me/sacourse>

اسم الطالب / .....

السؤال الأول :

رتب الأعداد الآتية من الأصغر إلى الأكبر

٩٠ ، ٨ ، ٦٥ ، ١٣

..... ، ..... ، ..... ، .....

٨٩ ، ٢٣ ، ٤٤ ، ١٠٠

..... ، ..... ، ..... ، .....

٢٩ ، ٩٢ ، ٥٣ ، ٣٥

..... ، ..... ، ..... ، .....

السؤال الثاني :

قارن بين الأعداد باستعمال < > =

١٥ ○ ١٥

٦٣ ○ ٢٧

— ○ —

٢٩ ○ ٤٥

السؤال الثالث : أكتب العدد

..... ٥٠٠ + ٢٠ + ٤

..... ٧٠٠ + ٧٠ + ٦

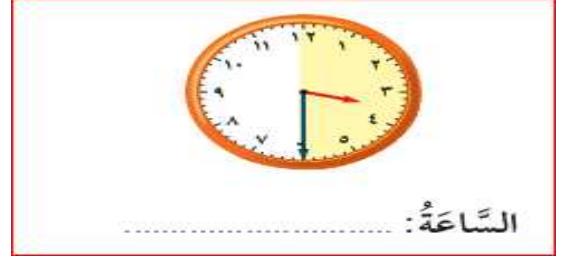
..... ٢٠٠ + ٣٠ + ١

اختبار رياضيات الفترة الثالثة - الصف الثاني الابتدائي ١٤٤١ هـ

اسم الطالب / .....

الدرجة .....

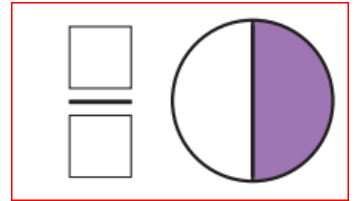
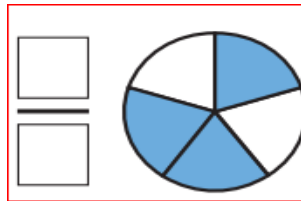
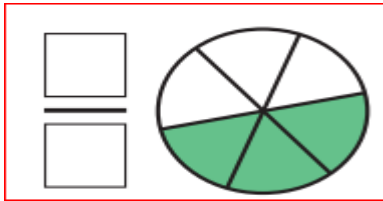
السؤال الأول : أكتب الوقت الذي تشير إليه الساعة ( ٤ درجات )





أعدّ وأكتب قيمة النقود ( درجتان )



أكتب الكسر الذي تدل عليه الرسومات التالية ( ٣ درجات )



أفان بين الكسور بوضع علامة ( > أو < ) ( ٤ درجات )



ألون الجزء الذي يشير إليه الكسر ( درجتان )

