

تم تحميل هذا الملف من موقع المناهج السعودية



# موقع المناهج المنهاج السعودي

\*للحصول على أوراق عمل لجميع الصفوف وجميع المواد اضغط هنا

<https://www.almanahj.com/sa>

\* للحصول على أوراق عمل لجميع مواد الصف الثاني اضغط هنا

<https://almanahj.com/sa/2>

\* للحصول على جميع أوراق الصف الثاني في مادة رياضيات ولجميع الفصول, اضغط هنا

<https://almanahj.com/sa/2math>

\* للحصول على أوراق عمل لجميع مواد الصف الثاني في مادة رياضيات الخاصة بـ الفصل الثاني اضغط هنا

<https://www.almanahj.com/sa/2math2>

\* لتحميل كتب جميع المواد في جميع الفصول للـ الصف الثاني اضغط هنا

<https://www.almanahj.com/sa/grade2>

للحصول على جميع روابط الصفوف على تلغرام وفيسبوك من قنوات وصفحات: اضغط هنا

<https://t.me/sacourse>

المملكة العربية السعودية  
وزارة التعليم  
إدارة التعليم بمحافظات عسير  
مدرسة الكسائي الابتدائية



الدرجة: \_\_\_\_\_  
توقيع ولي الأمر:

### اختبار الفترة الرابعة

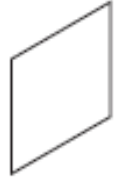
اسم الطالب: ..... المادة: رياضيات الصف: الثاني الابتدائي

السؤال الأول: سم الأشكال التالية ، وحدد عدد أضلاعها وزواياها.

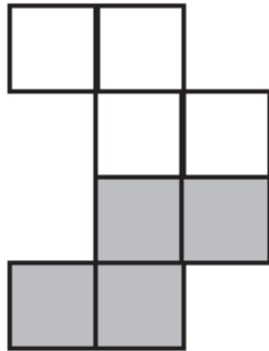
.....  
.....



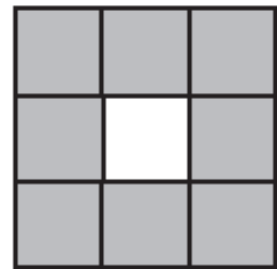
.....  
.....



السؤال الثاني : اوجد مساحة الأجزاء المظللة فيما يلي :




..... وَحَدَاتٍ مُرَبَّعَةٍ



..... وَحَدَاتٍ مُرَبَّعَةٍ

السؤال الثالث : ضع دائرة حول الوحدة الأنسب لقياس سعة كل وعاء فيما يلي:

نتر	مللتر	
نتر	مللتر	

السؤال الرابع: ( أ ) اوجد نتائج الجمع التالي :

$$\begin{array}{r} 514 \\ 233 + \\ \hline \end{array}$$

$$\begin{array}{r} 149 \\ 366 + \\ \hline \end{array}$$

( ب ) اوجد نتائج الطرح التالي :

$$\begin{array}{r} 425 \\ 374 - \\ \hline \end{array}$$

$$\begin{array}{r} 847 \\ 161 - \\ \hline \end{array}$$