

تم تحميل هذا الملف من موقع المناهج السعودية



\* للحصول على أوراق عمل لجميع الصفوف وجميع المواد اضغط هنا

<https://www.almanahj.com/sa>

[2/sa/com.almanahj//:https](https://www.almanahj.com/sa/2)

\* للحصول على أوراق عمل لجميع مواد الصف الثاني اضغط هنا

\* للحصول على جميع أوراق الصف الثاني في مادة رياضيات ولجميع الفصول, اضغط هنا

[https://almanahj.com/sa/2](https://www.almanahj.com/sa/2)

\* للحصول على أوراق عمل لجميع مواد الصف الثاني في مادة رياضيات الخاصة بـ اضغط هنا

<https://www.almanahj.com/sa/23>

\* لتحميل كتب جميع المواد في جميع الفصول للصف الثاني اضغط هنا


<https://www.almanahj.com/sa/grade2>

[sacourse/me.t//:https](https://www.almanahj.com/sa/course)

للحصول على جميع روابط الصفوف على تلغرام وفيسبوك من قنوات وصفحات: اضغط هنا

أستطيع أن  
أجمع الآحاد  
لتكوين  
العشرات

أجمع 10 آحاد لأكون عشرة واحدة :





10 آحاد = 1 عشرة

70 آحادا = 7 عشرات

90 آحادا = 9 عشرات

almanahj.com/sa  
المنهج السموية




24 آحادا = 4 آحادا و 2 عشرات 24 = 20 + 4

أتأكد


أكتب العدد :

2



50 آحاد = 5 عشرات

1

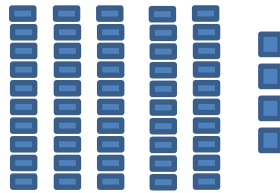


20 آحاد = 2 عشرات

أكتب عدد الآحاد والعشرات فيما يأتي ، ثم أكتب

العدد :

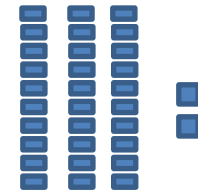
4



4 آحاد 5 عشرات

$$54 = 50 + 4$$

3




2 آحاد 3 عشرات

$$32 = 30 + 2$$

التالية

4

السابقة



6

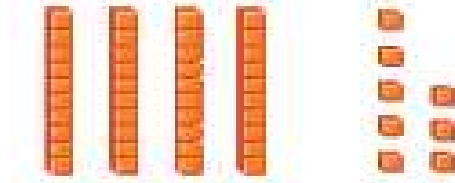
5 آحاد 6 عشرات

$$65 = 60 + 5$$

المناهج السموية  
almanahj.com/sa

أكتب العدد:

أتأكد



5

8 آحاد 4 عشرات

$$48 = 40 + 8$$

7


أبين كيف يختلف العدد 26 عن العدد 62.

26 فيه 6 آحاد و 2 عشرات ، بينما 62 فيه 2 آحاد و 6 عشرات

أندرب

أكتب العدد:


9



almanahj.com/sa


8 آحاد = 8 عشرات

8




3 عشرات = 30 آحاد

10



11



وآحاد 4 عشرات

$$32 = 40 + 9$$


8 آحاد 2 عشرات

$$28 = 20 + 8$$

التالية

5

السابقة

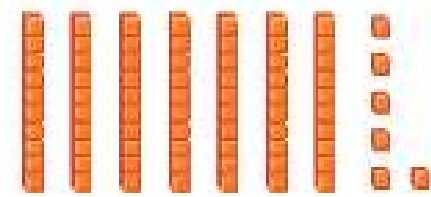


13

9 آحاد 6 عشرات

$$69 = 60 + 9$$

almanahj.com/sa  
المنهج السعودية



12

6 آحاد 7 عشرات

$$76 = 70 + 6$$

## أحل المسألة

الحس العددي : مع جميلة 4 أكياس من البسكويت ، في كل كيس 10 قطع ، إذا كان في جيبها 3 قطع أخرى ، فكم قطعة بسكويت **43** معها ؟ ..... قطعة بسكويت .

14

almanahj.com/sa

المنهج السعودية

