

روابط مجموعات المناهج السعودية

كل ما يحتاجه الطالب في جميع الصفوف من أوراق عمل واختبارات ومذكرات, يجده هنا في الروابط التالية لأفضل مواقع المناهج السعودية:
القناة الرسمية لموقع المناهج السعودية : www.almanahj.com/sa

روابط مجموعات الواتساب

[الصف الأول الابتدائي](#)

[الصف الثاني الابتدائي](#)

[الصف الثالث الابتدائي](#)

[الصف الرابع الابتدائي](#)

[الصف الخامس الابتدائي](#)

[الصف السادس الابتدائي](#)

[الصف الأول متوسط](#)

[الصف الثاني متوسط](#)

[الصف الثالث متوسط](#)

[الصف الأول الثانوي](#)

[الصف الثاني الثانوي العلمي](#)

[الصف الثاني الثانوي الأدبي](#)

[الصف الثالث الثانوي العلمي](#)

[الصف الثالث الثانوي الأدبي](#)

[مجموعة أخبار التربية](#)

روابط مجموعات التلغرام

[الصف الأول](#)

[الصف الثاني](#)

[الصف الثالث](#)

[الصف الرابع](#)

[الصف الخامس](#)

[الصف السادس](#)

[الصف الأول متوسط](#)

[الصف الثاني متوسط](#)

[الصف الثالث متوسط](#)

[الصف الأول الثانوي](#)

[الصف الثاني الثانوي الأدبي](#)

[الصف الثاني الثانوي العلمي](#)

[الصف الثالث الثانوي الأدبي](#)

[الصف الثالث الثانوي العلمي](#)

[المناهج السعودية](#)

نموذج رقم (6)

الاختبار الدوري للصف الثاني مادة الرياضيات الفترة الرابعة



وزارة التعليم
Ministry of Education



اسم الطالبة المدرسة الصف

المعيار	حل المسائل الرياضية باستعمال استراتيجيات ومهارات مناسبة مع اتباع الخطوات الاربعة			رقمه	2
متقن	<input type="checkbox"/> متقن	<input type="checkbox"/> متقن	<input type="checkbox"/> غير متقن	ملاحظة	<input type="checkbox"/>
100%	من 90% إلى أقل من 100%	من 80% إلى أقل من 90%	أقل من 80%		

السؤال الأول:

قالت والدة رامي له : ستبدأ الحفلة في الساعة الثانية ، فإذا كانت المسافة من البيت الي الحفلة تستغرق 15 دقيقة، فمتى يجب ان يغادر رامي الي الحفلة ؟

الفهم :

المعطيات : ستبدأ الحفلة الساعة، علماً أن المسافة من البيت إلى الحفلة تستغرق

المطلوب : من؟


اخطط : استخدم

الحل :

almanahj.com/sa

المعيار	تمييز الأشكال الهندسية المستوية (المربع المستطيل المثلث الدائرة شبة المنحرف السداسي) ووصفها حسب عدد اضلاعها ورؤوسها			رقمه	35
متقن	<input type="checkbox"/> متقن	<input type="checkbox"/> متقن	<input type="checkbox"/> غير متقن	ملاحظة	<input type="checkbox"/>
100%	من 90% إلى أقل من 100%	من 80% إلى أقل من 90%	أقل من 80%		

السؤال الثاني : اكتب اسم الشكل واذكري له صفتين ؟

1_  الشكل له أضلاع له رؤوس

2_  الشكل له أضلاع له رؤوس

3_  الشكل له أضلاع له رؤوس

المعيار	المقارنة بين شكلين مستويين وبين مجسمين			رقمه	36
متقن	<input type="checkbox"/> متقن	<input type="checkbox"/> متقن	<input type="checkbox"/> غير متقن	ملاحظة	<input type="checkbox"/>
100%	من 90% إلى أقل من 100%	من 80% إلى أقل من 90%	أقل من 80%		

السؤال الثالث : أكمل الجملة التالية :

1)  و  السداسي والمستطيل مختلفان في

.....

2)  و  الأسطوانة

..... متشابهان في

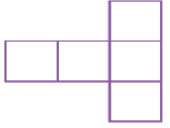
المعيار	المقارنة بين مساحات اشكال مختلفة وترتيبها			رقمه	39
متقن	<input type="checkbox"/> متقن	<input type="checkbox"/> متقن	<input type="checkbox"/> غير متقن	<input type="checkbox"/> ملاحظة	
100%	من 90% إلى أقل من 100%	من 80% إلى أقل من 90%	أقل من 80%		

السؤال الرابع: استعمال لايجاد المساحة :

..... وحدات مربعة




..... وحدات مربعة



المعيار	قياس الطول وتقديره باستعمال (وحدات غير قياسية . مسطرة السنتمترات)			رقمه	38
متقن	<input type="checkbox"/> متقن	<input type="checkbox"/> متقن	<input type="checkbox"/> غير متقن	<input type="checkbox"/> ملاحظة	
100%	من 90% إلى أقل من 100%	من 80% إلى أقل من 90%	أقل من 80%		

السؤال الخامس د.:

قيسي طول هذا القلم بالسنتمترات



القياس سنتماً تقريباً almanahj.com/sa



معلمة المادة:

تمنيتي لك بالتوفيق