

شكراً لتحميلك هذا الملف من موقع المناهج السعودية



أوراق عمل مميزة وجديدة

[موقع المناهج](#) ← [المناهج السعودية](#) ← [الصف الثاني](#) ← [علوم](#) ← [الفصل الثالث](#) ← [الملف](#)

التواصل الاجتماعي بحسب الصف الثاني

روابط مواد الصف الثاني على تلغرام

[الرياضيات](#)

[اللغة الانجليزية](#)

[اللغة العربية](#)

[التربية الاسلامية](#)

المزيد من الملفات بحسب الصف الثاني والمادة علوم في الفصل الثالث

[أسئلة اختبار نهائي](#)

1

[نموذج تقويمي ختامي للمهارات](#)

2

[بوربوينت استعمال الطاقة](#)

3

[اختبار منتصف الفصل](#)

4

[اختبار قياس المهارات](#)

5

أوراق عمل مادة العلوم للصف الثاني الابتدائي - الفصل الدراسي الثالث

اسم الطالب : الصف : ٢ /

صنف المواد التالية بحسب حالة المادة في الجدول:




حالة المادة	١	٢	٣	٤	٥	٦	٧	٨	٩	١٠	١١	١٢
صلبة												
سائلة												
غازية												

• أصل بين الصورة ووظيفتها :-



لقياس الحجم



لقياس الكتلة



لقياس الطول

أوراق عمل مادة العلوم للصف الثاني الابتدائي - الفصل الدراسي الثالث

اسم الطالب :

الصف : ٢ /

❖ ضع الكلمات التالية في الفراغ المناسب :-


التغير الكيميائي

التغير الفيزيائي

١. هو التغير الذي يصعب أن نعيد المادة إلى ما كانت عليه لظهور خواص جديدة .

٢. هو تغير في شكل المادة أو حجمها فقط .

❖ أصل بين الصورة و نوع التغير فيما يلي :



تغير
فيزيائي



تعفن الفاكهة



غلي الماء

تغير
كيميائي



تقطيع الورق



أوراق عمل مادة العلوم للصف الثاني الابتدائي - الفصل الدراسي الثالث

اسم الطالب : الصف : ٢ /

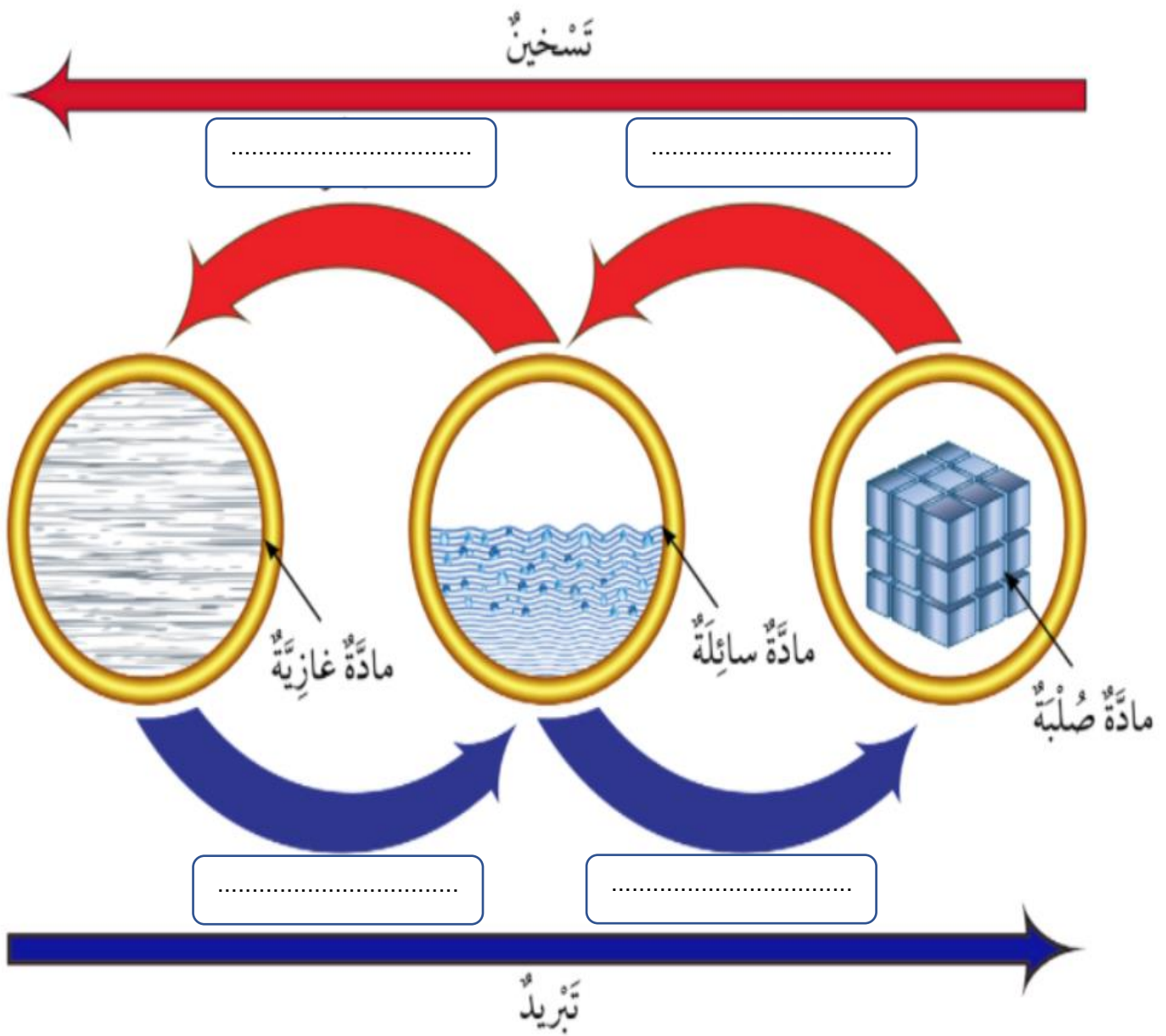
❖ أكمل الفراغات على الرسم التالي :-

تبخر

تجمد

انصهار

تكثف



أوراق عمل مادة العلوم للصف الثاني الابتدائي - الفصل الدراسي الثالث

اسم الطالب : الصف : ٢ /

❖ ضع الكلمات التالية في الفراغ المناسب :-

القوة

الوزن

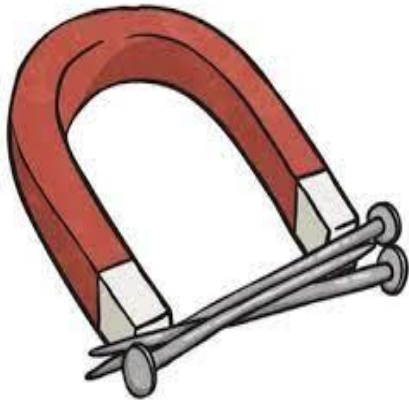
١. مؤثر يغير الحالة الحركية للجسم .

٢. مقدار قوة جذب الأرض للجسم .

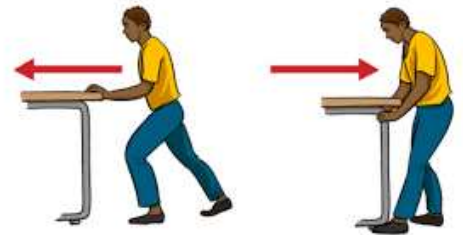
❖ أصل بين الصورة و نوع الحركة :-



قوى تنشأ
بالتلامس




قوى تنشأ
بدون تلامس



أوراق عمل مادة العلوم للصف الثاني الابتدائي - الفصل الدراسي الثالث

اسم الطالب : الصف : ٢ /

❖ ضع دائرة حول المواد التي تنجذب للمغناطيس :





❖ اختر الإجابة المناسبة :-

تجاذب تنافر



تجاذب تنافر




أوراق عمل مادة العلوم للصف الثاني الابتدائي - الفصل الدراسي الثالث

اسم الطالب : الصف : ٢ /

• ضع علامة ✓ أو x أمام العبارات التالية :-

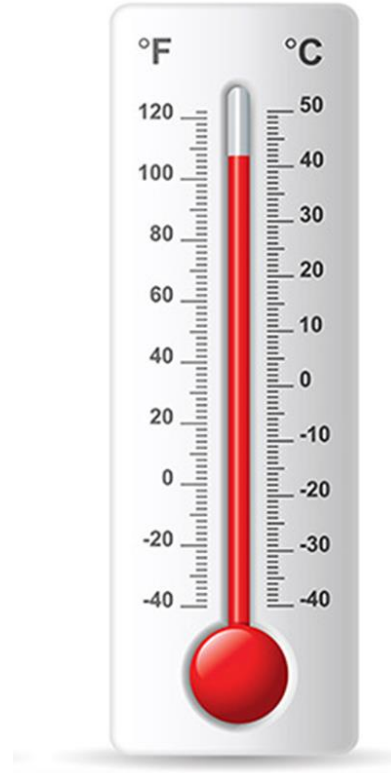
- () ١. الحرارة هي أحد أشكال الطاقة التي يمكنها أن تغير حالة المادة .
- () ٢. الوقود يوضح مدى سخونة أو برودة الشيء .

• اختر الإجابة الصحيحة فيما يلي :-



درجة
حرارة
مرتفعة

درجة
حرارة
منخفضة



درجة
حرارة
مرتفعة

درجة
حرارة
منخفضة

أوراق عمل مادة العلوم للصف الثاني الابتدائي - الفصل الدراسي الثالث

اسم الطالب : الصف : ٢ /



❖ أصل بين الصور و العبارة المناسبة :-

كهرباء متحركة



كهرباء ساكنة

❖ في أي الصورتين سيعمل المصباح ؟

