

تم تحميل هذا الملف من موقع المناهج السعودية



اختبار علوم نهائي الفصل الثاني

موقع المناهج ← المناهج السعودية ← الصف الثاني ← علوم ← الفصل الثاني ← اختبارات ← الملف

تاريخ إضافة الملف على موقع المناهج: 2025-01-22 16:45:35

ملفات اكتب للمعلم اكتب للطالب | اختبارات الكترونية | اختبارات | حلول | عروض بوربوينت | أوراق عمل
منهج انجليزي | ملخصات وتقارير | مذكرات وبنوك | الامتحان النهائي للمدرس

المزيد من مادة
علوم:

التواصل الاجتماعي بحسب الصف الثاني



صفحة المناهج
السعودية على
فيسبوك

الرياضيات

اللغة الانجليزية

اللغة العربية

التربية الاسلامية

المواد على تلغرام

المزيد من الملفات بحسب الصف الثاني والمادة علوم في الفصل الثاني

الخطة الأسبوعية الشاملة للفصل الثاني

1

ورقة عمل درس القمر والنجوم

2

عرض بوربوينت للفصل العاشر المادة تتغير

3

تدريب نافس للوحدة الثالثة اليابسة

4

اختبار منتصف الفصل الفكري مرفق بالإجابة

5

اختبار الفصل الدراسي الثاني (الدور الأول) للعام الدراسي ١٤٤٦ هـ

الاسم / الفصل رقم الجلوس

١٦

السؤال الأول : اختر الإجابة الصحيحة فيما يلي :

١ - منطقة منبسطة واسعة تمتد عدة كيلومترات

أ	السهل	ب	الجبل	ج	التل	د	الوادي
---	-------	---	-------	---	------	---	--------

٢- ماء غير صالح يستخدم في الشرب والطبخ

أ	ماء البحار	ب	ماء المحيطات	ج	الماء العذب	د	الماء العكر
---	------------	---	--------------	---	-------------	---	-------------

٣- من أشكال الماء العذب :

أ	ماء البحار	ب	ماء المحيطات	ج	ثلوج
---	------------	---	--------------	---	------

٤- خليط من فئات الصخور وبقايا النباتات والحيوانات الميتة

أ	الصخور	ب	التربة	ج	الدبال	د	الماء
---	--------	---	--------	---	--------	---	-------

٥- تعد الطبقة السطحية من التربة الأفضل لنمو النباتات لأنها تحتوي على :

أ	- بقايا نباتات وحيوانات	ب	الهواء في حبيباتها	ج	صخور مفتتة	د	المعادن
---	-------------------------	---	--------------------	---	------------	---	---------

٦- خط مركزي تدور حوله الأرض :

أ	محور الأرض	ب	مدار الأرض	ج	خط الاستواء	د	دائرة الأرض
---	------------	---	------------	---	-------------	---	-------------

٧- دوران الأرض حول نفسها باستمرار يسمى :

أ	الحركة الدورانية	ب	الحركة الدورانية	ج	حركة محورية	د	مستقيمة
---	------------------	---	------------------	---	-------------	---	---------

٨ - تدور الأرض دورة كاملة حول محورها كل :

أ	ساعة	ب	24 ساعة	ج	شهر	د	سنة كاملة
---	------	---	---------	---	-----	---	-----------

٩- لكل فصل طقس مختلف ، يتغير لون أوراق بعض الأشجار وتتساقط ويميل الهواء إلى البرودة في

أ	فصل الصيف	ب	فصل الشتاء	ج	فصل الخريف	د	فصل الربيع
---	-----------	---	------------	---	------------	---	------------

١٠- الهواء يصير باردًا وتتساقط الأمطار أو الثلوج في بعض المناطق في

أ	فصل الصيف	ب	فصل الشتاء	ج	فصل الخريف	د	فصل الربيع
---	-----------	---	------------	---	------------	---	------------

١١ - أكثر الفصول ارتفاعاً في درجة الحرارة وفيه النهار أطول من الليل :

أ	فصل الصيف	ب	فصل الشتاء	ج	فصل الخريف	د	فصل الربيع
---	-----------	---	------------	---	------------	---	------------

١٢ - تحتاج الأرض حتى تدور حول الشمس

أ	ساعة	ب	24 ساعة	ج	شهر	د	سنة كاملة
---	------	---	---------	---	-----	---	-----------

١٣ - ينتج عن دوران الأرض حول محورها :

أ	تعاقب الليل والنهار	ب	تعاقب الفصول	ج	اختلاف درجات الحرارة	د	نزول المطر
---	---------------------	---	--------------	---	----------------------	---	------------

١٤ - عندما تدور الأرض حول الشمس فإن ميلان الأرض يسبب

أ	تعاقب الليل والنهار	ب	تعاقب الفصول	ج	اختلاف درجات الحرارة	د	نزول المطر
---	---------------------	---	--------------	---	----------------------	---	------------

١٥ - شكل القمر الذي يمكن مشاهدته من الأرض :

أ	طور القمر	ب	النجم	ج	الكوكب	د	النظام الشمسي
---	-----------	---	-------	---	--------	---	---------------

١٦ - جسم كروي ضخم يدور حول نجم الشمس :

أ	طور القمر	ب	النجم	ج	الكوكب	د	النظام الشمسي
---	-----------	---	-------	---	--------	---	---------------

١٧ - جسم في الفضاء يتكون من غازات متوهجة :

أ	طور القمر	ب	النجم	ج	الكوكب	د	النظام الشمسي
---	-----------	---	-------	---	--------	---	---------------

١٨ - يستغرق دوران القمر حول الأرض دورة كاملة :

أ	ساعة	ب	٢٤ ساعة	ج	شهر	د	سنة كاملة
---	------	---	---------	---	-----	---	-----------


١٩ الشمس هو:

أ	أبعد نجم عن الأرض	ب	أقرب نجم للأرض	ج	أكبر نجم	د	أصغر نجم
---	-------------------	---	----------------	---	----------	---	----------

٢٠ يتكون نظامنا الشمسي من :

أ	أربعة كواكب	ب	سبعة كواكب	ج	ثمانية كواكب	د	عشر كواكب
---	-------------	---	------------	---	--------------	---	-----------

٢٠ لاحظ الصورة المجاورة : ما الوقت الذي تشير إليه الصورة ؟



أ	٨:٠٠ صباحًا	ب	١٢:٠٠ ظهرًا	ج	٤:٠٠ عصرًا	د	١٢:٠٠ منتصف الليل
---	-------------	---	-------------	---	------------	---	-------------------

صل بين الغلاف في العمود الأول وما يناسبه في العمود الثاني

١	الغلاف الجوي	هو نسبة الماء على كوكب الأرض ويشكل الجزء الأكبر من مساحة الأرض
٢	الغلاف الصخري	هو نسبة اليابسة على الأرض وتشكل جزءًا صغيرًا من مساحة الأرض
٣	الغلاف المائي	هو الغازات المحيطة بالكرة الأرضية

انتهت الأسئلة

مع أطيب الأمنيات لكم بالتوفيق والنجاح

مدير/ة المدرسة :

معلم/ة المادة :

التاريخ:	 وزارة التعليم Ministry of Education	المملكة العربية السعودية
المادة: العلوم		وزارة التعليم
الصف: الثاني الابتدائي		الابتدائية الأربعة الإدارة العامة للتعليم بمنطقة المدرسة/.....
اسم الطالب/ة..... الفصل/.....		

تقويم ختامي لمهارات علوم الصف الثاني – (الفصل الدراسي الثاني) عام 1446هـ

السؤال الأول:

* من خلال الصور التالية نحدد أشكال اليابسة:



.....



.....



.....



.....

السؤال الثاني:

* نصل بين المفردة والعبارة المناسبة لها

أجزاء صغيرة من اليابسة محاطة بالماء من جميع الاتجاهات

قارة

الأجزاء الكبيرة من اليابسة محاطة بالمحيطات

جزيرة

أجزاء غير حية تتكون منها الصخور

الصخور

أشياء غير حية موجودة في الأرض

المعادن

السؤال الثالث:

* أجب عما يأتي بصح أو خطأ:

(.....)

١_ من مصادر الماء العذب الآبار

(.....)

٢_ تختلف التربة في لونها وملمسها

(.....)

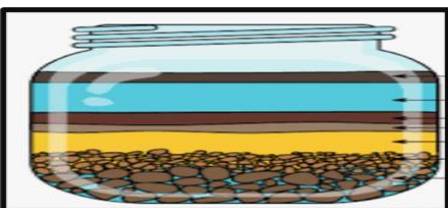
٣_ الماء والهواء والصخور والنباتات كلها موارد طبيعية

(.....)

٤_ نظامنا الشمسي فيه عشرة كواكب

السؤال الرابع:

* مما تتكون التربة؟



.....٢_

.....١_

يتبع
↓

السؤال الخامس: نصل بين كل صورة والعبارة المناسبة:



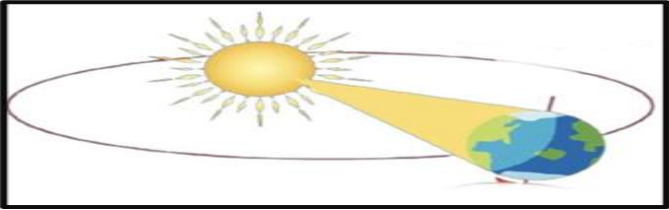
تربة زراعية (سطحية) فيها كثير من الدبال



تربة طينية




تربة رملية



* ماذا ينتج عن دوران الأرض حول الشمس؟

* نكتب تحت كل صورة اسم الفصول الأربعة:



السؤال السادس: مما يتكون نظامنا الشمسي؟

..... ١

..... ٢

* نذكر بعض أطوار القمر التي تظهر خلال الشهر:

.....

* نرتب الكواكب التالية من ١ ، ٤ حسب قربها من الشمس:

الزهرة

عطارد


المريخ

الأرض



بالتوفيق يا صغاري

سكره الشمري



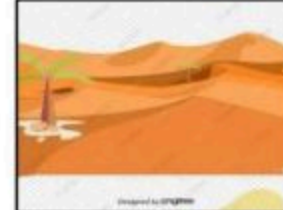

نموذج الاجابة

1446

تقويم ختامي لمهارات علوم الصف الثاني – (الفصل الدراسي الثاني) عام

السؤال الأول:

* من خلال الصور التالية نحدد أشكال اليابسة:



السؤال الثاني:

* نصل بين المفردة والعبارة المناسبة لها



السؤال الثالث:

* أجب عما يأتي بصح أو خطأ:

١_ من مصادر الماء العذب الآبار

٢_ تختلف التربة في لونها وملمسها

٣_ الماء والهواء والصخور والنباتات كلها موارد طبيعية

٤_ نظامنا الشمسي فيه عشرة كواكب

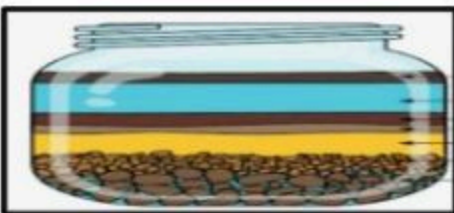


السؤال الرابع:


* مما تتكون التربة؟

١_ صخور ومعادن

٢_ بقايا مخلوقات ميتة

يتبع
↓


السؤال الخامس: نصل بين كل صورة والعبارة المناسبة:



تربة زراعية (سطحية) فيها كثير من الدبال

تربة طينية

تربة رملية



* ماذا ينتج عن دوران الأرض حول الشمس؟

الفصول الأربعة


* نكتب تحت كل صورة اسم الفصول الأربعة:



ربيع




خريف



صيف



شتاء



السؤال السادس: مما يتكون نظامنا الشمسي؟

الشمس

الكواكب

* نذكر بعض أطوار القمر التي تظهر خلال الشهر:

التربيع

البدر

الهلال

* نرتب الكواكب التالية من ١ ، ٤ حسب قربها من الشمس:

الزهرة

٢

عطارد

١

المريخ

٤

الأرض

٣



بالتوفيق يا صغاري

سكره الشمري

