

تم تحميل هذا الملف من موقع المناهج السعودية

almanahj.com/sa
موقع
المناهج السعودية

الملف اختبار الفترة الأولى

[موقع المناهج](#) ← [المناهج السعودية](#) ← [الصف السادس](#) ← [اجتماعيات](#) ← [الفصل الثالث](#)

روابط مواقع التواصل الاجتماعي بحسب الصف السادس



روابط مواد الصف السادس على تلغرام

[الرياضيات](#)

[اللغة الانجليزية](#)

[اللغة العربية](#)

[التربية الاسلامية](#)

المزيد من الملفات بحسب الصف السادس والمادة اجتماعيات في الفصل الثالث

[اختبار أعمال السنة دراسات اجتماعية](#)

1

[نماذج اختبارات نهائية مع نماذج الإجابة](#)

2

[مجموعة اختبارات نهائية مع نموذج الإجابة](#)

3

[ملخص وخرائط مفاهيم](#)

4

[اختبار نهائي الدور الأول](#)

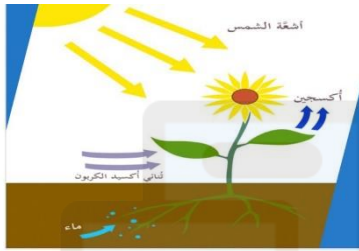
5

الاختبار التحريري لمهارات مادة العلوم (١) للصف الثاني الابتدائي للفصل الأول لعام ١٤٤٣-١٤٤٤ هـ

اسم الطالبة: الصف: ٢ /

مستوى أداء الطالبة في المعيار				المعيار	رقم المعيار
متفوق <input type="checkbox"/>	متقدم من ٩٠% <input type="checkbox"/>	متمكن من ٨٠% <input type="checkbox"/>	غير مجتاز <input type="checkbox"/>	تفسير اعتبار النباتات مخلوقات حية	٢
١٠٠% <input type="checkbox"/>	إلى أقل من ١٠٠% <input type="checkbox"/>	إلى أقل من ٩٠% <input type="checkbox"/>	أقل من ٨٠% <input type="checkbox"/>		

(أ) ضعي علامة (√) أمام العبارات الصحيحة وعلامة (X) أمام العبارات الخاطئة :



(١) تعتبر النباتات مخلوقات حية لأنها تنمو وتتنفس وتتكاثر. ()

(٢) غاز تطلقه النباتات عندما تصنع الغذاء الأكسجين. ()

(٣) أجزاء صلبة غير حية من التربة هي حبوب اللقاح. ()

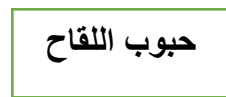
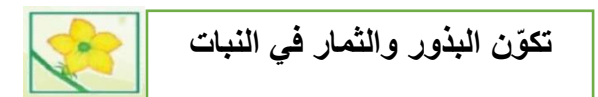
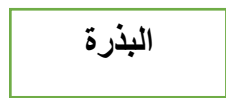
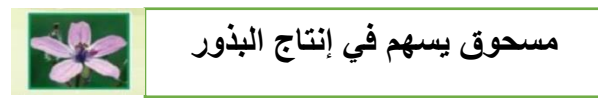
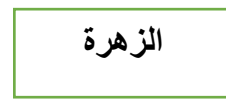
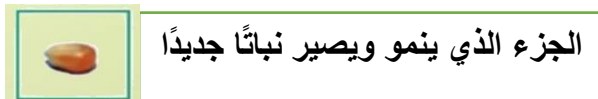
مستوى أداء الطالبة في المعيار				المعيار	رقم المعيار
متفوق <input type="checkbox"/>	متقدم من ٩٠% <input type="checkbox"/>	متمكن من ٨٠% <input type="checkbox"/>	غير مجتاز <input type="checkbox"/>	تعداد حاجات النبات	٣ *
١٠٠% <input type="checkbox"/>	إلى أقل من ١٠٠% <input type="checkbox"/>	إلى أقل من ٩٠% <input type="checkbox"/>	أقل من ٨٠% <input type="checkbox"/>		

(ب) لَوّني في الرسم أمامك ما تحتاجه المخلوقات الحية:



مستوى أداء الطالبة في المعيار				المعيار	رقم المعيار
متفوق <input type="checkbox"/>	متقدم من ٩٠% <input type="checkbox"/>	متمكن من ٨٠% <input type="checkbox"/>	غير مجتاز <input type="checkbox"/>	وصف مبسط للذرة مع بيان مصدرها	٤
١٠٠% <input type="checkbox"/>	إلى أقل من ١٠٠% <input type="checkbox"/>	إلى أقل من ٩٠% <input type="checkbox"/>	أقل من ٨٠% <input type="checkbox"/>		

(ج) صلي المفردة العلمية بالعبارات المناسبة لها:



ورقة عمل لمهارات مادة العلوم (١) للصف الثاني الابتدائي للفصل الأول لعام ١٤٤٣-١٤٤٤ هـ

الصف: ٢ /

اسم الطالبة:

مستوى أداء الطالبة في المعيار				المعيار	رقم المعيار
متفوق	متقدم من ٩٠٪	متمكن من ٨٠٪	غير مجتاز	ترتيب مجموعة صور لمراحل دورة حياة نبات ما	٥ *
١٠٠٪	إلى أقل من ١٠٠٪	إلى أقل من ٩٠٪	أقل من ٨٠٪		

(د) رتب الصور التالية التي تظهر دورة حياة نمو نبات الفاصولياء مستخدمة الأرقام من ١ - ٤



تمنياتي لكم بالتوفيق والنجاح

معلمة المادة / نجلاء الزهراني