


شكراً لتحميلك هذا الملف من موقع المناهج السعودية



تقويم مخرجات الوحدة السادسة تربية بدنية

موقع المناهج ← المناهج السعودية ← الصف الثاني ← التربية البدنية ← الفصل الثاني ← الملف

تاريخ نشر الملف على موقع المناهج: 2024-01-20 14:49:14 | اسم المدرس: منصور شامي

التواصل الاجتماعي بحسب الصف الثاني



المزيد من الملفات بحسب الصف الثاني والمادة التربية البدنية في الفصل الثاني

أسئلة اختبار منتصف الفصل مع نموذج الإجابة	1
خطة توزيع منهج التربية البدنية والدفاع عن النفس	2
تحضير دروس المنهج	3
مسرد دروس التربية البدنية	4
تحضير دروس التربية البدنية	5

ثانية ابتدائي تربية بدنية تقويم مخرجات الوحدة السادسة

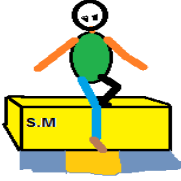
اختاري النشاط الذي يمثل عنصر اللياقة البدنية المرتبطة بالأداء (الرشاقة).

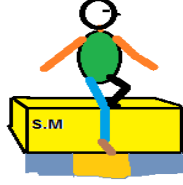


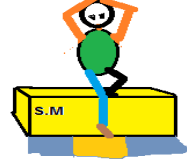




اختاري الأداء الصحيحة لمهارة الهبوط على قدم واحدة من ارتفاعات منخفضة :







اختاري النشاط البدني الذي يتم فيه دوران الجسم حول المحور العرضي :

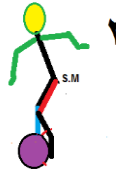


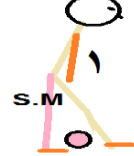





اختاري الأداء الصحيح لتثبيت الكرة بالقدم :








اختاري النشاط البدني الذي يوضح اشراك الزميل في استخدام الأدوات المخصصة لهما اثناء ممارسة النشاط البدني بطريقة صحيحة :







الاجابات

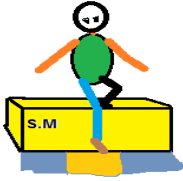
اختر/ي النشاط الذي يمثل عنصر اللياقة البدنية المرتبطة بالأداء (الرشاقة).

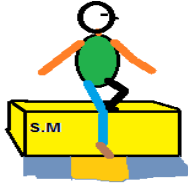







اختر/ي الأداء الصحيحة لمهارة الهبوط على قدم واحدة من ارتفاعات منخفضة :







اختر/ي النشاط البدني الذي يتم فيه دوران الجسم حول المحور العرضي :

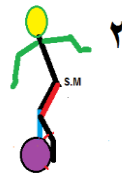






اختر/ي الأداء الصحيح لتثبيت الكرة بالقدم :







اختر/ي النشاط البدني الذي يوضح اشراك الزميل في استخدام الأدوات المخصصة لهما اثناء ممارسة النشاط البدني بطريقة صحيحة :





