

شكراً لتحميلك هذا الملف من موقع المناهج السعودية



اختبار تشخيصي سكرة الشمري

[موقع المناهج](#) ⇨ [المناهج السعودية](#) ⇨ [الصف الثاني](#) ⇨ [علوم](#) ⇨ [الفصل الثاني](#) ⇨ [الملف](#)

تاريخ نشر الملف على موقع المناهج: 17:01:31 2023-11-24

التواصل الاجتماعي بحسب الصف الثاني



المزيد من الملفات بحسب الصف الثاني والمادة علوم في الفصل الثاني

ملزمة وأوراق عمل 1445هـ سكرة الشمري	1
نموذج إجابة التقويم الختامي للمهارات	2
تقويم ختامي للمهارات	3
ملخص مفيد للدروس	4
بوربوينت درس تقلابات الطقس	5





اختبار تشخيصي لمادة العلوم الصف الثاني لعام ١٤٤٥ هـ

(درجتان لكل فقرة)

١٠ درجات

* / نضع علامة (٤) تحت الأجوبة الصحيحة :





١ / أي المراحل التالية تمثل بداية السلسلة الغذائية :

أ	ب	ج	د
			

٢ / كيف تختلف النباتات عن باقي المخلفات ؟

أ	ب	ج	د
تحتل مكان صغير	تحتاج للهواء لتنمو	تحتاج للماء لتعيش	تنتج غذاءها من الشمس

٣ / أي من هذه المواطن تعيش فيها السحلية :

أ	ب	ج	د
			

٤ / ما الخاصية التي ساعدت الدب القطبي على العيش في المنطقة القطبية :

أ	ب	ج	د
الفرو السميك	العيون الحادة	الحراشيف	الاسنان الحادة

٥ / المرحلة الأخيرة من دورة حياة الفراشة هي :

أ	ب	ج	د
