

شكراً لتحميلك هذا الملف من موقع المناهج السعودية



نموذج تقويمي ختامي للمهارات

[موقع المناهج](#) ← [المناهج السعودية](#) ← [الصف الثاني](#) ← [علوم](#) ← [الفصل الثالث](#) ← [الملف](#)

التواصل الاجتماعي بحسب الصف الثاني



روابط مواد الصف الثاني على تلغرام

[الرياضيات](#)

[اللغة الانجليزية](#)

[اللغة العربية](#)

[التربية الاسلامية](#)

المزيد من الملفات بحسب الصف الثاني والمادة علوم في الفصل الثالث

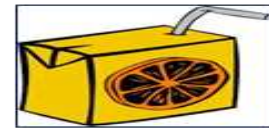
أسئلة اختبار نهائي	1
نموذج تقويمي ختامي للمهارات	2
بوربوينت استعمال الطاقة	3
اختبار منتصف الفصل	4
اختبار قياس المهارات	5

التاريخ:	 وزارة التعليم Ministry of Education	المملكة العربية السعودية
المادة: العلوم		وزارة التعليم
الصف: الثاني الابتدائي		الابتدائية الأربعة الإدارة العامة للتعليم بمنطقة المدرسة/.....
اسم الطالب/ة..... الفصل/.....		

تقويم ختامي لمهارات علوم الصف الثاني – (الفصل الدراسي الثالث) عام ١٤٤٤ هـ

السؤال الأول:

* من خلال الصور التالية نحدد المواد (صلبة _ سائلة _ غازية) تحت كل صورة



.....

.....

.....

.....

.....

* نصل المفردة والعبارة المناسبة لها:

السؤال الثاني :

مادة تنتج حرارة عند احتراقها

المادة

هي أي شيء يشغل مكانا ، وله كتلة

القوة

مؤثر يغير الحالة الحركية للجسم ، دفع أو سحب

الوقود

* نجيب عما يأتي بصح أو خطأ:

السؤال الثالث :

(.....)

١_ يقاس حجم السائل بوحدة اللتر

(.....)

٢_ المادة الصلبة لها شكل محدد

(.....)

٣_ الاحتكاك قوة تبطئ حركة الاجسام

(.....)

٤_ نقيس درجة الحرارة بالمسطرة

* مانوع القوة المستخدمة لتحريك الأشياء فيما يلي ؟


السؤال الرابع :



.....

.....

.....











←

* ايهما يمثل تغير كيميائي في الصورتين

السؤال الخامس :

* نضع كل كلمة مما يلي في المكان المناسب :

الاجاذبية	السحب	الدفع	الاحتكاك
<input type="text"/>			
<input type="text"/>			
<input type="text"/>			
<input type="text"/>			

تم تحميل هذا الملف من

موقع المناهج السعودية

* بين الشكل التالي



(.....)

* نحدد فيما يلي مصادر الحرارة التي نستخدمها في حياتنا اليومية :









* ماذا يحدث للمادة في الصورة عند تعرضها للحرارة :

السؤال السادس :



.....



.....



.....

* نحيط الاجسام التي يجذبها المغناطيس :



سكره الشمري