

## شكراً لتحميلك هذا الملف من موقع المناهج السعودية



## ملزمة وأوراق عمل 1445هـ سكرة الشمري

[موقع المناهج](#) ⇨ [المناهج السعودية](#) ⇨ [الصف الثاني](#) ⇨ [علوم](#) ⇨ [الفصل الثاني](#) ⇨ [الملف](#)

تاريخ نشر الملف على موقع المناهج: 19:05:04 2023-11-16 | اسم المدرس: سكرة الشمري

## التواصل الاجتماعي بحسب الصف الثاني



## المزيد من الملفات بحسب الصف الثاني والمادة علوم في الفصل الثاني

<a href="#">نموذج إجابة التقويم الختامي للمهارات</a>	1
<a href="#">تقويم ختامي للمهارات</a>	2
<a href="#">ملخص مفيد للدروس</a>	3
<a href="#">يوربونت درس تقلبات الطقس</a>	4
<a href="#">حل أوراق العمل والملزمة</a>	5

# ملزمة وأوراق عمل مادة العلوم

الصف الثاني الابتدائي  
الفصل الدراسي الثاني لعام ١٤٤٥ هـ

الاسم : .....




الفصل : .....





# تقييم الوحدة



التوصيات	التقييم		
			





## الدرس الأول ( اليابسة )

### أغلفة الأرض

غلاف صخري

غلاف مائي

غلاف جوي

٢\_ من خلال الصور التالية نحدد اشكال اليابسة :



...الوادي...



...البحر...



...صحراء...



...تلال...

3- نصل بين المفردة والعبارة المناسبة لها :

أجزاء صغيرة من اليابسة محاطة بالماء من جميع الاتجاهات

قارة

الأجزاء الكبيرة من اليابسة محاطة بالمحيطات

جزيرة










## الدرس الثاني ( الماء على الأرض )

١\_ من خلال الصور نضع إشارة ✓ تحت استخدامات الماء :



(✓...)



(.....)



(✓...)



(✓...)



(✓...)

٢\_ هل العبارات التالية صحيحة؟

(✓...)

١\_ تغطي المحيطات ثلاثة ارباع الأرض

(✓...)

٢\_ من مصادر الماء العذب الابار

(✗...)

٣\_ توجد معظم مياه الأرض في الجبال

٣\_ الحيوان التالي لا يستطيع أن يشرب من :



العيون

المحيطات

الانهار





# الفصل السادس (موارد الأرض) الدرس الأول (الصخور والمعادن)

١\_ نصل كل مفردة مع العبارة المناسبة:


أجزاء غير حية تتكون منها الصخور

أشياء غير حية موجودة في الأرض

الصخور

المعادن

٢\_ نربط بين صورة المعدن واستعمالاته:



موارد طبيعية

هواء ، ماء

حيوان ، نبات





## الدرس الثاني ( التربة )

### ١\_ نصل كل صورة بالعبارة المناسبة :



تربة زراعية (سطحية) فيها كثير  
من الدبال

تربة طينية

تربة رملية


### ٢\_ من خلال الصورة نكتب المطلوب

١\_ افضل طبقة لنمو النباتات :

.....التربة السطحية.....

٢\_ تحتوي التربة السطحية على :

.....بقايا نباتات وحيوانات.....





## الدرس الثاني ( التربة )



# مما تتكون التربة



١- .....تفتت صخور ومعادن.....

٢- .....بقايا نباتات وحيوانات ميتة.....

# (.....الدبال.....) تربة تحوي الكثير من بقايا



النباتات والحيوانات المتحللة

تختلف التربة في لونها وملمسها:





# الوحدة الرابعة ( الفضاء )

الفصل السابع ( الأرض والسماء )

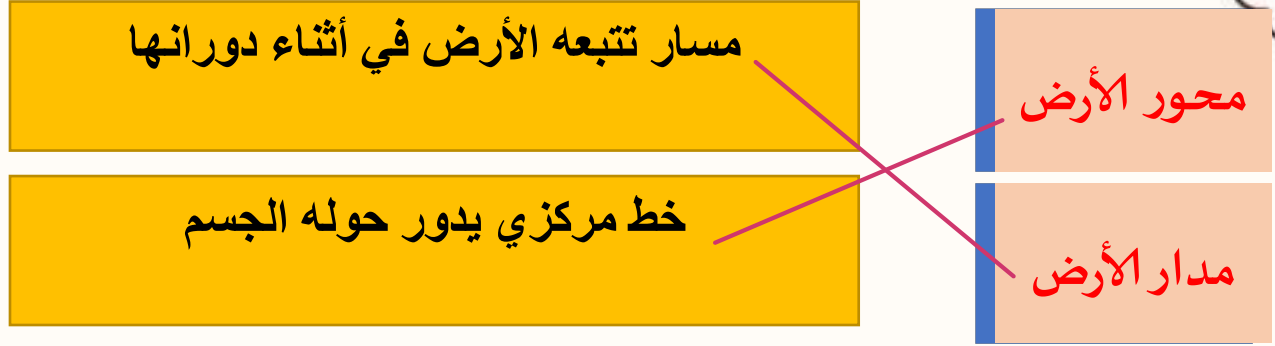
التوصيات	التقييم		
			






## الدرس الأول ( الليل والنهار )

١\_ نصل بين المفردة والعبارة المناسبة لها :



# توضح الصورة التالية :



١\_ ( الحركة الدورانية للأرض. )

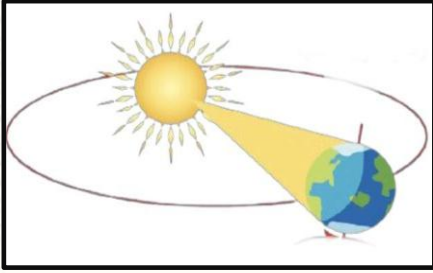
٢\_ دورة الأرض الكاملة مدتها ..... ٢٤ ..... ساعة .







## الدرس الأول ( الليل والنهار )



1- ماذا ينتج عن دوران الأرض حول الشمس ؟

..... للفصول الأربعة .....

2- اختر الصورة التي تمثل الليل



(.....✓.....)

(.....)

3- من خلال الصور التالية ومشاهدة الظل نكتب الوقت المناسب :



٥:٣٠ ع

١٢:٠٠ ظ

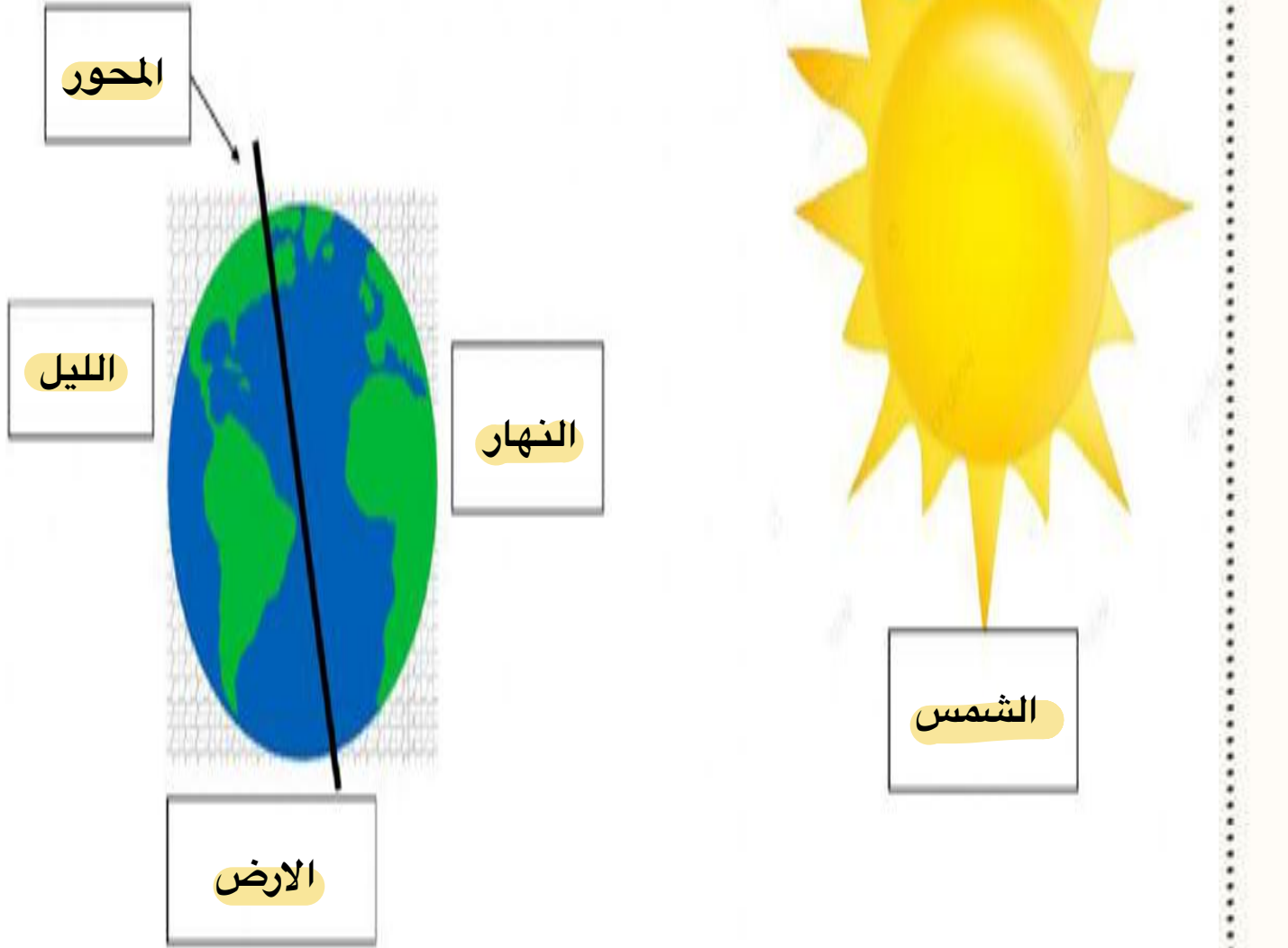
٨:٠٠ ص





## الدرس الأول ( الليل والنهار )

١- نكمل حسب المطلوب في الصورة :




الارض      الليل      الشمس      المحور      النهار





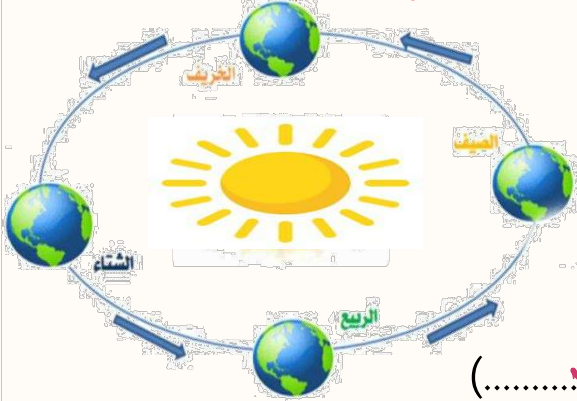
## الدرس الثاني ( سبب حدوث الفصول )

١- تحت كل صورة نكتب اسم الفصول الأربعة :



(...الربيع...) (...الخريف...) (...الصيف...) (...الشتاء...)

٢- في الصورة التالية ملاحظة التي تنتج عن دوران الأرض حول الشمس



.....الفصول الأربعة.....

٣- أجب عما يأتي بصح أو خطأ:

١- في الخريف يتغير لون أوراق الشجر (.....) ✓

٢- تتساقط الثلوج في فصل الصيف (.....) ✗

فطاً



أو

صحيح







# الفصل الثامن ( السماء ) الدرس الأول ( القمر والنجوم )

١- من خلال الكلمات التالية نكمل العبارات:

ثمانية

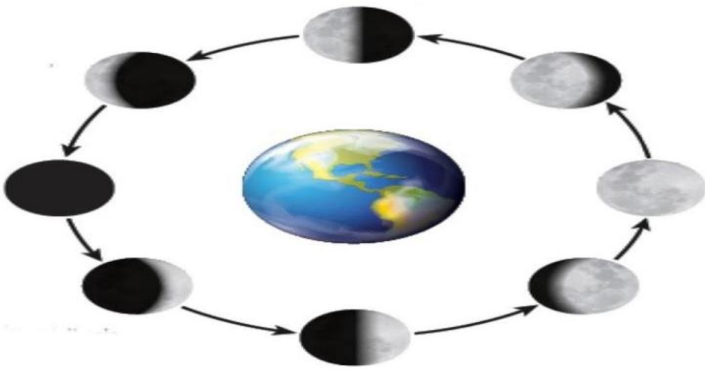
الكواكب

النجم

١\_ نظامنا الشمسي فيه.....**ثمانية**... كواكب

٢\_.....**النجم**..... يصدر ضوء وحرارة

٣\_.....**الكواكب**... جسم كروي يدور حول نجم



٢- ماذا نسمي اشكال القمر خلال الشهر

.....**اطوار القمر**.....


.....



صفات النجوم

**مضيء**

**لامع**






## الدرس الأول ( القمر والنجوم )



أو



النجوم كلها مضيئة ( ..... )



مَنْ أَنَا؟

نجم متوسط الحجم , يبدو  
كبيرا لأنه قريب من  
الأرض

( ..... الشمس ..... )





## الدرس الثاني ( النظام الشمسي )




١\_ مما يتكون نظامنا الشمسي ؟

.....# الشمس

.....# كواكب

.....# أقمار

# أين كوكب الأرض







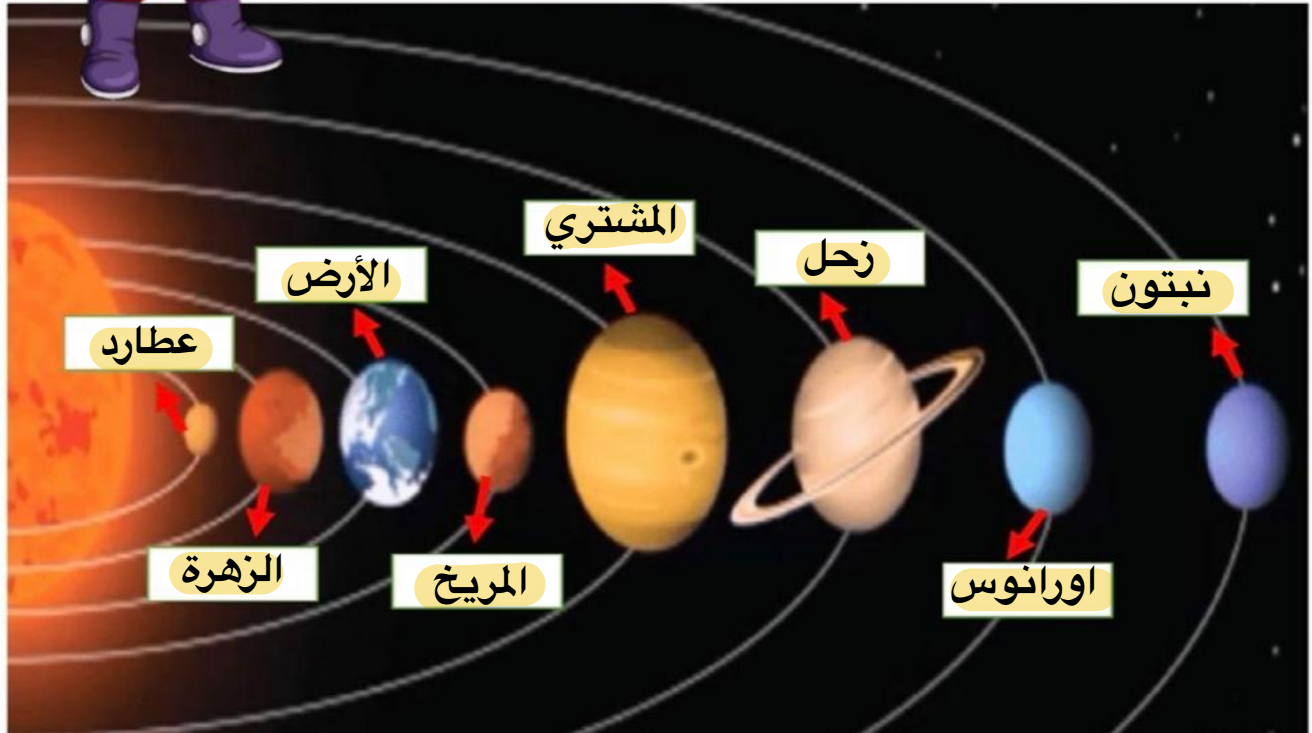

## الدرس الثاني ( النظام الشمسي )

1\_ مالذي يدور حول الشمس ؟

.....الكواكب.....



الأرض عطارد المشتري  
اورانوس نبتون الزهرة المريخ



2\_ على الصورة السابقة ندون أسماء  
الكواكب في المكان المخصص





## الدرس الثاني ( النظام الشمسي )

١- نصل كل كوكب بالعبارة المناسبة له :

فيها ماء وهواء ولها قمر واحد



له حلقات حوله مكونة من الثلج والصخور



اكبر الكواكب وله 63 قمرا



اسخن الكواكب حيث تحجب سحبه الكثيفة  
حرارة الشمس

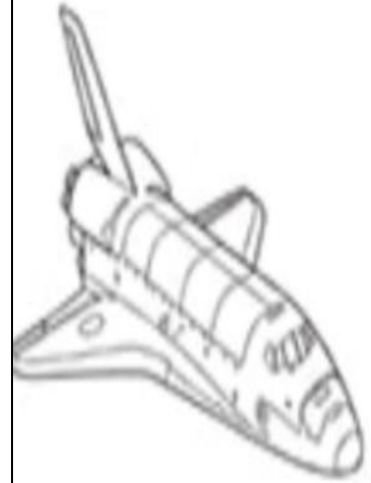




# الدرس الثاني ( النظام الشمسي )

يترك للطلاب

## اقرأ ولون



زحل

