





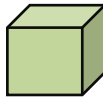
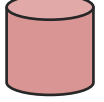
أسئلة اختبار مادة الرياضيات الصف الثاني

رياضيات	المادة	اسم الطالبة /	المدرسة/
الفصل	الثاني	الصف	الثاني
		الرابعة	الفترة
			الفصل الدراسي



1/ صل كل مجسم باسمه فيما يأتي :

<p>تميز المجسمات المكعب، الكرة المخروط، الهرم، الاسطوانة متوازي المستطيلات، الهرم) ووصفها بحسب عدد الأوجه والرؤوس والأحرف فيها</p> <p>الدرجة:</p>		مكعب	
		هرم	
		أسطوانة	
		متوازي مستطيلات	
		مخروط	
		كرة	

2/ أحوط الأشياء التي توافق الوصف:

<p>ب / له 6 أوجه و 12 حرف و 8 رؤوس :</p>   	<p>أ / 2 وجه 0 حرف 0 رأس :</p>   
--	---

3/ قيسي الطول باستخدام وحدات غير قياسية ثم بالمسطرة:

<p>قياس الطول وتقديره باستعمال (وحدات غير قياسية، مسطرة، السنتمترات)</p> <p>الدرجة:</p>		
	_____ سنتمترات	_____ مكعبات تقريبا