

تم تحميل هذا الملف من موقع المناهج الإماراتية



\*للحصول على أوراق عمل لجميع الصفوف وجميع المواد اضغط هنا

<https://almanahj.com/sa>

\* للحصول على أوراق عمل لجميع مواد الصف الثاني اضغط هنا

<https://almanahj.com/sa/2>

\* للحصول على جميع أوراق الصف الثاني في مادة رياضيات وجميع الفصول, اضغط هنا

<https://almanahj.com/sa/2>

\* للحصول على أوراق عمل لجميع مواد الصف الثاني في مادة رياضيات الخاصة بـ اضغط هنا

<https://almanahj.com/sa/2>

\* لتحميل كتب جميع المواد في جميع الفصول للـ الصف الثاني اضغط هنا

<https://almanahj.com/sa/grade2>

للتحدث إلى بوت المناهج على تلغرام: اضغط هنا

[https://t.me/almanahj\\_bot](https://t.me/almanahj_bot)

ورقة عمل: قياس الطول بالسنتيمتر - استعمال المسطرة

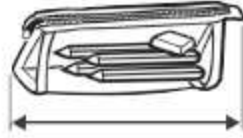
الاسم :

الصف : الثاني

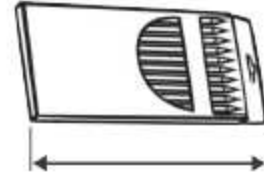
التاريخ

١٤٤٢ / / هـ

أَبْحَثُ عَنِ الْأَشْيَاءِ الْمَوْضُوحَةِ صُورُهَا، ثُمَّ أقيس أطوالها مُسْتَعْمِلًا وَحْدَةَ قِيَاسٍ طُولُهَا سَنْتِمِترٌ وَاحِدٌ:




سَنْتِمِترَاتٍ تَقْرِيبًا .....



سَنْتِمِترَاتٍ تَقْرِيبًا .....



سَنْتِمِترَاتٍ تَقْرِيبًا .....



سَنْتِمِترَاتٍ تَقْرِيبًا .....

أَقْدِرُ طُولَ قَدَمِي وَارْتِفَاعَ كَفِّي وَطُولَ ذِرَاعِي، ثُمَّ أَجِدُ قِيَاسَهُ بِالسَّنْتِمِترَاتِ:

الشيءُ	التقديرُ	القياسُ
	سَنْتِمِترَاتٍ تَقْرِيبًا .....	سَنْتِمِترَاتٍ .....
	سَنْتِمِترَاتٍ تَقْرِيبًا .....	سَنْتِمِترَاتٍ .....
	سَنْتِمِترَاتٍ تَقْرِيبًا .....	سَنْتِمِترَاتٍ .....