

تم تحميل هذا الملف من موقع المناهج السعودية



أوراق عمل شاملة للفصل الثاني

موقع المناهج ← المناهج السعودية ← الصف الثاني ← علوم ← الفصل الثاني ← أوراق عمل ← الملف

تاريخ إضافة الملف على موقع المناهج: 2024-11-25 13:25:38

ملفات اكتب للمعلم اكتب للطالب الاختبارات الكترونية | اختبارات | حلول | عروض بوربوينت | أوراق عمل
منهج انجليزي | ملخصات و تقارير | مذكرات و بنوك | الامتحان النهائي للمدرس

المزيد من مادة
علوم:

التواصل الاجتماعي بحسب الصف الثاني



صفحة المناهج
السعودية على
فيسبوك

الرياضيات

اللغة الانجليزية

اللغة العربية

التربية الاسلامية

المواد على تلغرام

المزيد من الملفات بحسب الصف الثاني والمادة علوم في الفصل الثاني

خطة توزيع مقرر علوم 2 للفصل الثاني

1

مراجعة وملخص جميل للمنهج

2

اختبار تشخيصي

3

تقويم ختامي للمهارات

4

سجل التقويم المستمر في العلوم

5



وزارة التعليم
Ministry of Education



العلوم

2

أوراق عمل مادة العلوم الصف الثاني ابتدائي

الفصل الدراسي الثاني

اسم الطالب/ة:



لاشيء يُعلمنا أفضل من تجاربنا"
المعلمة: أمل الزهراني



اسم الطالب/ة: الصف:

اضع الكلمات التالية في مكانها المناسب:

(الجبال - الجزيرة - الوادي - السهل - التلال)



.....

اختر الإجابة الصحيحة:

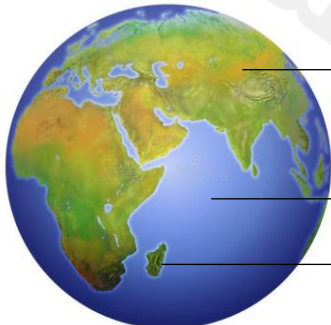
١- هو الغازات المحيطة بالكرة الأرضية.		
الغلاف المائي	الغلاف الجوي	الغلاف الصخري
٢- هو نسبة اليابسة على الأرض وتشكل جزء صغير من مساحة الأرض.		
الغلاف المائي	الغلاف الجوي	الغلاف الصخري
٣- هو نسبة الماء على كوكب الأرض ويشكل الجزء الأكبر من مساحة الأرض.		
		
الغلاف المائي	الغلاف الجوي	الغلاف الصخري

اضع الكلمات التالية في مكانها المناسب: (الماء - السهول - الصحراء - الجبال)

- يشير اللون البني الى.....
- يشير اللون الأصفر الى.....
- يشير اللون الأخضر الى.....
- يشير اللون الأزرق الى.....



اضع الكلمات التالية في مكانها المناسب: (محيط - جزيرة - قارة)



اختار الإجابة الصحيحة:

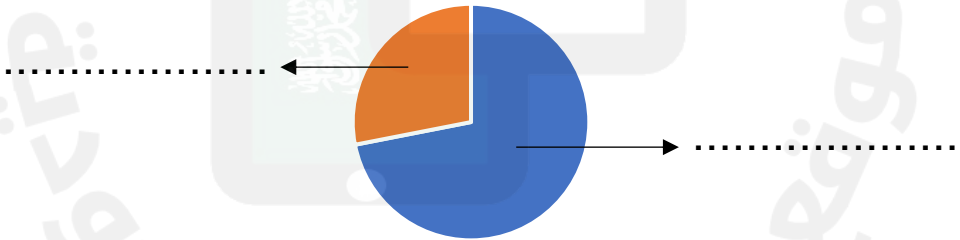
١- توجد المياه العذبة في		
الانهار	البحار	المحيطات
٢- توجد المياه المالحة في		
الجليد	الأنهار	المحيطات
٣- يشرب الغزال من..... 		
النهر	المحيط	البحر
٤- تجمع كبير وعميق من الماء المالح.		
المحيط	العيون	النهر

اضع علامة ✓ او ✗ :

١- نسبة المياه العذبة على سطح الأرض اقل من المياه المالحة ()

(الماء - اليابسة)

اضع الكلمات التالية في مكانها المناسب:



اضع علامة ✓ تحت استخدامات الماء :



اسم الطالب/ة: الصف:

اضع علامة ✓ تحت الموارد الطبيعية :



(.....)



(....)



(.....)



(.....)



(.....)



(.....)

اصل كل مفردة بما يناسبها:

أجزاء صلبة غير حية تتكون منها الصخور.

الصخور

أشياء غير حية موجودة في الأرض.

المعادن

اضع علامة ✓ او ✗ :

- ١- جميع الصخور متشابهة في الشكل والحجم واللون والملمس ()
- ٢- لكي يعثر الناس على المعادن فانهم يحفرون في الأرض بحثاً عنها ()



اضع دائرة على الذي صنع من صخر

اصل العمود الأول بما يناسبه في العمود الاخر:



الفلورايت



التركواز



الجزايت



المجنايت

اختار الإجابة الصحيحة:

١- خليط من فتات الصخور وقطع صغيرة من بقايا نباتات وحيوانات ميتة.		
المعادن	التربة	السلطة
٢- تربة تحوي الكثير من بقايا النباتات والحيوانات المتحللة.		
المعادن	الصخور	الدبال
٣- افضل طبقة لنمو النباتات:		
الطبقة الصخرية	الطبقة تحت السطحية	الطبقة السطحية

اضع علامة ✓ او ✗ :



١- تختلف أنواع التربة في لونها وملمسها ()

٢- تحتاج التربة وقت قصير لتتكون ()



تربة رملية


تربة زراعية

اصل كل صورة بما يناسبها:

اضع الكلمات التالية في مكانها المناسب:

التربة تحت السطحية

التربة السطحية



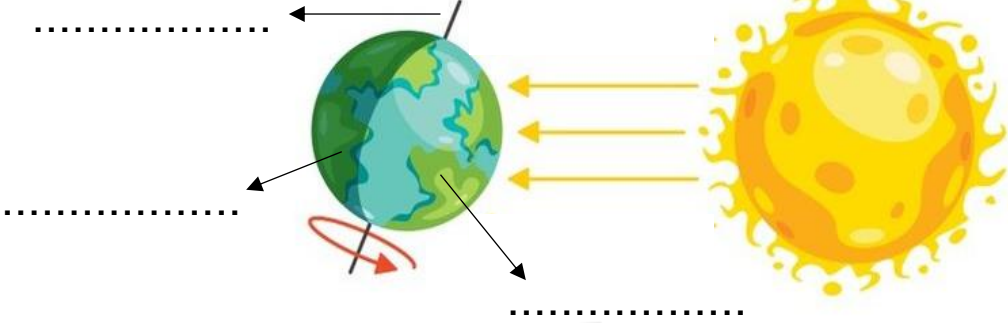
اسم الطالب/ة : الصف :

اضع الكلمات التالية في مكانها المناسب:

النهار

الليل

المحور



اختر الإجابة الصحيحة:

<p>١- تدور الأرض حول نفسها باستمرار ويسمى ذلك ب.....</p>		
الدبال	الحركة الدورانية للأرض	موارد الارض
<p>٢- تدور الأرض حول خط وهمي يسمى.....</p>		
القمر	المحور	الدبال
<p>٣- تدور الأرض دورة كاملة حول محورها كل :</p>		
٢٤ ساعة	٢ ساعة	٤ ساعات

اضع الكلمات التالية في مكانها المناسب:

ظهراً

صباحاً


عصراً



.....




.....



.....

اختار الإجابة الصحيحة:

١- فصل يتغير فيه لون أوراق الشجر ويتساقط:		
	الخريف	الصيف
الشتاء		
٢- فصل يصبح فيه الهواء بارداً وتتساقط الامطار والثلوج في بعض المناطق:		
	الصيف	الربيع
الشتاء		
٣- فصل تتفتح فيه الازهار وتخرج الحيوانات من جحورها:		
	الخريف	الصيف
الربيع		
٤- فصل ترتفع فيه درجة الحرارة ويصبح النهار أطول من الليل:		
	الشتاء	الصيف
الخريف		
٥- تحتاج الأرض لتدور حول الشمس:		
سنة كاملة	ساعة	يوم

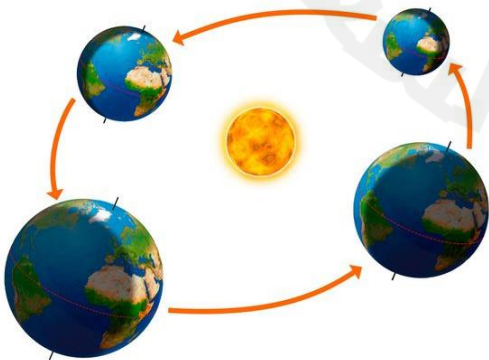
اختار الإجابة الصحيحة:

١- سبب حدوث الليل والنهار

(دوران الأرض حول محورها - دوران الأرض حول الشمس)

٢- سبب حدوث الفصول الأربعة

(دوران الأرض حول محورها - دوران الأرض حول الشمس)



اختر الإجابة الصحيحة:

١- يستغرق دوران القمر ليدور حول الأرض دورة كاملة. 		
يوم واحد	شهر واحد	سنة كاملة
٢- يسمى شكل القمر المجاور بـ: 		
الهلال	تربيع اول	بدر
٣- يسمى كل شكل من اشكال القمر بـ: 		
خريف	طور	كوكب
٤- جسم في الفضاء يتكون من غازات ساخنة متوهجة. 		
الأرض	النجم	الغبار
٥- يسمى الشكل المجاور: 		
قمر	شمس	مجموعة نجمية

اضع علامة ✓ او ✗ :



١- النجوم كلها مضيئة والوانها واحجامها مختلفة ()

٢- اقرب نجم للأرض هو الشمس ()

٣- الشمس نجم متوسط الحجم ونراه كبيراً لأنه قريب من الأرض ()

ارتب اطوار القمر التالية:



التربيع الأخير

(....)



البدر

(....)



الهلال الأول













(....)



التربيع الأول

(....)

اختار الإجابة الصحيحة:

١- جسم كروي ضخم يتحرك حول الشمس.		
 شمس	 كواكب	 قمر
٢- اقرب كوكب الى الشمس:		
 عطارد	 الزهرة	 الأرض
٣- اكبر الكواكب وله ٦٣ قمر :		
 المشتري	 الارض	 عطارد
٤- كوكب له حلقات حوله:		
 نبتون	 المريخ	 زحل
٥- عدد الكواكب في النظام الشمسي:		
٨	٥	٣

ارتب الكواكب في النظام الشمسي

زحل
نبتون
المشتري
عطارد
الأرض
اورانوس
المريخ
الزهرة

مما يتكون النظام الشمسي؟



..... و و

معلمة المادة: أمل الزهراني





وزارة التعليم
Ministry of Education



العلوم

2

ان اصببت فهو من الله وان أخطأت
فهو مني ومن الشيطان

لا تنسونا من دعواتكم الصادقة في
حين استفدت من هذا الملف



أختاكم: أمل الزهراني

