

شكراً لتحميلك هذا الملف من موقع المناهج السعودية



حل أوراق العمل والملزمة

[موقع المناهج](#) ⇨ [المناهج السعودية](#) ⇨ [الصف الثاني](#) ⇨ [علوم](#) ⇨ [الفصل الثاني](#) ⇨ [الملف](#)

تاريخ نشر الملف على موقع المناهج: 2022-12-12 08:06:18 | اسم المدرس: سكره الشمري

التواصل الاجتماعي بحسب الصف الثاني



المزيد من الملفات بحسب الصف الثاني والمادة علوم في الفصل الثاني

نموذج إجابة التقويم الختامي للمهارات	1
تقويم ختامي للمهارات	2
ملخص مفيد للدروس	3
يوربوينت درس تقلبات الطقس	4
حل أوراق العمل والملزمة	5

ملزمة وأوراق عمل مادة العلوم




الصف الثاني الابتدائي
الفصل الدراسي الثاني لعام ١٤٤٤ هـ

الاسم:

الفصل:



تقييم الوحدة

التوصيات	التقييم		
			





الدرس الأول (اليابسة)

أغلفة الأرض

غلاف صخري

غلاف مائي

غلاف جوي

٢_ من خلال الصور التالية نحدد اشكال اليابسة :




...الوادي...



...البحر...



...صحراء...



...تلال...

3- نصل بين المفردة والعبارة المناسبة لها :

أجزاء صغيرة من اليابسة محاطة بالماء من جميع الاتجاهات

قارة

الأجزاء الكبيرة من اليابسة محاطة بالمحيطات

جزيرة





الدرس الأول (اليايسة)

١_ نكمل الفراغات التالية بما يلي :

التلال

الوادي

الجبل

مختلفة

1_ منطقة مرتفعة جدا من اليايسة**المجبل**....

2- اليايسة لها اشكال ..**مختلفة**...

3_ **الوادي**. ارض منخفضة بين الجبال والتلال

4- مناطق مرتفعة ولكن أقل ارتفاع من الجبال ...**التلال**..



٢_ من الشكل السابق احدد الى ماذا تشير الألوان ؟



الماء

الصحراء

الجبال






الدرس الثاني (الماء على الأرض)

١_ من خلال الصور نضع إشارة ✓ تحت استخدامات الماء :



(✓...)



(.....)



(✓...)



(✓...)



(✓...)

٢_ هل العبارات التالية صحيحة؟

(✓...)

١_ تغطي المحيطات ثلاثة ارباع الأرض

(✓...)

٢_ من مصادر الماء العذب الابار

(✗...)

٣_ توجد معظم مياه الأرض في الجبال

٣_ الحيوان التالي لا يستطيع أن يشرب من :



العيون

المحيطات

الانهار





الفصل السادس (موارد الأرض) الدرس الأول (الصخور والمعادن)

١_ نصل كل مفردة مع العبارة المناسبة:


أجزاء غير حية تتكون منها الصخور

الصخور

أشياء غير حية موجودة في الأرض

المعادن

٢_ نربط بين صورة المعدن واستعمالاته:



موارد طبيعية

هواء ، ماء

حيوان ، نبات





الدرس الثاني (التربة)

١_ نصل كل صورة بالعبارة المناسبة :



تربة زراعية (سطحية) فيها كثير
من الدبال

تربة طينية

تربة رملية


٢_ من خلال الصورة نكتب المطلوب

١_ افضل طبقة لنمو النباتات :

.....التربة السطحية.....

٢_ تحتوي التربة السطحية على :

.....بقايا نباتات وحيوانات.....



الدرس الثاني (التربة)



مما تتكون التربة؟



١-تفتت صخور ومعادن.....

٢-بقايا نباتات وحيوانات ميتة.....

(.....الدبال.....) تربة تحوي الكثير من بقايا



النباتات والحيوانات المتحللة

تختلف التربة في لونها ولمسها:





الوحدة الرابعة (الفضاء)

الفصل السابع (الأرض والسماء)

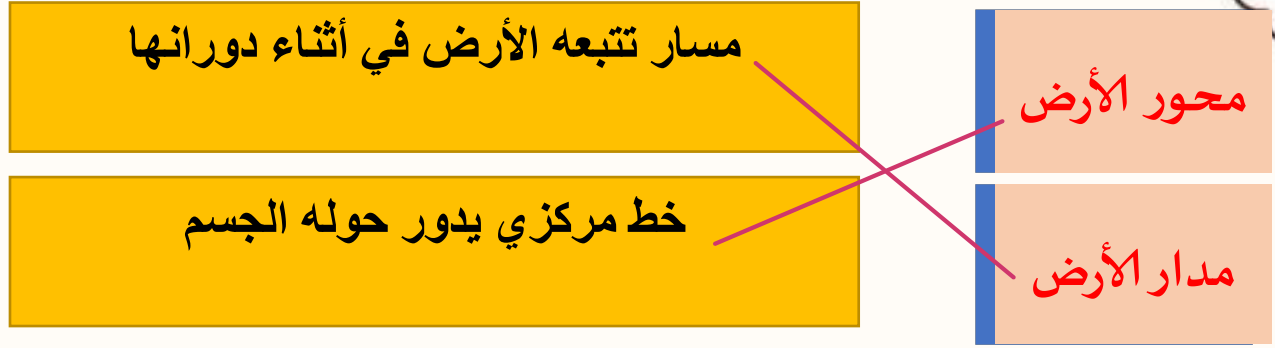
التوصيات	التقييم		
			






الدرس الأول (الليل والنهار)

١_ نصل بين المفردة والعبارة المناسبة لها :



توضح الصورة التالية :



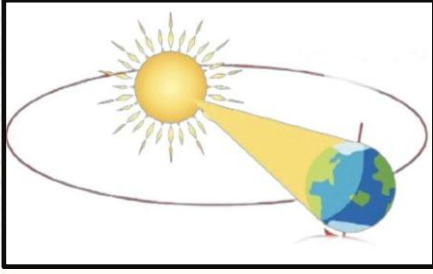
١_ (الحركة الدورانية للأرض) .

٢_ دورة الأرض الكاملة مدتها ٢٤ ساعة .





الدرس الأول (الليل والنهار)



1- ماذا ينتج عن دوران الأرض حول الشمس ؟

..... للفصول الأربعة

2- اختر الصورة التي تمثل الليل



(.....✓.....)

(.....)

3- من خلال الصور التالية ومشاهدة الظل نكتب الوقت المناسب :



٥:٣٠ ع

١٢:٠٠ ظ

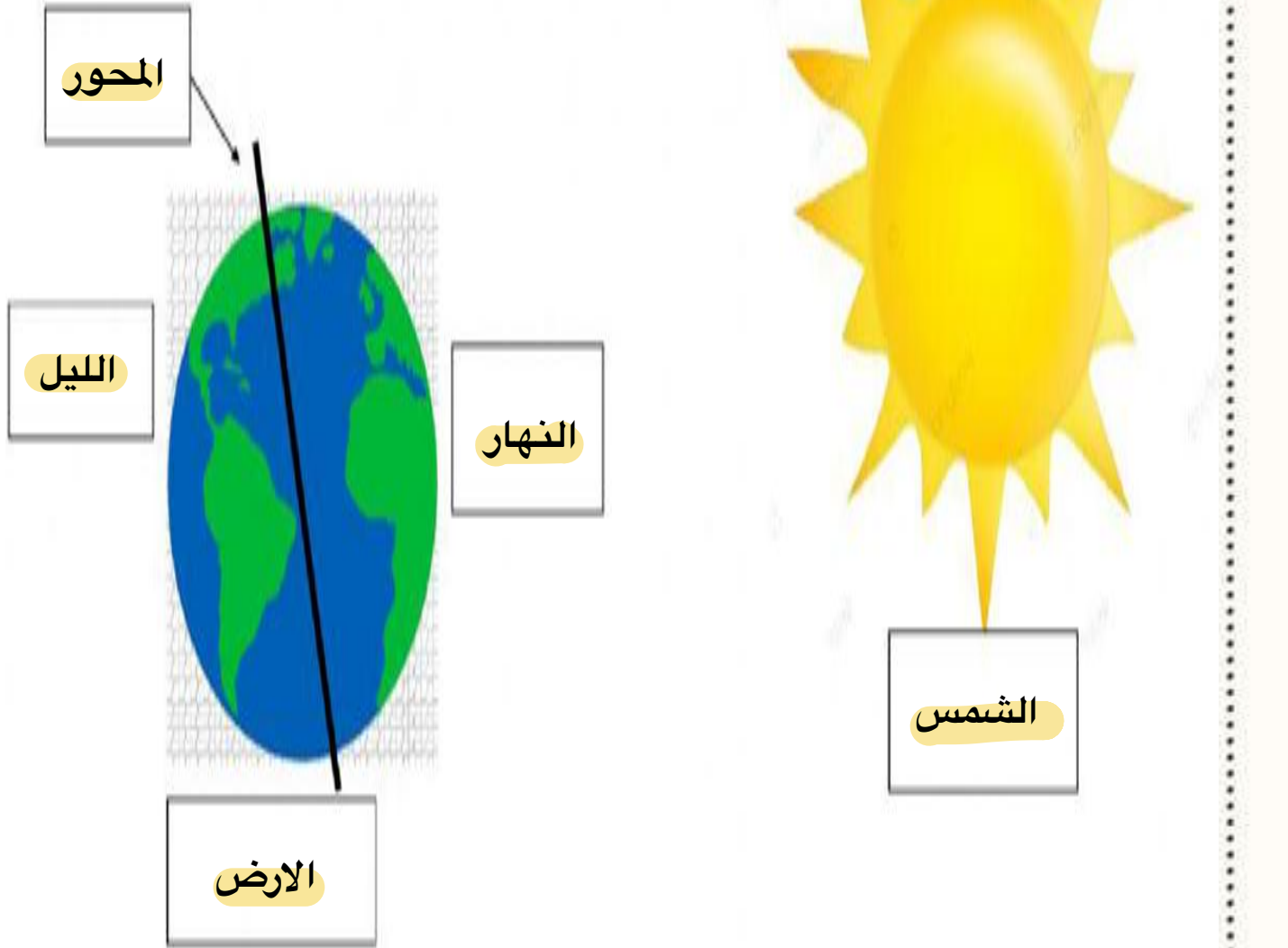
٨:٠٠ ص





الدرس الأول (الليل والنهار)

١- نكمل حسب المطلوب في الصورة :




الأرض الليل الشمس المحور النهار





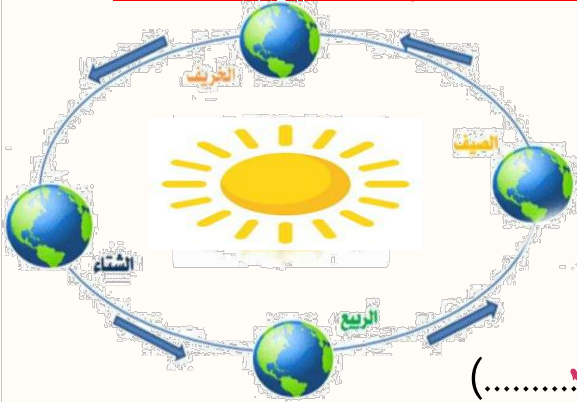
الدرس الثاني (سبب حدوث الفصول)

١- تحت كل صورة نكتب اسم الفصول الأربعة :



(...الربيع....) (...الخريف...) (...الصيف...) (...الشتاء....)

٢- في الصورة التالية ملاحظة التي تنتج عن دوران الأرض حول الشمس



.....الفصول الأربعة.....

٣- أجب عما يأتي بصح أو خطأ:

١- في الخريف يتغير لون أوراق الشجر (.....) ✓

٢- تتساقط الثلوج في فصل الصيف (.....) ✗



أو





الفصل الثامن (السماء) الدرس الأول (القمر والنجوم)

١- من خلال الكلمات التالية نكمل العبارات:

ثمانية

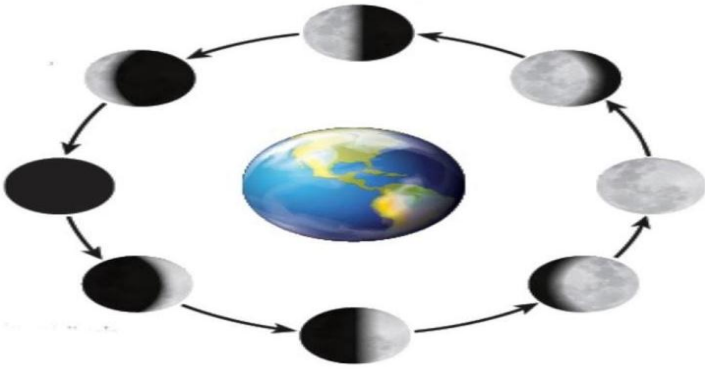
الكواكب

النجم

١_ نظامنا الشمسي فيه... ثمانية... كواكب

٢_... النجم... يصدر ضوء وحرارة

٣_... الكوكب... جسم كروي يدور حول نجم



٢- ماذا نسمي اشكال القمر خلال الشهر


اطوار القمر



صفات النجوم

مضيء

لامع






الدرس الأول (القمر والنجوم)



أو



النجوم كلها مضيئة (.....)



مَنْ أَنَا؟

نجم متوسط الحجم , يبدو
كبيرا لأنه قريب من
الأرض

(..... الشمس)





الدرس الثاني (النظام الشمسي)




١_ مما يتكون نظامنا الشمسي؟

.....# الشمس

.....# كواكب

.....# أقمار

أين كوكب الأرض





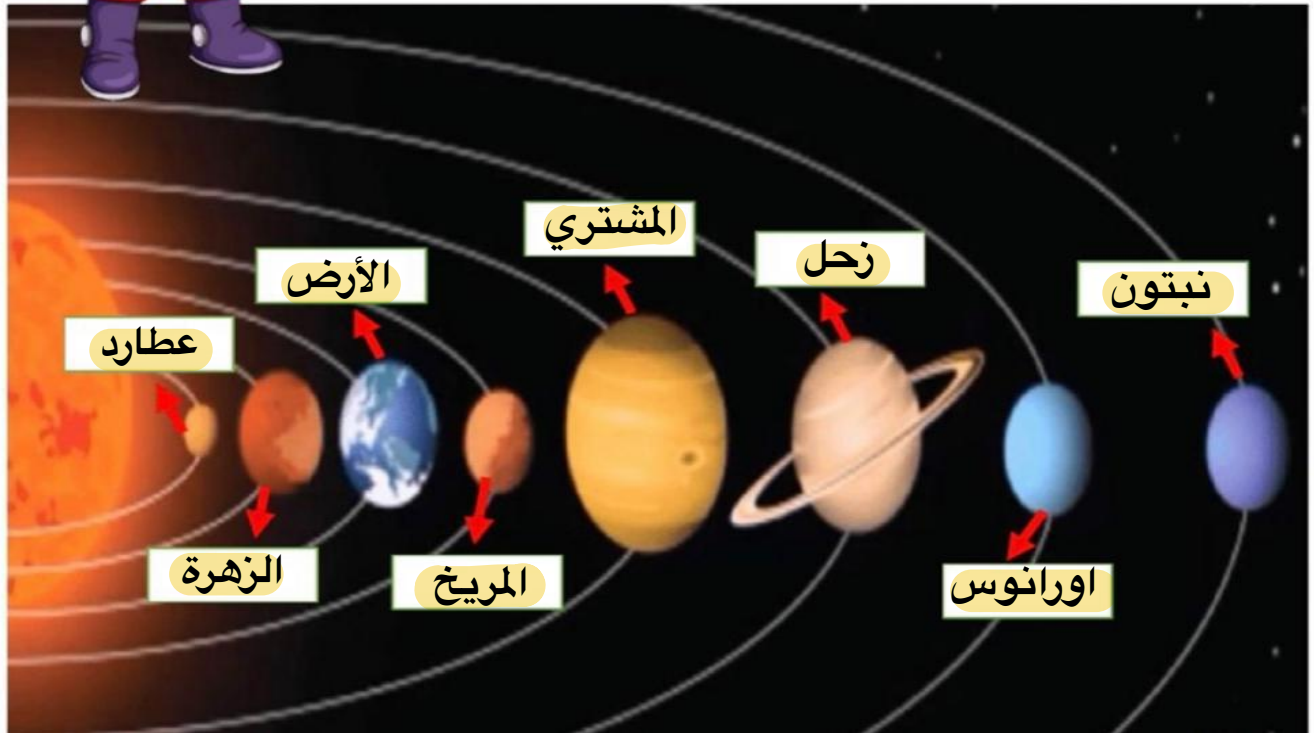
الدرس الثاني (النظام الشمسي)

1_ مالذي يدور حول الشمس ؟

.....الكواكب.....



الأرض عطارد زحل المشتري
اورانوس نبتون الزهرة المريخ



2_ على الصورة السابقة ندون أسماء الكواكب في المكان المخصص





الدرس الثاني (النظام الشمسي)

١- نصل كل كوكب بالعبارة المناسبة له :

فيها ماء وهواء ولها قمر واحد



له حلقات حوله مكونة من الثلج والصخور



اكبر الكواكب وله 63 قمرا



اسخن الكواكب حيث تحجب سحبه الكثيفة
حرارة الشمس

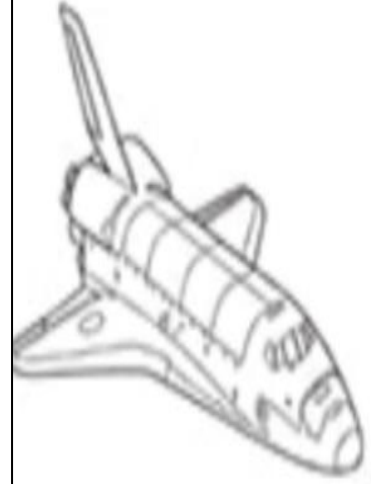




الدرس الثاني (النظام الشمسي)

مترك للطالب

اقرأ ولون



زحل

