

## روابط مجموعات المناهج السعودية

كل ما يحتاجه الطالب في جميع الصفوف من أوراق عمل واختبارات ومذكرات, يجده هنا في الروابط التالية لأفضل مواقع المناهج السعودية:

القناة الرسمية لموقع المناهج السعودية : [www.almanahj.com/sa](http://www.almanahj.com/sa)

### روابط مجموعات الواتساب

[الصف الأول الابتدائي](#)

[الصف الثاني الابتدائي](#)

[الصف الثالث الابتدائي](#)

[الصف الرابع الابتدائي](#)

[الصف الخامس الابتدائي](#)

[الصف السادس الابتدائي](#)

[الصف الأول متوسط](#)

[الصف الثاني متوسط](#)

[الصف الثالث متوسط](#)

[الصف الأول الثانوي](#)

[الصف الثاني الثانوي العلمي](#)

[الصف الثاني الثانوي الأدبي](#)

[الصف الثالث الثانوي العلمي](#)

[الصف الثالث الثانوي الأدبي](#)

[مجموعة أخبار التربية](#)

### روابط مجموعات التلغرام

[الصف الأول](#)

[الصف الثاني](#)

[الصف الثالث](#)

[الصف الرابع](#)

[الصف الخامس](#)

[الصف السادس](#)

[الصف الأول متوسط](#)

[الصف الثاني متوسط](#)

[الصف الثالث متوسط](#)

[الصف الأول الثانوي](#)

[الصف الثاني الثانوي الأدبي](#)

[الصف الثاني الثانوي العلمي](#)

[الصف الثالث الثانوي الأدبي](#)

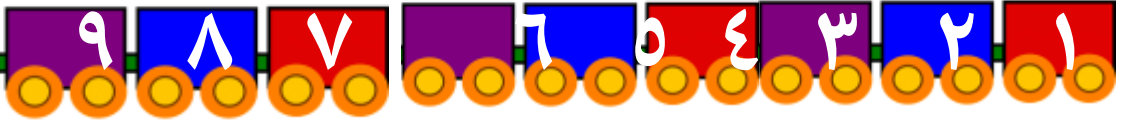

[الصف الثالث الثانوي العلمي](#)

[المناهج السعودية](#)

# نموذج رقم (1) الاختبار الدوري للصف الثاني الإبتدائي مادة الرياضيات الفترة الرابعة



وزارة التعليم  
Ministry of Education



اسم الطالبة ..... المدرسة ..... الصف .....

## السؤال الأول:

لضفدع أربعة أرجل ،ولضفدعان ثماني أرجل .  
فكم رجلاً لثلاثة ضفادع ؟

الفهم : **المعطيات** : الضفدع له ..... أرجل ،والضفدعان لهما  
..... أرجل

**المطلوب** : كم.....؟

اخطط : استعمل انشاء.....

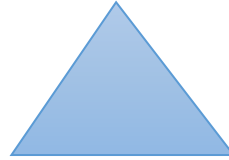
الحل :

ثلاث ضفادع	ضفدعان	ضفدع	عدد الضفادع
8	4	4	عدد الارجل

2	رقمه	حل المسائل الرياضية باستعمال استراتيجيات ومهارات مناسبة مع اتباع الخطوات الاربعة			المعيار
	ملاحظة	غير متقن	متقن	متقن	متقن
		أقل من 80%	من 80% إلى أقل من 90%	من 90% إلى أقل من 100%	100%

almanahj.com/sa

## السؤال الثاني : اجيبي عما يلي :



اسم الشكل .....

عدد أضلاعة .....

عدد رؤوسة: .....

35	رقمه	تمييز الأشكال الهندسية المستوية (المربع- المستطيل-المثلث-الدائرة-شبة المنحرف-السداسي) ووصفها حسب عدد أضلاعها ورؤوسها			المعيار
	ملاحظة	غير متقن	متقن	متقن	متقن
		أقل من 80%	من 80% إلى أقل من 90%	من 90% إلى أقل من 100%	100%

## السؤال الثالث : اجيبي عما يلي :



المجسم هو .....  
..... حرفاً و..... رؤوس



المجسم هو .....  
..... حرفاً و..... رؤوس

36	رقمه	المقارنة بين شكلين مستويين وبين مجسمين			المعيار
	ملاحظة	غير متقن	متقن	متقن	متقن
		أقل من 80%	من 80% إلى أقل من 90%	من 90% إلى أقل من 100%	100%

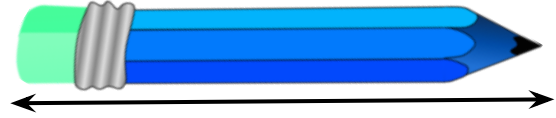
المعيار	قياس الطول وتقديره باستخدام (وحدات غير قياسية، مسطرة السنتيمترات)			رقمه	38
متقن	<input type="checkbox"/> متقن	<input type="checkbox"/> متقن	<input type="checkbox"/> غير متقن	ملاحظة	<input type="checkbox"/>
100%	من 90% إلى أقل من 100%	من 80% إلى أقل من 90%	أقل من 80%		

### السؤال الرابع:



قيسي طول القلم مستعملة وحدة القياس

القياس ..... تقريباً



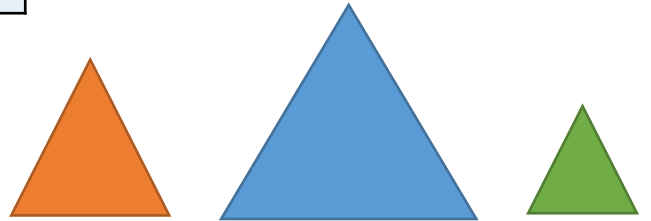
قيسي طول هذا القلم بالسنتيمترات

القياس ..... سنتمراً

المعيار	المقارنة بين مساحات أشكال مختلفة وترتيبها			رقمه	39
متقن	<input type="checkbox"/> متقن	<input type="checkbox"/> متقن	<input type="checkbox"/> غير متقن	ملاحظة	<input type="checkbox"/>
100%	من 90% إلى أقل من 100%	من 80% إلى أقل من 90%	أقل من 80%		

### السؤال الخامس:

أرتب الأشكال حسب مساحتها مبتدئة بالشكل ذي المساحة الأكبر



.....

معلمة المادة :

تمنيتي لك بالتوفيق