

ورقة قياس

اسم الطالبة:

الصف: الثاني الابتدائي

التاريخ:
رقم النشاط:

الموضوع: قراءة الساعة (بالساعات كاملة ، لأقرب نصف ساعة ، لأقرب ربع ساعة ، لأقرب خمس دقائق)
وكتابة الوقت الذي تشير إليه الساعة

ضعي علامة صح أسفل الإجابة الصحيحة:



الوقت في الساعة المقابلة

8:30 6:30 1:30

.....

الوقت في الساعة المقابلة

4 6 10

.....

أكملي ما يلي:

أكملي رسم عقرب الدقائق
ليدل على الوقت المعطى .

4:15

الوقت في الساعة التالية :

6:.....



ورقة قياس

اسم الطالبة:

الصف: الثاني الابتدائي

التاريخ:

رقم النشاط:

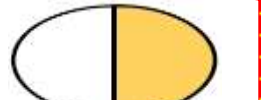
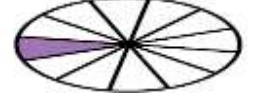
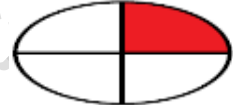
الموضوع: تمثيل كسور
الوحدة (المقامات أقل أو
تساوي 12) وقراءتها.

صلي كل شكل بالكسر الدال على الجزء الملون:

$\frac{1}{1}$

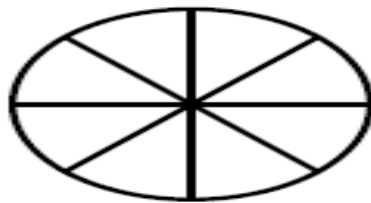
$\frac{1}{2}$

$\frac{1}{4}$



لونني الجزء الذي يمثل الكسر المكتوب:

$\frac{1}{8}$ 😊




ورقة قياس

اسم الطالبة:

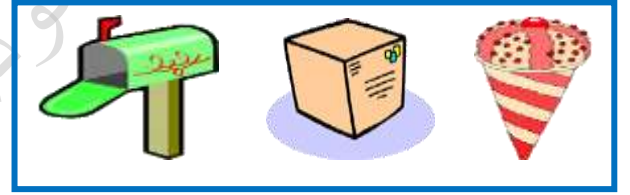
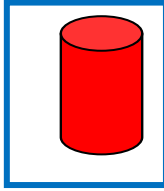
الصف: الثاني الابتدائي

التاريخ:
رقم النشاط:

الموضوع: تمييز المجسمات
(المكعب، الكرة، المخروط،
الأسطوانة، متوازي
المستطيلات، الهرم)




أحيطي الشيء الذي له الشكل نفسه :



ضعي خطأ تحت الإجابة الصحيحة

الشكل المقابل هو : 

مخروط 
كرة 
هرم 
أسطوانة 



ورقة قياس

اسم الطالبة:

الصف: الثاني الابتدائي

التاريخ:
رقم النشاط:

الموضوع: تمييز الأشكال الهندسية المستوية (المربع، المستطيل، المثلث، الدائرة،



ضعي خطأ تحت الإجابة الصحيحة

الشكل التالي هو لـ



دائرة 

مربع 

مثلث 



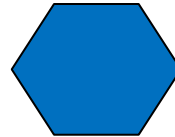


مستطيل 

صلي كل شكل باسمه :

دائرة

مثلث

مربع



ورقة قياس

اسم الطالبة:

الصف: الثاني الابتدائي

الموضوع: المقارنة
بين شكلين مستويين
وبين مجسمين

التاريخ:
رقم النشاط:

أكملي ما يأتي:

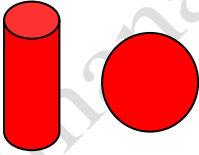
المثلث والمربع شكلان مختلفان؛
لأن:

المكعب ومتوازي المستطيلات
متشابهان؛ لأن:


للمثلث أضلاع و
رؤوس أما المربع فله
أضلاع و 4 رؤوس .

لكل واحد منهما أوجه و
..... حرفا و 8 رؤوس .

ضعي علامة (صح) أمام العبارة الصحيحة وعلامة (خطأ) أمام العبارة الخاطئة:



1 الأسطوانة والكرة شكلان متشابهان. ()



2 المكعب والكرة شكلان مختلفان. ()



ورقة قياس



ضعي خطأ تحت الإجابة الصحيحة مما يأتي:

إذا كان طول المكعب الواحد = 1 سنتمتر فكم سنتمترا طول أنبوب الصمغ:



9 سنتمرات تقريبا. 7 سنتمرات تقريبا. 10 سنتمرات تقريبا.

نستعمل مسطرة السنتمرات لقيس الأطوال بالسنتمتر .
(.....)

صح أم خطأ!




ورقة قياس

اسم الطالبة:

الصف: الثاني الابتدائي.

التاريخ:
رقم النشاط:

الموضوع: جمع المنات
وطرحها باستعمال
الحقائق الأساسية.



ضعي علامة صح أسفل الإجابة الصحيحة:

$$.... = 500 - 600$$

100

200

300

$$= 125 - 456$$

313

331

133

أجيبى ب نعم أو لا:

$$\begin{array}{r} 256 \\ 435 + \\ \hline 691 \end{array}$$

()

$$\begin{array}{r} 700 \\ 200 + \\ \hline 600 \end{array}$$

()

$$\begin{array}{r} 405 \\ 302 + \\ \hline 707 \end{array}$$

()

