






أسئلة اختبار مادة الرياضيات الصف الثاني

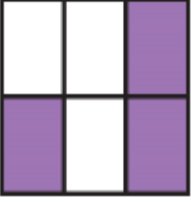
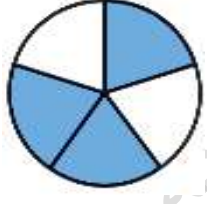

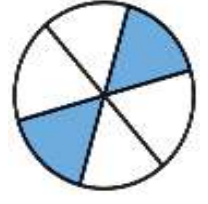
رياضيات	المادة	اسم الطالبة /	المدرسة/
الفصل	الثاني	الصف	الثاني
		الثالثة	الفترة

1- قراءة الساعة (بالساعات كاملة، بنصف ساعة، بربع ساعة، لأقرب خمس دقائق) ثم كتابة الأوقات كما تشير الأشكال .

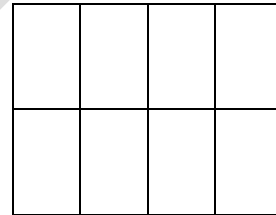
الدرجة:					
	:	:	:	:	:

2- تمثيل كسور الوحدة (المقامات أقل أو تساوي 12) وقراءتها .


أ / أكتب الكسر الدال على الجزء الملون :

الدرجة:				
	_____	_____	_____	_____

ب / لون الأجزاء التي تمثل الكسر المكتوب :



$$\frac{2}{8}$$

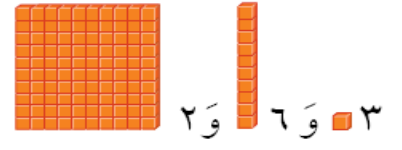


$$\frac{3}{4}$$

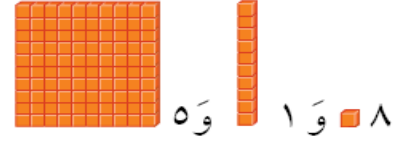
3- أكتب الأعداد التالية بالأرقام:

الدرجة:	
---------	--

مِئَاتٌ	عَشْرَاتٌ	أَحَادٌ
.....		



مِئَاتٌ	عَشْرَاتٌ	أَحَادٌ
.....		



www.almanahj.com/sa