

تم تحميل هذا الملف من موقع المناهج السعودية



الملف حل ملزمة تعزيز المهارات سكره الشمري

[موقع المناهج](#) ← [المناهج السعودية](#) ← [الصف الثاني](#) ← [علوم](#) ← [الفصل الثالث](#)

المزيد من الملفات بحسب الصف الثاني والمادة علوم في الفصل الثالث


<a href="#">أسئلة اختبار نهائي</a>	1
<a href="#">نموذج تقويمي ختامي للمهارات</a>	2
<a href="#">يوربونت استعمال الطاقة</a>	3
<a href="#">اختبار منتصف الفصل</a>	4
<a href="#">اختبار قياس المهارات</a>	5

المملكة العربية السعودية

وزارة التعليم

الإدارة العامة للتعليم بمنطقة .....  
.....

VISION رؤية  
2030  
National Vision Strategy  
مخطط رؤية  
2030  
استراتيجية الرؤية الوطنية



وزارة التعليم  
Ministry of Education

# ملزمة تعزيز مهارات مادة العلوم الصف الثاني الابتدائي

الفصل الدراسي الأول لعام ١٤٤٤ هـ

تم تحميل هذا الملف من  
موقع وزارة التعليم السعودية

الفصل : .....

الاسم : .....

# العلوم



سكرة الشمري



## الطريقة العلمية

نرتب خطوات الطريقة العلمية حسب التالي:

تم تحميل هذا الملف من

موقع المناهج السعودية

اتوقع

~~ألاحظ~~

استنتج

أكون فرضية

ألاحظ

أختبر الفرضية

أسأل

alManahj.com/sa

الأحظ

اسأل

اتوقع

اكون فرضيه

اختبر الفرضيه

استنتج





## الوحدة الأولى (النباتات)

### الفصل الأول (النباتات)

#### الدرس الأول (حاجات المخلوقات)

أ. نكمل الخريطة التالية:-



ب. نُكمل الفراغات في القائمة (أ) بما يناسبها من (ب):

القائمة (أ)	القائمة (ب)
الأكسجين	هو الغاز الذي يتنفسه الحيوان والنبات
المعادن	هي أجزاء صلبة غير حية من التربة

ج. كيف تصنع النباتات غذائها؟

من الشمس

نتابع الدرس الأول (حاجات المخلوقات الحية)

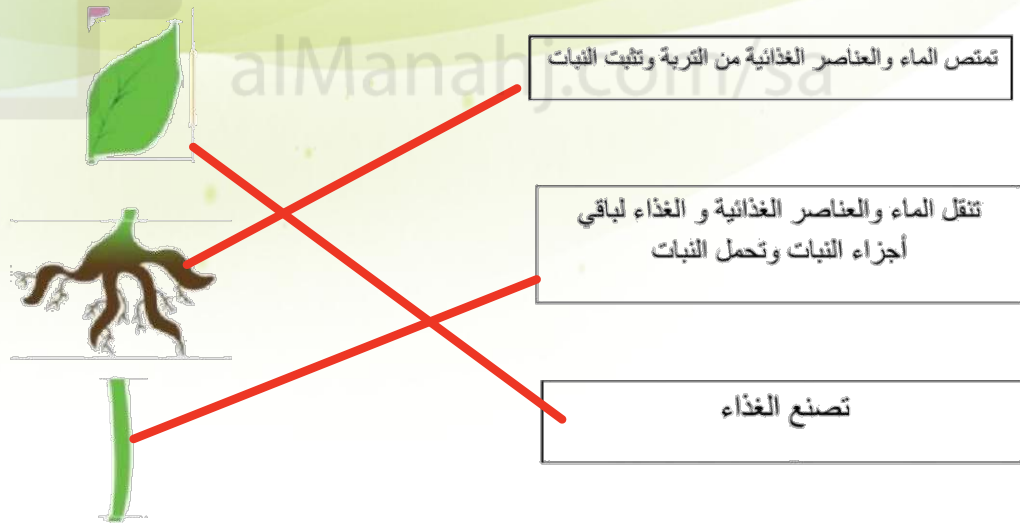




أ. نُلون حاجات المخلوق الحي:



ب. نصل كل جزء من أجزاء النبات بالوظيفة المناسبة له:





## الدرس الثاني: النباتات تُنتج نباتات جديدة

أ. نصل المفردات في مكانها الصحيح:



ب. نرتب مراحل نمو الفاصوليا مستخدمين الأرقام من ١ - ٤ :



ج. ما الذي تحتاج إليه البادرة لكي تنمو؟

يحتاج الي ماء دافئ ، ماء وغذاء





## نتابع الدرس الثاني: النباتات تُنتج نباتات جديدة

أ. نصل الكلمة بالعبارة المناسبة لها:

الجزء الذي ينمو و يصير نباتا جديدا	الزهرة
مسحوق يسهم في إنتاج البذور	البذرة
تكوّن البذور والثمار في النبات	حبوب اللقاح

ب. نختار الإجابة الصحيحة:



(1) الجزء المشار له بالسهم الأخضر يسمى:

الزهرة	حبوب اللقاح	البذرة
--------	-------------	--------



(2) يشير السهم الأحمر إلى :

الجزء الذي يتحول إلى ساق	الجزء الذي يصير ثمرة
--------------------------	----------------------





## الفصل الثاني

### الدرس الثالث (مجموعة الحيوانات)

أ. نصل كل حيوان بالمجموعة التي ينتمي إليها:



ب. نختار الإجابة الصحيحة:

(1) أي العبارات تضم مجموعة واحدة من الحيوانات؟

النساج، السمكة، السلحفاة

الذئب، القط، السمكة

القط، قنديل البحر، السمك

الخنزير، البطة، الخنثى

(2) الطيور و البرمائيات و الحشرات تتكاثر ب: ..... بالبيض










## تابع الدرس الثالث (مجموعة

أ. نختار الإجابة الصحيحة:


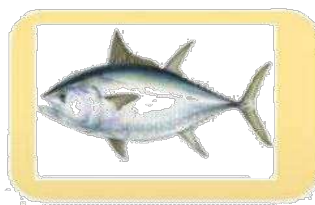

### 1- حيوان من مجموعة الثدييات



### 2- ما الحيوان الذي يفقس من البيض ويكسوه الريش؟



### 3- حيوان من مجموعة اللافقاريات





## الدرس الثاني (الحيوانات تنمو وتتغير)


أ. نرتب دورة حياة الفراشة مستخدمين الأرقام من ١ - ٥:



ب. نتتبع بالأشهر دورة حياة الماعز:



ج. نكتب بالأرقام دورة حياة الدجاجة:





## الوحدة الثانية (المواطن)

### الفصل الثالث (نظرة إلى المواطن)

#### الدرس الأول (أماكن العيش)

أ. نصل كل عبارة بما يُناسبها:



ب. نربط بين كل مخلوق حي ومكان عيشه:





## تابع الدرس الأول (أماكن العيش)


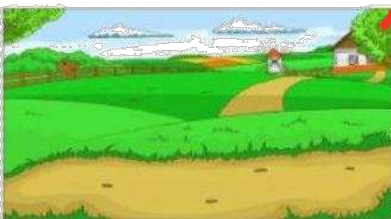
أ. ماهو الموطن:

مكان تعيش فيه المخلوقات الحيه

.....

.....

ب. نُزَاج بين الكائن الحي وبيئته:





## الدرس الثاني (سلاسل الغذاء)

أ. نصل بين المفردات والصورة:



١ - السلسلة الغذائية



٢ - الفريسة

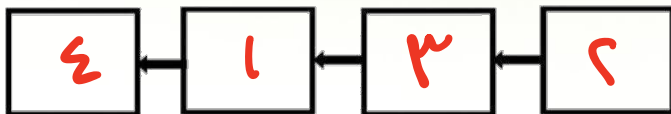


٣ - المفترس



٤ - الموطن

ب. نرتب السلاسل الغذائية التالية:



ج. نحدد بالأرقام الصور التالية حتى يتكون لدينا سلسلة غذائية:



٢

١

٥

٣

٤





## الفصل الرابع (أنواع المواطن)

### الدرس الأول (الصحاري الحارة)

أ. ما أنواع المواطن في الصور التالية:



الغابة



الصحراء



الغابة المطيرة



المنطقة القطبية

ب. نختار الإجابة الصحيحة:

1. ما الذي يساعد الدب على العيش في المنطقة الباردة؟

الأسنان الحادة

اللون الأبيض

الفرو السميك

العيون الحادة

2. كيف تحصل حيوانات الصحراء على الماء؟

تمتص الماء من الهواء

تشرب الماء من الأودية والأنهار

تتغذى على النباتات والحيوانات

تحفر حفرا في باطن الأرض

ج. نضع علامة صح تحت حيوانات الصحراء الحارة:





## الدرس الثاني (الغابات)

أ. نضع علامة (صح) تحت حيوانات الغابات المطيرة:



ب. نصل الحيوان بما يصفُّه:



له خدود كبيرة تساعده على حمل الجوز

له جلد منقط يساعد على التخفي

له عينان كبيرتان ، يصطاد ليلا

له منقار طويل حاد لنقر الأشجار

