

تم تحميل هذا الملف من موقع المناهج السعودية



موقع المناهج المنهاج السعودي

*للحصول على أوراق عمل لجميع الصفوف وجميع المواد اضغط هنا

<https://www.almanahj.com/sa>

* للحصول على أوراق عمل لجميع مواد الصف الثاني اضغط هنا

<https://almanahj.com/sa/2>

* للحصول على جميع أوراق الصف الثاني في مادة علوم ولجميع الفصول, اضغط هنا

<https://almanahj.com/sa/2science>

* للحصول على أوراق عمل لجميع مواد الصف الثاني في مادة علوم الخاصة بـ الفصل الأول اضغط هنا

<https://www.almanahj.com/sa/2science1>

* لتحميل كتب جميع المواد في جميع الفصول للـ الصف الثاني اضغط هنا

<https://www.almanahj.com/sa/grade2>

للحصول على جميع روابط الصفوف على تلغرام وفيسبوك من قنوات وصفحات: اضغط هنا

<https://t.me/sacourse>

المهارة:
* تعداد بعض أنواع المواطن

أ	ب	ج	د

عدد بعض أنواع المواطن

- -١
- -٢
- -٣
- -٤

المهارة:
التمثيل لبعض المخلوقات
الحية التي تعيش في مواطن
مختلفة

أ	ب	ج	د

صل بين المخلوقات الحية وبين المواطن الملائم لها



الصحراء الباردة

الصحراء الحارة

المهارة:
* تسمية بعض أشكال اليابسة

أ	ب	ج	د

سم أشكال اليابسة الموجودة بالصورة المقابلة



المهارة:
* تعداد بعض مصادر الماء
على الأرض

أ	ب	ج	د

عدد بعض مصادر الماء على سطح الأرض

.....

المهارة:
* معرفة مفهوم (الصخور،
المعادن)

أ	ب	ج	د

صل العبارات التالية بالمسمى الصحيح التابع لها

١- أشياء غير حية موجودة في الأرض

المعادن

الصخور

٢- أجزاء صلبة غير حية تتكون منها الصخور

المهارة:
* تعداد بعض الأنواع
المختلفة من التربة

أ	ب	ج	د

عدد أنواع التربة

تربة

تربة

تربة

تمنياتي لكم بالتوفيق والنجاح
معلم المادة سامي الثبيتي

١	الفصل	الثاني	الصف	علوم	المادة	الأول	الفصل الدراسي
				١٤٤٠ هـ / /	التاريخ	الثانية	الفترة

المهارة:
توضيح كيفية استخدام بعض الحيوانات لمواطنها

ضع دائرة حول طريقة استخدام بعض الحيوانات لمواطنها

النوم - مفترس - الاختباء - ضوء الشمس - الهواء - تتغذى فيه على حيوانات اخرى

أ	ب	ج	د

المهارة:
توضيح كيفية استخدام بعض النباتات لمواطنها






ضع علامة (√) أو (×) أمام العبارات التالية :

١- النباتات التي تعيش في الأماكن الجافة تتخلص من الماء الزائد ()
٢- النباتات التي تعيش في الأماكن الرطبة تحتفظ بالماء ()

أ	ب	ج	د

المهارة:
تكوين سلسلة غذائية في موطن ما بترتيب مجموعة من الصور

رتب السلسلة الغذائية من خلال الصور المقابلة

أ	ب	ج	د

المهارة:
* تحديد الفريسة والمفترس في السلسلة الغذائية

صل في الشكل المقابل من هو :




المفترس

الفريسة

أ	ب	ج	د