

تم تحميل هذا الملف من موقع المناهج السعودية



نماذج اختبارات تشخيصية

موقع المناهج ← المناهج السعودية ← الصف الثاني ← علوم ← الفصل الثالث ← اختبارات ← الملف

تاريخ إضافة الملف على موقع المناهج: 2025-03-01 22:34:08

ملفات اكتب للمعلم اكتب للطالب | اختبارات الكترونية | اختبارات | حلول | عروض بوربوينت | أوراق عمل
منهج انجليزي | ملخصات وتقارير | مذكرات وبنوك | الامتحان النهائي للمدرس

المزيد من مادة
علوم:

التواصل الاجتماعي بحسب الصف الثاني



صفحة المناهج
السعودية على
فيسبوك

الرياضيات

اللغة الانجليزية

اللغة العربية

التربية الاسلامية

المواد على تلغرام

المزيد من الملفات بحسب الصف الثاني والمادة علوم في الفصل الثالث

الخطة الأسبوعية 1446هـ

1

عرض بوربوينت لدرس المواد الصلبة

2

أوراق عمل شاملة للفصل الثالث 1446هـ

3

كتاب الطالب تمارين طبعة العام 1446هـ

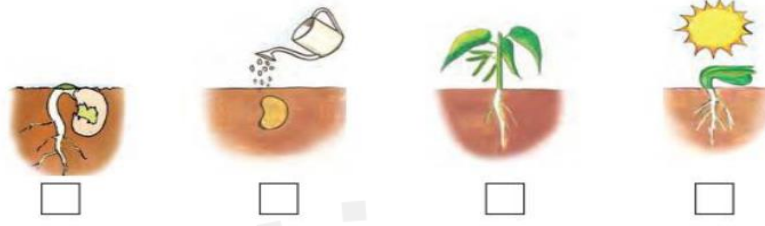

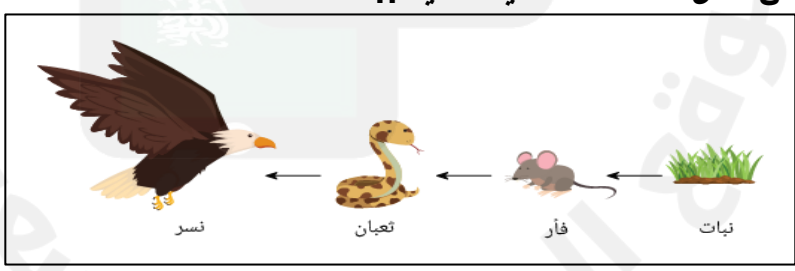












4




حل ملزمة وأوراق عمل علوم الفصل الثالث

5

اختبار تشخيصي مادة العلوم للصف الثاني نموذج (١)

الاسم/

		الاسم/														
<table border="1"> <tr> <td>اجتاز</td> <td>0</td> </tr> <tr> <td>لم يجتاز</td> <td>0</td> </tr> </table>		اجتاز	0	لم يجتاز	0	<p>س١/ رتب مراحل حياة نبات الفاصوليا بوضع الرقم المناسب (١ - ٢ - ٣ - ٤)</p> 		التعرف على مراحل دورة حياة النبات								
اجتاز	0															
لم يجتاز	0															
<table border="1"> <tr> <td>اجتاز</td> <td>0</td> </tr> <tr> <td>لم يجتاز</td> <td>0</td> </tr> </table>		اجتاز	0	لم يجتاز	0	<p>س٢/ رتب بالأرقام مراحل دورة حياة الماعز:</p> 		وصف دورات حياة الحيوانات والمقارنة بينهما								
اجتاز	0															
لم يجتاز	0															
<table border="1"> <tr> <td>اجتاز</td> <td>0</td> </tr> <tr> <td>لم يجتاز</td> <td>0</td> </tr> </table>		اجتاز	0	لم يجتاز	0	<p>س٣/ من خلال السلسلة الغذائية التالية ::</p>  <p>يتغذى على:</p> <table border="1"> <tr> <td>أ</td> <td>ب</td> <td>ج</td> <td>د</td> </tr> <tr> <td></td> <td></td> <td></td> <td></td> </tr> </table>		أ	ب	ج	د					وصف السلسلة الغذائية
اجتاز	0															
لم يجتاز	0															
أ	ب	ج	د													
																

<table border="1"> <tr> <td>اجتاز</td> <td>0</td> </tr> <tr> <td>لم يجتاز</td> <td>0</td> </tr> </table>	اجتاز	0	لم يجتاز	0	<p>س٤ / ضع علامة (✓) تحت الحيوان الذي يعيش في الغابة المطيرة:</p> <div style="display: flex; justify-content: space-around; align-items: center;">     </div> <div style="display: flex; justify-content: space-around; align-items: center; margin-top: 20px;"> <input type="radio"/> <input type="radio"/> <input type="radio"/> <input type="radio"/> </div>	المقارنة بين الغابات المطيرة والغابات الأخرى
اجتاز	0					
لم يجتاز	0					
<table border="1"> <tr> <td>اجتاز</td> <td>0</td> </tr> <tr> <td>لم يجتاز</td> <td>0</td> </tr> </table>	اجتاز	0	لم يجتاز	0	<p>س٥ / أنظر إلى الصورة المجاورة ثم اختر الإجابة الصحيحة: تعد هذه الطبقة من التربة الأفضل لنمو النباتات لأنها تحتوي على:</p> <ol style="list-style-type: none"> ١- صخور مفتتة. ٢- الهواء بين حبيباتها. ٣- بقايا نباتات وحيوانات متحللة. 	تفسير كيف تتكون التربة
اجتاز	0					
لم يجتاز	0					
<table border="1"> <tr> <td>اجتاز</td> <td>0</td> </tr> <tr> <td>لم يجتاز</td> <td>0</td> </tr> </table>	اجتاز	0	لم يجتاز	0	<p>س٦ / اختر الإجابة الصحيحة : يحدث الليل والنهار بسبب</p> <ul style="list-style-type: none"> - دوران حول الأرض حول محورها - دوران القمر حول الأرض. - دوران الأرض حول الشمس. 	التوصل إلى أن دوران الأرض حول نفسها يسبب الليل والنهار
اجتاز	0					
لم يجتاز	0					
<table border="1"> <tr> <td>اجتاز</td> <td>0</td> </tr> <tr> <td>لم يجتاز</td> <td>0</td> </tr> </table>	اجتاز	0	لم يجتاز	0	<p>س٧ / ضع علامة (✓) أو (×) : ١- عدد كواكب النظام الشمسي خمسة كواكب ()</p>	توضيح العلاقة بين الكواكب والشمس
اجتاز	0					
لم يجتاز	0					

مديرة المدرسة:
















اسم المعلمة:

المشرفة/ التربوية:

*يرجى الاحتفاظ بالشواهد في ملف خاص بالمعلمة

اختبار تشخيصي مادة العلوم للصف الثاني نموذج (٢)

الاسم/

<table border="1"> <tr> <td>اجتاز</td> <td>0</td> </tr> <tr> <td>لم يجتاز</td> <td>0</td> </tr> </table>	اجتاز	0	لم يجتاز	0	<p>س١/ رتب مراحل حياة نبات الرمان بوضع الرقم المناسب (١ - ٢ - ٣ - ٤)</p> <div style="display: flex; justify-content: space-around; align-items: center;"> <div style="text-align: center;">  <p>(.....)</p> </div> <div style="text-align: center;">  <p>(.....)</p> </div> <div style="text-align: center;">  <p>(.....)</p> </div> <div style="text-align: center;">  <p>(.....)</p> </div> </div>	<p>التعرف على مراحل دورة حياة النبات</p>
اجتاز	0					
لم يجتاز	0					
<table border="1"> <tr> <td>اجتاز</td> <td>0</td> </tr> <tr> <td>لم يجتاز</td> <td>0</td> </tr> </table>	اجتاز	0	لم يجتاز	0	<p>س٢/ رتب بالأرقام مراحل دورة حياة الضفدع:</p> <div style="display: flex; justify-content: space-around; align-items: center;"> <div style="text-align: center;">  </div> <div style="text-align: center;">  </div> <div style="text-align: center;">  </div> <div style="text-align: center;">  </div> </div>	<p>وصف دورات حياة الحيوانات والمقارنة بينهما</p>
اجتاز	0					
لم يجتاز	0					
<table border="1"> <tr> <td>اجتاز</td> <td>0</td> </tr> <tr> <td>لم يجتاز</td> <td>0</td> </tr> </table>	اجتاز	0	لم يجتاز	0	<p>س٣/ من خلال السلسلة الغذائية التالية:</p> <div style="display: flex; justify-content: space-around; align-items: center;"> <div style="text-align: center;">  <p>صقر</p> </div> <div style="text-align: center;">  <p>أرنب</p> </div> <div style="text-align: center;">  <p>نبات</p> </div> <div style="text-align: center;">  <p>شمس</p> </div> </div> <p>الصقر يتغذى على:</p> <div style="display: flex; justify-content: space-around; align-items: center;"> <div style="text-align: center;">  <p>ج</p> </div> <div style="text-align: center;">  <p>ب</p> </div> <div style="text-align: center;">  <p>أ</p> </div> </div>	<p>وصف السلسلة الغذائية</p>
اجتاز	0					
لم يجتاز	0					

<table border="1"> <tr> <td>اجتاز</td> <td>○</td> </tr> <tr> <td>لم يجتاز</td> <td>○</td> </tr> </table>	اجتاز	○	لم يجتاز	○		<p>س ٤ / اختر الإجابة الصحيحة: في الغابة المطيرة: ١- تنمو الأشجار عاليا ولها أوراق ضخمة. ٢- يقل سقوط الأمطار فيها. ٣- نباتاتها قصيرة وقليلة.</p>	<p>المقارنة بين الغابات المطيرة والغابات الأخرى</p>
اجتاز	○						
لم يجتاز	○						
<table border="1"> <tr> <td>اجتاز</td> <td>○</td> </tr> <tr> <td>لم يجتاز</td> <td>○</td> </tr> </table>	اجتاز	○	لم يجتاز	○	<p>س ٥ / اختر الكلمة المناسبة ثم أكتبها في الفراغ: (الحيوانات - الصخور) التربة هي خليط من فتات وبقايا النباتات والحيوانات الميتة.</p>	<p>س ٥ / اختر الكلمة المناسبة ثم أكتبها في الفراغ:</p>	<p>تفسير كيف تتكون التربة</p>
اجتاز	○						
لم يجتاز	○						
<table border="1"> <tr> <td>اجتاز</td> <td>○</td> </tr> <tr> <td>لم يجتاز</td> <td>○</td> </tr> </table>	اجتاز	○	لم يجتاز	○		<p>س ٦ / ضع علامة (✓) أو (×): يحدث الليل والنهار بسبب دوران الأرض حول محورها ()</p>	<p>حول نفسها بسبب الليل والنهار</p>
اجتاز	○						
لم يجتاز	○						
<table border="1"> <tr> <td>اجتاز</td> <td>○</td> </tr> <tr> <td>لم يجتاز</td> <td>○</td> </tr> </table>	اجتاز	○	لم يجتاز	○	<p>س ٧ / اختر الإجابة الصحيحة: ٢- تتشابه كواكب النظام الشمسي في أن جميعها تدور حول أ الشمس ب القمر خ الأرض</p>	<p>س ٧ / اختر الإجابة الصحيحة:</p>	<p>توضيح العلاقة بين الكواكب والشمس</p>
اجتاز	○						
لم يجتاز	○						

مديرة المدرسة:













اسم المعلمة:







المشرفة التربوية:

*يرجى الاحتفاظ بالشواهد في ملف خاص بالمعلمة

اختبار تشخيصي مادة العلوم للصف الثاني نموذج (٣)

الاسم/

اجتاز		لم يجتاز		س١ / رتب مراحل حياة نبات الفاصوليا بوضع الرقم المناسب (١ - ٢ - ٣ - ٤)	التعرف على مراحل دورة حياة النبات						
<input type="checkbox"/>	<input type="checkbox"/>	<input type="checkbox"/>	<input type="checkbox"/>								
<input type="checkbox"/>	<input type="checkbox"/>	<input type="checkbox"/>	<input type="checkbox"/>	س٢ // رتب بالأرقام مراحل دورة حياة الفراشة:	وصف دورات حياة الحيوانات والمقارنة بينهما						
<input type="checkbox"/>	<input type="checkbox"/>	<input type="checkbox"/>	<input type="checkbox"/>								
<input type="checkbox"/>	<input type="checkbox"/>	<input type="checkbox"/>	<input type="checkbox"/>	س٣ / من خلال السلسلة الغذائية التالية ::	وصف السلسلة الغذائية						
<input type="checkbox"/>	<input type="checkbox"/>	<input type="checkbox"/>	<input type="checkbox"/>	 <p>النسر يتغذى</p>	<p>على :</p> <table border="1"> <tr> <td></td> <td>خ</td> <td></td> <td>ب.</td> <td></td> <td>أ</td> </tr> </table>		خ		ب.		أ
	خ		ب.		أ						

<table border="1"> <tr> <td>اجتاز</td> <td>○</td> </tr> <tr> <td>لم يجتاز</td> <td>○</td> </tr> </table>	اجتاز	○	لم يجتاز	○	<p>س٤ / ضع علامة (✓) تحت الحيوان الذي يعيش في الصحراء الحارة:</p> <div style="display: flex; justify-content: space-around; align-items: center;">     </div> <div style="display: flex; justify-content: space-around; align-items: center; margin-top: 10px;"> <input type="radio"/> <input type="radio"/> <input type="radio"/> <input type="radio"/> </div>	المقارنة بين الغابات المطيرة والغابات الأخرى						
اجتاز	○											
لم يجتاز	○											
<table border="1"> <tr> <td>اجتاز</td> <td>○</td> </tr> <tr> <td>لم يجتاز</td> <td>○</td> </tr> </table>	اجتاز	○	لم يجتاز	○	<p>س٥ / ضع علامة (✓) أو (x): ١- تتكون التربة من فتات الصخور فقط ()</p> 	تفسير كيف تتكون التربة						
اجتاز	○											
لم يجتاز	○											
<table border="1"> <tr> <td>اجتاز</td> <td>○</td> </tr> <tr> <td>لم يجتاز</td> <td>○</td> </tr> </table>	اجتاز	○	لم يجتاز	○	<p>س٦ / اختر الإجابة الصحيحة : يحدث الليل والنهار بسبب دوران الأرض حول</p> <table border="1" style="width: 100%; text-align: center;"> <tr> <td>أ</td> <td>محورها</td> <td>ب</td> <td>القمر</td> <td>خ</td> <td>الشمس</td> </tr> </table> 	أ	محورها	ب	القمر	خ	الشمس	التوصل إلى أن دوران الأرض حول نفسها يسبب الليل والنهار
اجتاز	○											
لم يجتاز	○											
أ	محورها	ب	القمر	خ	الشمس							
<table border="1"> <tr> <td>اجتاز</td> <td>○</td> </tr> <tr> <td>لم يجتاز</td> <td>○</td> </tr> </table>	اجتاز	○	لم يجتاز	○	<p>س٧ / ضع علامة (✓) أو (x): ١- تتشابه كواكب النظام الشمسي في أن جميعها تدور حول الشمس ()</p>	توضيح العلاقة بين الكواكب والشمس						
اجتاز	○											
لم يجتاز	○											

اسم المعلمة: مديرة المدرسة:

المشرفة التربوية:

*يرجى الاحتفاظ بالشواهد في ملف خاص بالمعلمة

