

تم تحميل هذا الملف من موقع المناهج السعودية



نموذج الاختبار التشخيصي القبلي

موقع المناهج ← المناهج السعودية ← الصف الثاني ← علوم ← الفصل الثالث ← اختبارات ← الملف

تاريخ إضافة الملف على موقع المناهج: 2025-03-01 22:36:54

ملفات اكتب للمعلم اكتب للطالب الاختبارات الكترونية | اختبارات | حلول | عروض بوربوينت | أوراق عمل
منهج انجليزي | ملخصات وتقارير | مذكرات وبنوك | الامتحان النهائي للمدرس

المزيد من مادة
علوم:

التواصل الاجتماعي بحسب الصف الثاني



صفحة المناهج
السعودية على
فيسبوك

الرياضيات

اللغة الانجليزية

اللغة العربية

التربية الاسلامية

المواد على تلغرام

المزيد من الملفات بحسب الصف الثاني والمادة علوم في الفصل الثالث

نماذج اختبارات تشخيصية

1

الخطة الأسبوعية 1446هـ

2

عرض بوربوينت لدرس المواد الصلبة

3

أوراق عمل شاملة للفصل الثالث 1446هـ

4

كتاب الطالب تمارين طبعة العام 1446هـ

5


(نموذج اسئلة) اختبار التشخيص لبرنامج تعزيز المهارات للمرحلة الابتدائية

الدرجة المستحقة
١٠

المادة	العلوم (النموذج القبلي)
الصف المستهدف	ثاني ابتدائي
اسم الطالب/ة	المدرسة


قم باختيار الإجابة الصحيحة في كل مما يلي:

■ نلاحظ من خلال الصورة التالية أن النبات:







أ	ينتج الغذاء	ب	ينتج نباتا جديدا
ج	ينمو ويتغير	د	يطلق الأكسجين

■ أي جزأين من دورة الحياة يظهر في الرسم؟

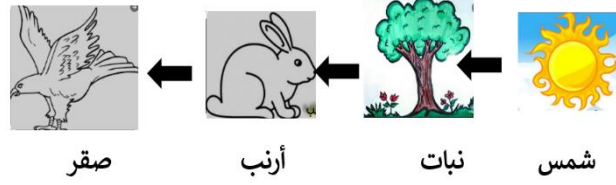


أ	بيضه وحيوان مكتمل النمو	ب	حيوان صغير واخر مكتمل النمو
ج	بيضه وحيوان صغير	د	حيوان مكتمل النمو واخر ميت

■ أي الحيوانات الاتية له جناحان ومنقار؟

أ		ب		ج		د	
---	---	---	--	---	---	---	---

▪ نلاحظ من خلال السلسلة الغذائية التالية أن الصقر يتغذى على:



٤



د



ج



ب



أ

▪ ما المعلومات التي أحصل عليها من السلسلة الغذائية؟

٥

تتأثر المخلوقات الحية بالضوء

ب

تحصل المخلوقات الحية على الغذاء

أ

تعتني الحيوانات بصغارها

د

تصنع النباتات الغذاء من الشمس

ج

▪ أي العبارات التالية تصف الموطن الذي توضحه الصورة؟



٦

د حار وجاف

ج بارد وفيه ثلوج

ب عشبي ودافئ

أ عشبي ورطب

أ أي الحيوانات التالية تعيش في المنطقة القطبية؟

٧




د



ج



ب



أ

ب كيف يجعل الدبال التربة أفضل للزراعة؟

٨

يُجعل التربة تفقد الماء

ب

يزيل المواد المغذية من التربة

أ

يُجعل لون التربة أكثر سواداً

د

يضيف المواد المغذية إلى التربة

ج

التوصل إلى أن دوران الأرض حول نفسها يسبب الليل والنهار

المهارة المستهدفة

ج ما سبب تعاقب الليل والنهار؟

٩

مدار الأرض

ب

الحركة الدورانية

أ

دوران الأرض حول محورها

د

دوران الأرض حول الشمس

ج

توضيح العلاقة بين الكواكب والشمس

المهارة المستهدفة

د كيف تتشابه الكواكب الثمانية في النظام الشمسي؟

١٠

جميعها تدور حول الشمس

ب

جميعها متساوية في الحجم

أ

جميعها يحيط بها حلقات

د

جميعها يدور حولها قمر واحد

ج