

تم تحميل هذا الملف من موقع المناهج السعودية

الملف عرض الدرس السادس قياس المساحة

[موقع المناهج](#) ⇨ [المناهج السعودية](#) ⇨ [الصف الثاني](#) ⇨ [رياضيات](#) ⇨ [الفصل الثالث](#)

الملف عرض الدرس السادس قياس المساحة

[موقع المناهج](#) ⇨ [المناهج السعودية](#) ⇨ [الصف الثاني](#) ⇨ [رياضيات](#) ⇨ [الفصل الثالث](#)

المزيد من الملفات بحسب الصف الثاني والمادة رياضيات في الفصل الثالث

تحضير عين لدروس الفصل الثالث	1
اختبار الفترة الخامسة	2
اختبار الفصل التاسع	3
أسئلة اختبار الفصل العاشر	4
اختبار الفترة الخامسة الباب التاسع	5

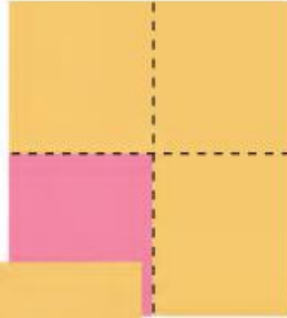
٦ - ١١ قياس المساحة



أ. أحمد الأحمد
@ahmad9963



المِسَاحَةُ: هي عددُ الوَحَدَاتِ المُرَبَّعَةِ اللَّازِمَةِ لِتَغْطِيَةِ فَرَاغٍ أَوْ سَطْحٍ.



= وَحْدَةٌ مُرَبَّعَةٌ وَاحِدَةٌ.



مِسَاحَةُ الشَّكْلِ تُسَاوِي ١ وَحْدَاتٍ مُرَبَّعَةٍ.

فكرة الدرس

أستعمل نماذج
مربعة الشكل لإيجاد
المساحة .


المفردات
المساحة

أ.أحمد الأحمد

@ahmad9963


أَسْتَعْمِلُ ■ لِأَجْدِ الْمِسَاحَةَ:

أَتَأَكَّدُ



٢

..... وَحَدَاتٍ مُرَبَّعَةٍ.



١

..... وَحَدَاتٍ مُرَبَّعَةٍ.

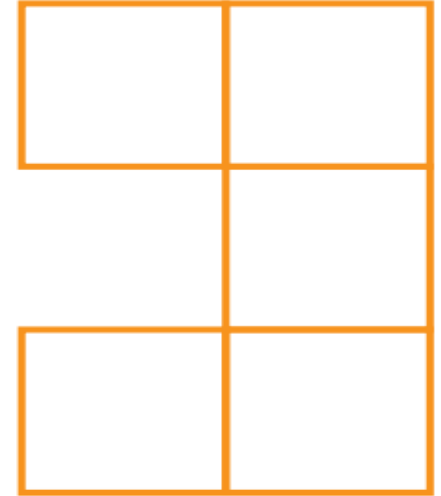




أَتَدْرِبُ

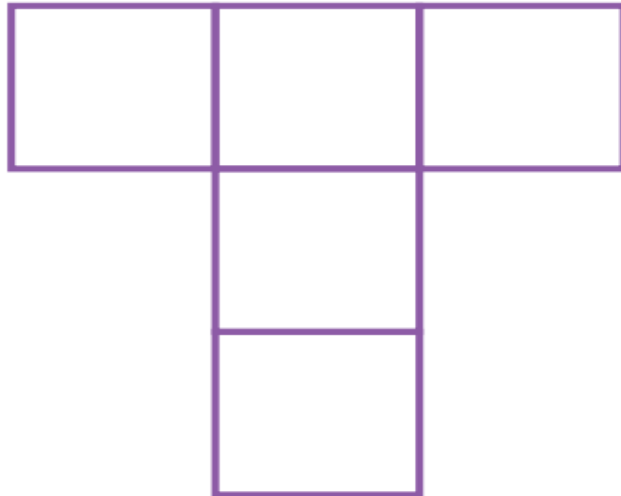
مَا مِسَاحَةُ كُلِّ شَكْلِ مِمَّا يَلِي بِالْوَحْدَةِ الْمُرَبَّعَةِ؟

٤



..... وَحَدَاتٍ مُرَبَّعَةٍ.

٥



..... وَحَدَاتٍ مُرَبَّعَةٍ.



أَتَذَكَّرُ
أَقِيسُ الْمَسَاحَةَ بِالْوَحَدَاتِ
الْمُرَبَّعَةِ.



..... وَحَدَاتٍ مُرَبَّعَةٍ.

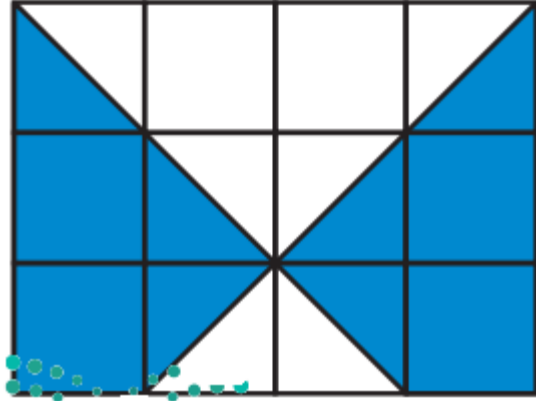
أ. أحمد الأحمد

@ahmad9963



أحل المسألة

التفكير البصري: كم وحدة مربعة ملونة باللون الأزرق؟



.....

كَيْفَ عَرَفْتُ ذَلِكَ؟

.....

أ. أحمد الأحمد

@ahmad9963

