

تم تحميل هذا الملف من موقع المناهج السعودية

الملف عرض الدرس الخامس مقارنة المساحات وترتيبها

[موقع المناهج](#) ⇨ [المناهج السعودية](#) ⇨ [الصف الثاني](#) ⇨ [رياضيات](#) ⇨ [الفصل الثالث](#)

الملف عرض الدرس الخامس مقارنة المساحات وترتيبها

[موقع المناهج](#) ⇨ [المناهج السعودية](#) ⇨ [الصف الثاني](#) ⇨ [رياضيات](#) ⇨ [الفصل الثالث](#)

المزيد من الملفات بحسب الصف الثاني والمادة رياضيات في الفصل الثالث

<a href="#">تحضير عين لدروس الفصل الثالث</a>	1
<a href="#">اختبار الفترة الخامسة</a>	2
<a href="#">اختبار الفصل التاسع</a>	3
<a href="#">أسئلة اختبار الفصل العاشر</a>	4
<a href="#">اختبار الفترة الخامسة الباب التاسع</a>	5


٥ - ١١

# مقارنة المساحات وترتيبها



أ. أحمد الأحمد

@ahmad9963



الأشكال الأصغر  
تُغطّي مساحة أصغر،  
والأشكال الأكبر  
تُغطّي مساحة أكبر.

مساحته أصغر  
مساحته أكبر

هذه الأشكال مرتّبة؛ بدءًا بالشكل الذي يُغطّي المساحة الأصغر،  
إلى الشكل الذي يُغطّي المساحة الأكبر.

٣ ٢ ١

### فكرة الدرس


أقارن بين مساحات  
أشكال مختلفة ،  
وأرتبها .

### المفردات

مساحة أكبر  
المساحة الأكبر  
مساحة أصغر  
المساحة الأصغر

أ.أحمد الأحمد

@ahmad9963

أَسْتَعْمِلُ ، وَأُحَوِّطُ الشَّكْلَ الَّذِي مِسَاحَتُهُ أَكْبَرُ:

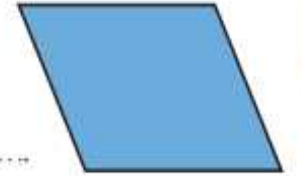
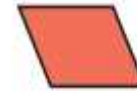
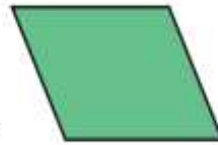


٢



١

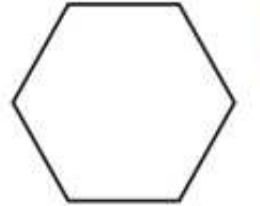
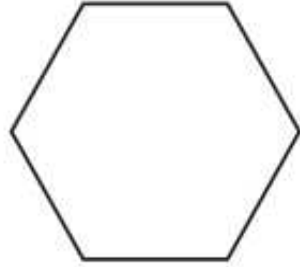
أَرْتَبُ الأشْكَالَ بِحَسَبِ مِسَاحَاتِهَا، أَكْتُبُ الأَرْقَامَ ١، ٢، ٣ مُبْتَدِئًا بِالشَّكْلِ ذِي المِسَاحَةِ الأَصْغَرِ:



٣



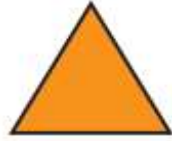
أَلْوَنُ بِالْأَزْرَقِ الشَّكْلَ الَّذِي يُغَطِّي الْمَسَاحَةَ الْأَكْبَرَ، ثُمَّ أَلْوَنُ بِالْأَحْمَرِ الشَّكْلَ الَّذِي يُغَطِّي الْمَسَاحَةَ الْأَصْغَرَ:



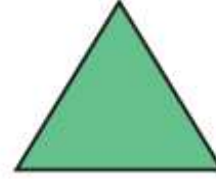
أ. أحمد الأحمدى

@ahmad9963

أرتب الأشكال بحسب مساحتها، أكتب الأرقام ١، ٢، ٣ مُبتدئًا بالشكل ذي المساحة الأكبر:



.....



.....



.....

٦



.....



.....



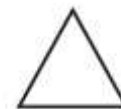

.....

٧



## أحل المسألة

التفكير البصري: أرسم شكلاً مساحته أكبر من مساحة المثلث،  
وأصغر من مساحة الدائرة.



أ. أحمد الأحمد

@ahmad9963