

تم تحميل هذا الملف من موقع المناهج السعودية



موقع المناهج المنهاج السعودي

*للحصول على أوراق عمل لجميع الصفوف وجميع المواد اضغط هنا

<https://www.almanahj.com/sa>

* للحصول على أوراق عمل لجميع مواد الصف الثاني اضغط هنا

<https://almanahj.com/sa/2>

* للحصول على جميع أوراق الصف الثاني في مادة رياضيات ولجميع الفصول, اضغط هنا

<https://almanahj.com/sa/2math>

* للحصول على أوراق عمل لجميع مواد الصف الثاني في مادة رياضيات الخاصة بـ الفصل الثاني اضغط هنا

<https://www.almanahj.com/sa/2math2>

* لتحميل كتب جميع المواد في جميع الفصول للـ الصف الثاني اضغط هنا

<https://www.almanahj.com/sa/grade2>

للحصول على جميع روابط الصفوف على تلغرام وفيسبوك من قنوات وصفحات: اضغط هنا

<https://t.me/sacourse>



ورقة عمل: مقارنة الكسور

الأربعاء ١٨ / ٦ / ١٤٤١ هـ

الصف : الثاني

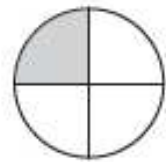
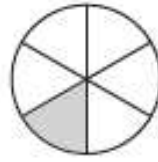
الاسم :

قارن بين الكسور التالية بوضع < أو > في



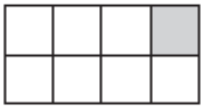
٢

$$\frac{1}{12} \quad \circ \quad \frac{1}{8}$$



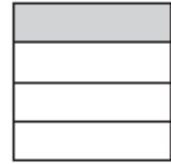

١

$$\frac{1}{6} \quad \circ \quad \frac{1}{4}$$



٤

$$\frac{1}{8} \quad \circ \quad \frac{1}{6}$$



٣

$$\frac{1}{3} \quad \circ \quad \frac{1}{4}$$

أقارن بين الكسور، وأستعمل إشارة < أو > :

$$\frac{1}{8} \quad \circ \quad \frac{1}{6} \quad \text{٧}$$

$$\frac{1}{8} \quad \circ \quad \frac{1}{4} \quad \text{٦}$$

$$\frac{1}{6} \quad \circ \quad \frac{1}{4} \quad \text{٥}$$

$$\frac{1}{4} \quad \circ \quad \frac{1}{6} \quad \text{١٢}$$

$$\frac{1}{3} \quad \circ \quad \frac{1}{6} \quad \text{٩}$$

$$\frac{1}{8} \quad \circ \quad \frac{1}{12} \quad \text{٨}$$