

تم تحميل هذا الملف من موقع المناهج السعودية



الملف اختبار الفترة الخامسة

[موقع المناهج](#) ⇨ [المناهج السعودية](#) ⇨ [الصف الثاني](#) ⇨ [رياضيات](#) ⇨ [الفصل الثالث](#)

الملف اختبار الفترة الخامسة

[موقع المناهج](#) ⇨ [المناهج السعودية](#) ⇨ [الصف الثاني](#) ⇨ [رياضيات](#) ⇨ [الفصل الثالث](#)

المزيد من الملفات بحسب الصف الثاني والمادة رياضيات في الفصل الثالث

[تحضير عين لدروس الفصل الثالث](#)



اختبار الفترة الخامسة – الفصل الدراسي الثالث – ١٤٤٣ هـ

اسم الطالبة: المادة: رياضيات الصف: الثاني الابتدائي


السؤال الأول: أستعمل النماذج لأمثل المئات ، ثم اكتب العدد في صورة مئات وعشرات وأحاد:

almanahj.com/sa

..... مِائَاتٍ = عَشْرَاتٍ = السُّمُورِ أَحَادٍ



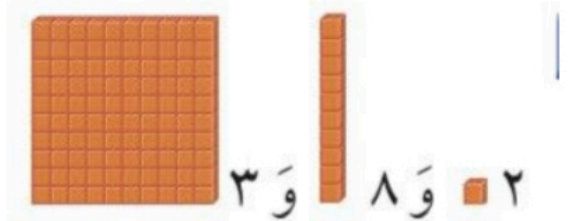
..... مِائَاتٍ = عَشْرَاتٍ = أَحَادٍ



السؤال الثاني: أستعمل النماذج لأمثل العدد ، ثم املأ جدول المنازل ، واكتب العدد:

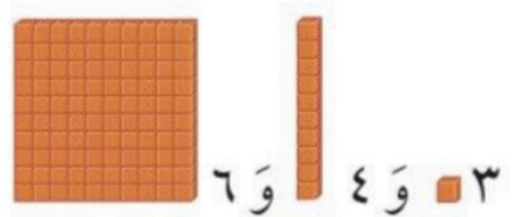
مِائَاتٍ	عَشْرَاتٍ	أَحَادٍ

.....



مِائَاتٍ	عَشْرَاتٍ	أَحَادٍ

.....



السؤال الثالث: اكتب الصورة التحليلية للعدد ، ثم اكتبه :

٩ آحادٍ ٤ عَشْرَاتٍ ١ مِئَاتٍ

..... + +
.....

السؤال الرابع : أكتب العدد :

almanahj.com/sa
المنهج السعودية

..... = ٦٠٠ + ٣٠ + ٨

السؤال الخامس : اكتب الأعداد بالأرقام:

ثمانية وثلاثون

مئة و واحد وعشرون

السؤال السادس : اقرن بين العددين ثم اكتب الإشارة المناسبة (>, <, =):

٨٩٩ ○ ٩٠٧

١٥٠ ○ ١٥٠ |

٦٦٧ ○ ٦٩٧

almanahj.com/sa
المنهج السعودية