


## شكراً لتحميلك هذا الملف من موقع المناهج السعودية



## اختبار تربية بدنية ثالث ابتدائي مهارة التعلق المقلوب

[موقع المناهج](#) ← [المناهج السعودية](#) ← [الصف الثالث](#) ← [التربية البدنية](#) ← [الفصل الثاني](#) ← [الملف](#)

تاريخ نشر الملف على موقع المناهج: 2024-01-20 14:59:37 | اسم المدرس: منصور شامي

## التواصل الاجتماعي بحسب الصف الثالث



## المزيد من الملفات بحسب الصف الثالث والمادة التربية البدنية في الفصل الثاني

<a href="#">اختبار تربية بدنية ثاني ابتدائي مهارة رمي الكرة</a>	1
<a href="#">اختبار مهارة القوس المعكوس ثالث ابتدائي</a>	2
<a href="#">اختبار تربية بدنية ثالث ابتدائي عنصر المرونة</a>	3
<a href="#">اختبار تربية بدنية ثالث ابتدائي مهارة التعلق الراسي</a>	4
<a href="#">اختبار مهارة الاتزان من وضع الاقعاء نصفاً للصف الثالث الابتدائي</a>	5

## تربية بدنية اختبار الصف الثالث ابتدائي

الاسم :

الصف الثالث :

### اختر/ي الاجابة الصحيحة

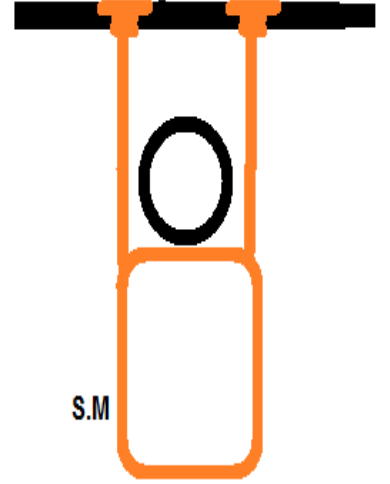


- الشكل الذي امامك يمثل مهارة التعلق الراسي .



- الشكل الذي امامك يمثل مهارة الوقوف على الرأس .

- الشكل الذي امامك يمثل مهارة التعلق المقلوب .



## نموذج الإجابة


### اختر/ي الإجابة الصحيحة



- الشكل الذي امامك يمثل مهارة التعلق الرأسي .



- الشكل الذي امامك يمثل مهارة الوقوف على الرأس .



- الشكل الذي امامك يمثل مهارة التعلق المقلوب .

