

شكراً لتحميلك هذا الملف من موقع المناهج السعودية



اختبار منتصف الفصل ترم أول

[موقع المناهج](#) ← [المناهج السعودية](#) ← [الصف الثالث](#) ← [التربية الفنية](#) ← [الفصل الثالث](#) ← [الملف](#)

التواصل الاجتماعي بحسب الصف الثالث

روابط مواد الصف الثالث على تلغرام

[الرياضيات](#)

[اللغة الانجليزية](#)

[اللغة العربية](#)

[التربية الاسلامية](#)

المزيد من الملفات بحسب الصف الثالث والمادة التربية الفنية في الفصل الثالث

اختبار نهائي الدور الأول	1
اختبار منتصف الفصل	2
اختبار منتصف الفصل	3
تحميل كتاب الفنية	4
اختبار نهاية الفصل	5

اختبار التربية الفنية - ثالث ابتدائي - الترم الاول

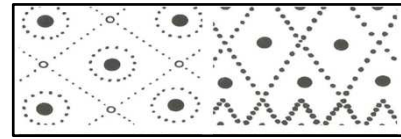

الصف : ٣ /

اسم الطالب/ة :

السؤال الأول ، صح او خطأ :

١. التصميم هو التخطيط لشيء معين وإنشاؤه بطريقة جميلة وممتعة
 صح خطأ
٢. يتم تنفيذ الاسكتش غالباً بأقلام الرصاص
 صح خطأ
٣. ألعابنا تعتمد على التصميم
 صح خطأ
٤. التصميم يستخدم في الفنون و العمارة و الأثاث فقط
 صح خطأ
٥. لم يعتمد الانسان في زخرفته على الموجودات المحيطة به
 صح خطأ

السؤال الثاني ، اختاري ما بين الاقواس وضعه في المكان المناسب في الفراغات التالية :
(تشكيلات من نقطة - تشكيلات من الخطوط)



.....

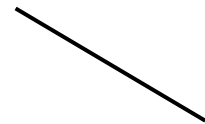
.....

السؤال الثالث ، صل/ي بين الشكل وما يناسبه من الكلمات فيما يأتي :


الخط



الحجم



الشكل



لا تنسوني من دعائكم في ظهر الغيب لعل أحدكم
أقرب إلى الله مني ومستجاب الدعوة فاسعد بيها
طول عمري

<https://t.me/schoolart45>