

تم تحميل هذا الملف من موقع المناهج السعودية



اختبار فنية مع نموذج الإجابة

موقع المناهج ← المناهج السعودية ← الصف الثالث ← التربية الفنية ← الفصل الأول ← ملفات متنوعة ← الملف

تاريخ إضافة الملف على موقع المناهج: 09:35:04 2024-10-02

ملفات اكتب للمعلم اكتب للطالب الاختبارات الكترونية الاختبارات ا حلول اعروض بوربوينت ا أوراق عمل
منهج انجليزي ا ملخصات وتقارير ا مذكرات وبنوك الامتحان النهائي للمدرس

المزيد من مادة
التربية الفنية:

التواصل الاجتماعي بحسب الصف الثالث



صفحة المناهج
السعودية على
فيسبوك

الرياضيات

اللغة الانجليزية

اللغة العربية

التربية الاسلامية

المواد على تلغرام

المزيد من الملفات بحسب الصف الثالث والمادة التربية الفنية في الفصل الأول

توزيع وحدات منهج التربية الفنية

1

نموذج إجابة اختبار منتصف الفصل

2

اختبار منتصف الفصل ترم أول

3

توزيع منهج التربية الفنية 1445 هـ

4

تحضير وحدات الفنية 1444 هـ

5



اختبار التربية الفنية - ثالث ابتدائي - الترم الاول



الصف : ٣ /

اسم الطالب/ة :

السؤال الأول ، صح او خطأ :

١. التصميم هو التخطيط لشيء معين وإنشاؤه بطريقة جميلة وممتعة
 صح خطأ
٢. يتم تنفيذ الاسكتش غالباً بأقلام الرصاص
 صح خطأ
٣. ألعابنا تعتمد على التصميم
 صح خطأ
٤. التصميم يستخدم في الفنون و العمارة و الأثاث فقط
 صح خطأ
٥. لم يعتمد الانسان في زخرفته على الموجودات المحيطة به
 صح خطأ

السؤال الثاني ، اختاري ما بين الاقواس وضعه في المكان المناسب في الفراغات التالية :
(تشكيلات من نقطة - تشكيلات من الخطوط)

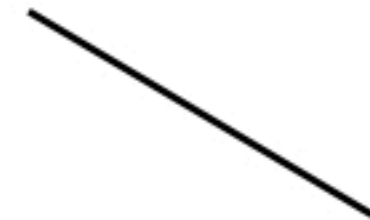


السؤال الثالث ، صل/ي بين الشكل وما يناسبه من الكلمات فيما يأتي :

الخط



الحجم



الشكل



نموذج الإجابة

المملكة العربية السعودية
وزارة التعليم
الإدارة العامة للتعليم بمنطقة
ابتدائية

Ministry of Education

اختبار التربية الفنية - ثالث ابتدائي - الترم الأول


الصف : ٣ //

اسم الطالب/ة :

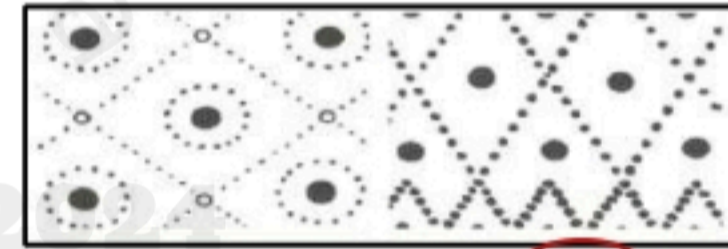
السؤال الأول ، صح او خطأ :

١. التصميم هو التخطيط لشيء معين وإنشاؤه بطريقة جميلة وممتعة
 صح خطأ
٢. يتم تنفيذ الاسكتش غالباً بأقلام الرصاص
 صح خطأ
٣. ألعابنا تعتمد على التصميم
 صح خطأ
٤. التصميم يستخدم في الفنون و العمارة و الأثاث فقط
 صح خطأ
٥. لم يعتمد الانسان في زخرفته على الموجودات المحيطة به
 صح خطأ

السؤال الثاني ، اختاري ما بين الاقواس وضعه في المكان المناسب في الفراغات التالية :
(تشكيلات من نقطة - تشكيلات من الخطوط)

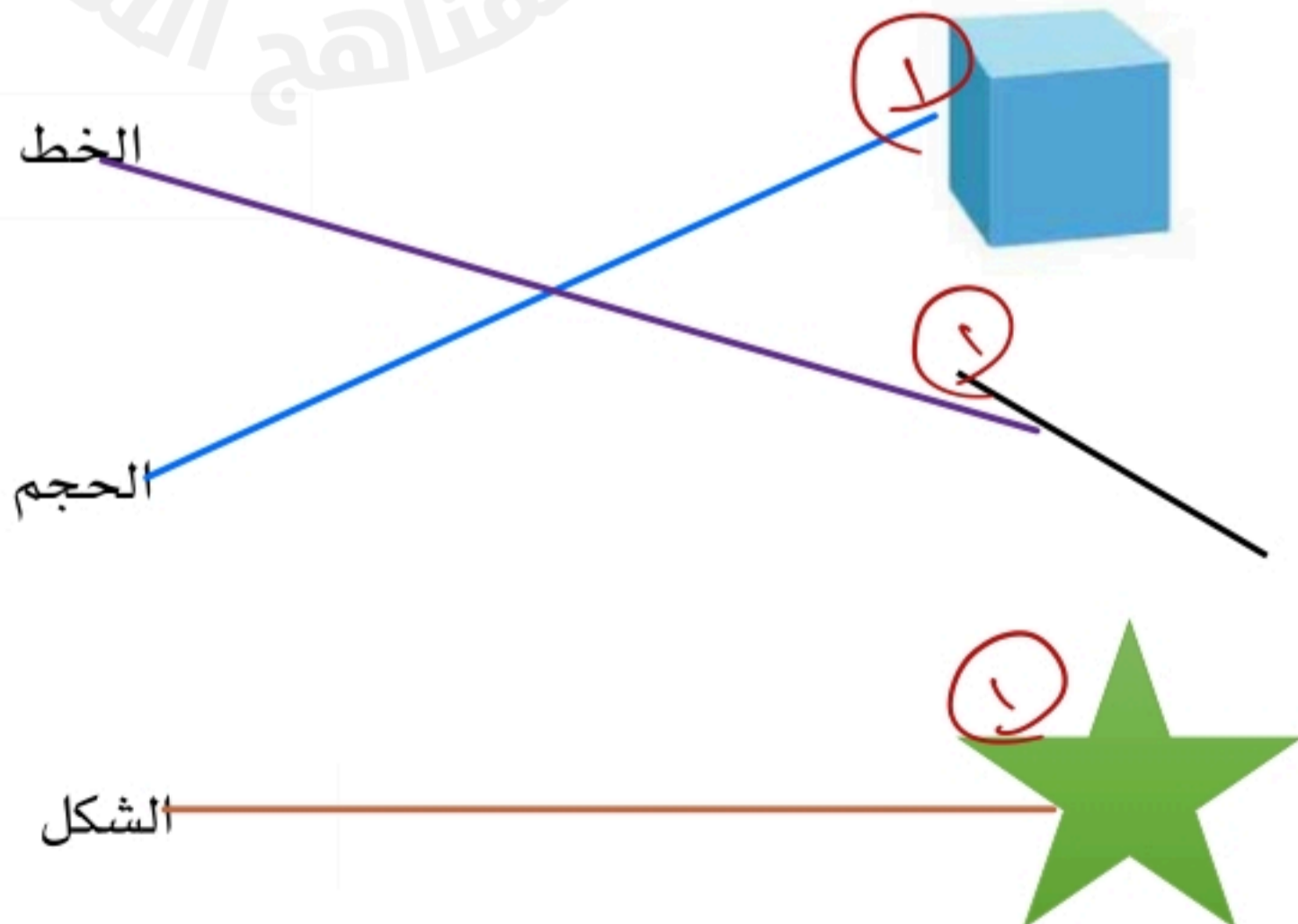


..... تشكيلات من الخطوط



..... تشكيلات من نقطة

السؤال الثالث ، صل/ي بين الشكل وما يناسبه من الكلمات فيما يأتي :



الدرجة الكاملة ١٠	المادة		المملكة العربية السعودية
	تربية فنية		وزارة التعليم
	عدد الأوراق ١		الإدارة العامة للتعليم بمحافظة الطائف
	عدد الأسئلة ١		مدرسة جميلة بنت الحارث
اختبار مادة (التربية الفنية) للصف (الثالث) - الفصل الدراسي (الأول) - الفترة (الأولى) لعام ١٤٤٦هـ			
اسم الطالبة	الصف		

السؤال الأول:

ضعي علامة (✓) أمام العبارة الصحيحة وعلامة (×) أمام العبارة الخاطئة فيما يلي:

العلامة	العبارة	م
()	التصميم هو الخطيط لشيء معين	١
()	النقطة هي أبسط عناصر التصميم	٢
()	نجد شكل النقطة في أشياء كثيرة من حولنا مثل الفراولة	٣
()	من عناصر التصميم الخط 2024	٤
()	من أنواع الخطوط الخط المتعرج	٥
()	الإسكتش هو التخطيط الأولي لأي عمل	٦
()	يستخدم في رسم الإسكتش قلم الرصاص	٧
()	تشكيلات من نقطة من الزخرفة البدائية	٨
()	من الزخارف الإسلامية زخرفة كتابية	٩
()	يعتمد الإسكتش على الخط	١٠

انتهت الأسئلة
مع تمنياتي لكن بالتوفيق
معلمة المادة