

## شكراً لتحميلك هذا الملف من موقع المناهج السعودية



## نموذج تدريب على الاختبار الوطني نافس

[موقع المناهج](#) ← [المناهج السعودية](#) ← [الصف الثالث](#) ← [رياضيات](#) ← [الفصل الثالث](#) ← [الملف](#)

تاريخ إضافة الملف على موقع المناهج: 2024-04-27 07:16:52

## التواصل الاجتماعي بحسب الصف الثالث



اضغط هنا للحصول على جميع روابط "الصف الثالث"

## المزيد من الملفات بحسب الصف الثالث والمادة رياضيات في الفصل الثالث

|  |   |
|--|---|
| <a href="#">أسئلة اختبار الفترة منتصف الفصل</a>          | 1 |
| <a href="#">اختبارات منتصف الفصل مع نماذج الإجابة</a>    | 2 |
| <a href="#">نموذج إجابة اختبار منتصف الفصل</a>           | 3 |
| <a href="#">اختبار منتصف الفصل</a>                       | 4 |
| <a href="#">خطة توزيع المنهج على أسابيع الفصل الثالث</a> | 5 |









# نموذج تدريب الصف الثالث الابتدائي

( نافس )









## ( نموذج تدريب نافس 1 )

|   |   |   |   |   |   |   |   |
|---|---|---|---|---|---|---|---|
| أي الأشكال الآتية يمثل أسطوانة.   |   |   |   |   | ١ |   |   |
|    | د |    | ج |    | ب |    | أ |
| أي الأشكال التالية أنسب لوصف مجسم جميع أوجهه مربعة الشكل.                           |   |   |   |   | ٢ |   |   |
| الهرم   | د | الكرة   | ج | المخروط   | ب | المكعب  | أ |
| أي الأشكال التالية ليس له محور تماثل.   |   |   |   |   | ٣ |   |   |
|  | د |  | ج |  | ب |  | أ |
| ٣   | د | ٦   | ج | ٤   | ب | ٥   | أ |
| الشكل المستوي له .....  |   |   |   |   | ٤ |   |   |
| طول وعرض وارتفاع  | د | طول وعرض  | ج | عرض فقط   | ب | طول فقط   | أ |
| مُضَلَعٌ لَهُ ٦ أَضْلاعٍ، وَ ٦ زَوَايا، مَاذَا أُسْمِيَ هَذَا المُّضَلَعُ؟          |   |   |   |   | ٥ |   |   |
| ثمانى   | د | رباعي   | ج | خماسى   | ب | سداسى   | أ |





|   |   |   |   |   |   |   |   |
|---|---|---|---|---|---|---|---|
| أي مايلي يمثل مخروطاً ؟   |   |   |   | ٦   |   |   |   |
|  (د) | د |  (ج) | ج |  (ب) | ب |  (ا) | ا |

٧- أختار الوحدة الأنسب لقياس سعة حوض اسماك:

أ- ل      ب- مثل      ج- كلم      د- سم

٨- مجسم له وجهان دائريان هو:

أ- مكعب      ب- أسطوانة      ج- هرم      د) مخروط

٩- صندوق فيه ١٠ كرات ؛ واحدة منها فقط زرقاء ، صف احتمال اختيار كره زرقاء :

أ- أكثر احتمالاً      ب- أقل احتمالاً      ج- مستحيل      د) اكيد

١٠- أجد محيط الشكل التالي ٢ سم  ٥ سم : ٢ سم

أ- ٤ سم      ب- ٢٠ سم      ج- ١٥ سم      د) ٢٥ سم





# نموذج تدريب على طريقة التظليل ببطاقة الاختبار



وزارة التعليم

Ministry of Education

الاختبارات الوطنية  
الثالث الابتدائي

الاسم الرباعي: .....

رقم السجل المدني / رقم الإقامة

رمز المدرسة

اسم المدرسة: .....

الصف: .....

الفصل: .....

إجابات الأسئلة

| د                     | ج                     | ب                     | أ                     |
|-----------------------|-----------------------|-----------------------|-----------------------|
| <input type="radio"/> | <input type="radio"/> | <input type="radio"/> | <input type="radio"/> |
| ٢١                    |                       |                       |                       |
| <input type="radio"/> | <input type="radio"/> | <input type="radio"/> | <input type="radio"/> |
| ٢٢                    |                       |                       |                       |
| <input type="radio"/> | <input type="radio"/> | <input type="radio"/> | <input type="radio"/> |
| ٢٣                    |                       |                       |                       |
| <input type="radio"/> | <input type="radio"/> | <input type="radio"/> | <input type="radio"/> |
| ٢٤                    |                       |                       |                       |
| <input type="radio"/> | <input type="radio"/> | <input type="radio"/> | <input type="radio"/> |
| ٢٥                    |                       |                       |                       |
| <input type="radio"/> | <input type="radio"/> | <input type="radio"/> | <input type="radio"/> |
| ٢٦                    |                       |                       |                       |
| <input type="radio"/> | <input type="radio"/> | <input type="radio"/> | <input type="radio"/> |
| ٢٧                    |                       |                       |                       |
| <input type="radio"/> | <input type="radio"/> | <input type="radio"/> | <input type="radio"/> |
| ٢٨                    |                       |                       |                       |
| <input type="radio"/> | <input type="radio"/> | <input type="radio"/> | <input type="radio"/> |
| ٢٩                    |                       |                       |                       |
| <input type="radio"/> | <input type="radio"/> | <input type="radio"/> | <input type="radio"/> |
| ٣٠                    |                       |                       |                       |

| د                     | ج                     | ب                     | أ                     |
|-----------------------|-----------------------|-----------------------|-----------------------|
| <input type="radio"/> | <input type="radio"/> | <input type="radio"/> | <input type="radio"/> |
| ١١                    |                       |                       |                       |
| <input type="radio"/> | <input type="radio"/> | <input type="radio"/> | <input type="radio"/> |
| ١٢                    |                       |                       |                       |
| <input type="radio"/> | <input type="radio"/> | <input type="radio"/> | <input type="radio"/> |
| ١٣                    |                       |                       |                       |
| <input type="radio"/> | <input type="radio"/> | <input type="radio"/> | <input type="radio"/> |
| ١٤                    |                       |                       |                       |
| <input type="radio"/> | <input type="radio"/> | <input type="radio"/> | <input type="radio"/> |
| ١٥                    |                       |                       |                       |
| <input type="radio"/> | <input type="radio"/> | <input type="radio"/> | <input type="radio"/> |
| ١٦                    |                       |                       |                       |
| <input type="radio"/> | <input type="radio"/> | <input type="radio"/> | <input type="radio"/> |
| ١٧                    |                       |                       |                       |
| <input type="radio"/> | <input type="radio"/> | <input type="radio"/> | <input type="radio"/> |
| ١٨                    |                       |                       |                       |
| <input type="radio"/> | <input type="radio"/> | <input type="radio"/> | <input type="radio"/> |
| ١٩                    |                       |                       |                       |
| <input type="radio"/> | <input type="radio"/> | <input type="radio"/> | <input type="radio"/> |
| ٢٠                    |                       |                       |                       |

| د                     | ج                     | ب                     | أ                     |
|-----------------------|-----------------------|-----------------------|-----------------------|
| <input type="radio"/> | <input type="radio"/> | <input type="radio"/> | <input type="radio"/> |
| ١                     |                       |                       |                       |
| <input type="radio"/> | <input type="radio"/> | <input type="radio"/> | <input type="radio"/> |
| ٢                     |                       |                       |                       |
| <input type="radio"/> | <input type="radio"/> | <input type="radio"/> | <input type="radio"/> |
| ٣                     |                       |                       |                       |
| <input type="radio"/> | <input type="radio"/> | <input type="radio"/> | <input type="radio"/> |
| ٤                     |                       |                       |                       |
| <input type="radio"/> | <input type="radio"/> | <input type="radio"/> | <input type="radio"/> |
| ٥                     |                       |                       |                       |
| <input type="radio"/> | <input type="radio"/> | <input type="radio"/> | <input type="radio"/> |
| ٦                     |                       |                       |                       |
| <input type="radio"/> | <input type="radio"/> | <input type="radio"/> | <input type="radio"/> |
| ٧                     |                       |                       |                       |
| <input type="radio"/> | <input type="radio"/> | <input type="radio"/> | <input type="radio"/> |
| ٨                     |                       |                       |                       |
| <input type="radio"/> | <input type="radio"/> | <input type="radio"/> | <input type="radio"/> |
| ٩                     |                       |                       |                       |
| <input type="radio"/> | <input type="radio"/> | <input type="radio"/> | <input type="radio"/> |
| ١٠                    |                       |                       |                       |



## ( نموذج تدريب نAFس 2 )

|     |  |  |
|-----|--|--|
| س ١ | اكتب العدد المناسب في <input type="text"/> | ( ٢٥، <input type="text"/> ، ١٥، ١٠، ٥ ) |
| ٥   | ب  | ٢٠                                       |
|     | ج  | ٣٠                                       |
|     | د  | ٥٠                                       |

|     |   |
|-----|---|
| س ٢ | حدد اسم منزلة الرقم الذي تحته خط في العدد ٦٧٤٣٨ |
| ١   | العشرات   |
|     | ب   |
|     | المئات  |
|     | ج   |
|     | الألوف  |
|     | د   |
|     | عشرات الألوف                                    |

|     |  |
|-----|--|
| س ٣ | اختر الرمز المناسب من الرموز ( =، >، < ) للمقارنة بين ٩٣١ <input type="text"/> ٨٧٥ |
| <   | ا  |
| >   | ب  |
| =   | ج  |
| +   | د  |

|     |                           |
|-----|---------------------------|
| س ٤ | أوجد ناتج الجمع = ٥٦ + ٣٨ |
| ٤٨  | ا                         |
|     | ب                         |
|     | ٨٤                        |
|     | ج                         |
|     | ٤٩                        |
|     | د                         |
|     | ٩٤                        |

|     |   |
|-----|---|
| س ٥ | اكتب العدد المناسب في الفراغ ( ٢ + <input type="text"/> = ٩ + ٢ ) |
| ٢   | ا   |
|     | ب   |
|     | ٦   |
|     | ج   |
|     | ٩   |
|     | د   |
|     | ١١  |


|     |   |
|-----|---|
| س ٦ | أوجد ناتج الجمع                                       |
|     | $\begin{array}{r} ١٠٣ \\ + ٨٧٩ \\ \hline \end{array}$ |
| ٨٨٢ | ا   |
|     | ب   |
|     | ٩٨٢   |
|     | ج   |
|     | ٨٩٢   |
|     | د   |
|     | ٩٢٨   |

|     |                             |
|-----|-----------------------------|
| س ٧ | أوجد ناتج الطرح = ١٣٧ - ٥٠٠ |
| ٣٦٣ | ا                           |
|     | ب                           |
|     | ٣٧٣                         |
|     | ج                           |
|     | ٤٣٧                         |
|     | د                           |
|     | ٤٦٣                         |

|     |   |
|-----|---|
| س ٨ | أوجد ناتج الطرح                                     |
|     | $\begin{array}{r} ٤٥ \\ - ٢٨ \\ \hline \end{array}$ |
| ٧٣  | ا   |
|     | ب   |
|     | ٤٧  |
|     | ج   |
|     | ٣٧  |
|     | د   |
|     | ١٧  |

|     |                         |
|-----|-------------------------|
| س ٩ | أوجد ناتج الضرب = ٨ × ٤ |
| ١٢  | ا                       |
|     | ب                       |
|     | ٢٤                      |
|     | ج                       |
|     | ٣٢                      |
|     | د                       |
|     | ٣٦                      |

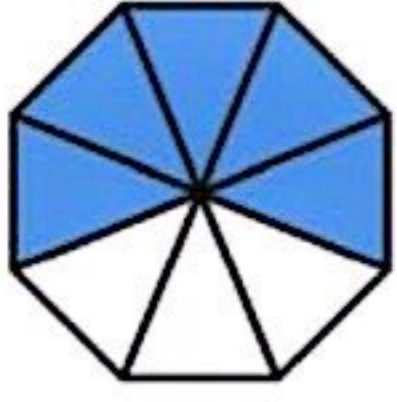
|      |                           |
|------|---------------------------|
| س ١٠ | أوجد ناتج القسمة = ٥ ÷ ٣٥ |
| ٧    | ا                         |
|      | ب                         |
|      | ٥                         |
|      | ج                         |
|      | ٤                         |
|      | د                         |
|      | ٣                         |

|      |   |
|------|---|
| س ١١ | الوقت الذي تشير إليه ساعة العقارب المجاورة  |
|      |  |
| ٦:١٢ | ا   |
|      | ب   |
|      | ٦:٢٢  |
|      | ج   |
|      | ٧:١٢  |
|      | د   |
|      | ٧:٢٢  |



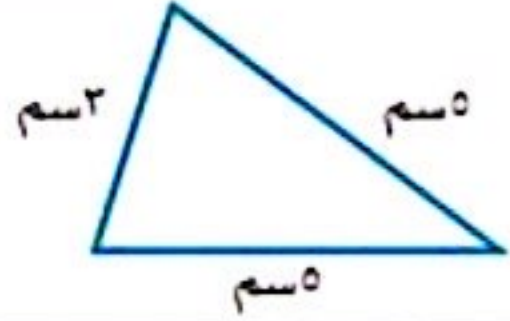


|      |               |   |               |  |               |   |               |
|------|---------------|---|---------------|--|---------------|---|---------------|
| س ١٢ |               |   |               | الكسر الذي يمثله الجزء المضلل في الشكل المجاور |               |   |               |
| أ    | $\frac{1}{5}$ | ب | $\frac{1}{8}$ | ج  | $\frac{3}{8}$ | د | $\frac{5}{8}$ |



|      |               |   |                |   |           |   |                 |
|------|---------------|---|----------------|---|-----------|---|-----------------|
| س ١٣ |               |   |                | اختر الوحدة الأنسب لقياس طول قلم الرصاص |           |   |                 |
| أ    | الملمتر (ملم) | ب | السنتيمتر (سم) | ج                                       | المتر (م) | د | الكيلومتر (كلم) |

|      |      |   |      |                          |      |   |      |
|------|------|---|------|--------------------------|------|---|------|
| س ١٤ |      |   |      | أوجد محيط المثلث المجاور |      |   |      |
| أ    | ١٣سم | ب | ١٤سم | ج                        | ١٥سم | د | ١٦سم |



|      |     |   |         |                                |       |   |     |
|------|-----|---|---------|--------------------------------|-------|---|-----|
| س ١٥ |     |   |         | حدد اسم الجسم في الشكل المجاور |       |   |     |
| أ    | هرم | ب | أسطوانة | ج                              | مخروط | د | كرة |





# نموذج تدريب على طريقة التظليل ببطاقة الاختبار



وزارة التعليم

Ministry of Education

الاختبارات الوطنية  
الثالث الابتدائي

الاسم الرباعي: .....

رقم السجل المدني / رقم الإقامة

رمز المدرسة

اسم المدرسة: .....

الصف: .....

الفصل: .....

إجابات الأسئلة

| د                     | ج                     | ب                     | أ                     |    |
|-----------------------|-----------------------|-----------------------|-----------------------|----|
| <input type="radio"/> | <input type="radio"/> | <input type="radio"/> | <input type="radio"/> | ٢١ |
| <input type="radio"/> | <input type="radio"/> | <input type="radio"/> | <input type="radio"/> | ٢٢ |
| <input type="radio"/> | <input type="radio"/> | <input type="radio"/> | <input type="radio"/> | ٢٣ |
| <input type="radio"/> | <input type="radio"/> | <input type="radio"/> | <input type="radio"/> | ٢٤ |
| <input type="radio"/> | <input type="radio"/> | <input type="radio"/> | <input type="radio"/> | ٢٥ |
| <input type="radio"/> | <input type="radio"/> | <input type="radio"/> | <input type="radio"/> | ٢٦ |
| <input type="radio"/> | <input type="radio"/> | <input type="radio"/> | <input type="radio"/> | ٢٧ |
| <input type="radio"/> | <input type="radio"/> | <input type="radio"/> | <input type="radio"/> | ٢٨ |
| <input type="radio"/> | <input type="radio"/> | <input type="radio"/> | <input type="radio"/> | ٢٩ |
| <input type="radio"/> | <input type="radio"/> | <input type="radio"/> | <input type="radio"/> | ٣٠ |

| د                     | ج                     | ب                     | أ                     |    |
|-----------------------|-----------------------|-----------------------|-----------------------|----|
| <input type="radio"/> | <input type="radio"/> | <input type="radio"/> | <input type="radio"/> | ١١ |
| <input type="radio"/> | <input type="radio"/> | <input type="radio"/> | <input type="radio"/> | ١٢ |
| <input type="radio"/> | <input type="radio"/> | <input type="radio"/> | <input type="radio"/> | ١٣ |
| <input type="radio"/> | <input type="radio"/> | <input type="radio"/> | <input type="radio"/> | ١٤ |
| <input type="radio"/> | <input type="radio"/> | <input type="radio"/> | <input type="radio"/> | ١٥ |
| <input type="radio"/> | <input type="radio"/> | <input type="radio"/> | <input type="radio"/> | ١٦ |
| <input type="radio"/> | <input type="radio"/> | <input type="radio"/> | <input type="radio"/> | ١٧ |
| <input type="radio"/> | <input type="radio"/> | <input type="radio"/> | <input type="radio"/> | ١٨ |
| <input type="radio"/> | <input type="radio"/> | <input type="radio"/> | <input type="radio"/> | ١٩ |
| <input type="radio"/> | <input type="radio"/> | <input type="radio"/> | <input type="radio"/> | ٢٠ |

| د                     | ج                     | ب                     | أ                     |    |
|-----------------------|-----------------------|-----------------------|-----------------------|----|
| <input type="radio"/> | <input type="radio"/> | <input type="radio"/> | <input type="radio"/> | ١  |
| <input type="radio"/> | <input type="radio"/> | <input type="radio"/> | <input type="radio"/> | ٢  |
| <input type="radio"/> | <input type="radio"/> | <input type="radio"/> | <input type="radio"/> | ٣  |
| <input type="radio"/> | <input type="radio"/> | <input type="radio"/> | <input type="radio"/> | ٤  |
| <input type="radio"/> | <input type="radio"/> | <input type="radio"/> | <input type="radio"/> | ٥  |
| <input type="radio"/> | <input type="radio"/> | <input type="radio"/> | <input type="radio"/> | ٦  |
| <input type="radio"/> | <input type="radio"/> | <input type="radio"/> | <input type="radio"/> | ٧  |
| <input type="radio"/> | <input type="radio"/> | <input type="radio"/> | <input type="radio"/> | ٨  |
| <input type="radio"/> | <input type="radio"/> | <input type="radio"/> | <input type="radio"/> | ٩  |
| <input type="radio"/> | <input type="radio"/> | <input type="radio"/> | <input type="radio"/> | ١٠ |



## ( نموذج تدريب نافس 3 )

٥ : ١ كجم من الإسفنج  ١ كجم من الحديد:

أ >

ب <

ج =

د الإسفنج ليس له كتلة

٦ : معك اليوم ٢٠ ريالاً، وقد كان معك أمس ربع هذا العدد زائداً

اثنين، فكم كان معك بالأمس؟

أ ٥

ب ٧

ج ٩

د ١٠

٧ : إذا كان مع أحمد ١٠ أوراق نقدية من فئة ١٠ ريالات فإن المبلغ

الذي مع أحمد بالريال هو:

أ ١٠٠

ب ٨٠

ج ٤٠

د ١٠

٨ : عندما يلتقيان عقربي الساعات والدقائق عند الرقم (١٢) فإن القراءة

الصحيحة لهذه الساعة هي:

أ الثانية عشر تماماً

ب الثانية عشر والرابع

ج الثانية عشر إلا ربع

د الثانية عشر والنصف

١ : مبنى ارتفاعه ٢٧ متراً، كم عدد طوابقه إذا كان ارتفاع كل طابق فيه ٣ أمتار؟

أ ٩

ب ٧

ج ٣

د ٥

٢ : المسألة التي أحلها لأتحقق من أن:  $٧٠ \div ١٠ = ٧$  هي:

أ  $١٠ - ٧ =$

ب  $٧ \times ٧٠ =$

ج  $١٠ \times ٧ =$

د  $١٠ + ٧ =$

٣ : مع خالد ٣٢ ريالاً، ويرغب في شراء لعبة ثمنها ٨٠ ريالاً، إذا

وفر كل أسبوع ٨ ريالات، فبعد كم أسبوع يستطيع أن يشتري

اللعبة؟

أ ٤

ب ٥

ج ٦

د ١٠

٤ : يسمى طول الإطار الخارجي لشكل ما ب:

أ المساحة

ب المحيط

ج السعة

د الكتلة



٩: إذا أكل فهد ٤ قطع من بيتزا مقسمة إلى ٥ قطع متطابقة، فإن

الكسر الذي يُمثل القطع المتبقية من البيتزا يسمى:

- أ نصف
- ب خمس
- ج ربع
- د ثلث

١٠: إذا كان غداً هو يوم الثلاثاء فإن يوم أمس هو:

- أ الأحد
- ب الاثنين
- ج الأربعاء
- د الخميس

١١: العدد الأكبر من الأعداد التالية: ٤٥٠، ٤٠٥، ٥٤٠، ٥٠٤ هو:

- أ ٤٥٠
- ب ٤٠٥
- ج ٥٤٠
- د ٥٠٤

١٢: العدد (٧٠١) يكتب:

- أ مئة وسبعة
- ب سبع مئة وعشرة
- ج مئة وسبعون
- د سبع مئة وواحد

١٣: العددان التاليان في النمط (٢، ٥، ٨، ١١، ١٤، ...) هما:

- أ ١٦، ١٨
- ب ١٦، ١٩
- ج ١٧، ١٩
- د ١٧، ٢٠

١٤: عدد عندما أقربه إلى أقرب مئة يكون الناتج ٤٠٠، هذا العدد هو:

- أ ٣٠١
- ب ٣٤٩
- ج ٤٠١
- د ٥٢٢

١٥: يكتب العدد سبعة وتسعون ألفاً وخمسة مئة واثنان وأربعون

بالصيغة القياسية:

- أ ٩٧٠٤٢
- ب ٩٧٥٠٠
- ج ٩٧٥٤٠
- د ٩٧٥٤٢





# نموذج تدريب على طريقة التظليل ببطاقة الاختبار



وزارة التعليم

Ministry of Education

الاختبارات الوطنية  
الثالث الابتدائي

الاسم الرباعي: .....

رقم السجل المدني / رقم الإقامة

رمز المدرسة

اسم المدرسة: .....

الصف: .....

الفصل: .....

إجابات الأسئلة

| د                     | ج                     | ب                     | أ                     |
|-----------------------|-----------------------|-----------------------|-----------------------|
| <input type="radio"/> | <input type="radio"/> | <input type="radio"/> | <input type="radio"/> |
| ٢١                    |                       |                       |                       |
| <input type="radio"/> | <input type="radio"/> | <input type="radio"/> | <input type="radio"/> |
| ٢٢                    |                       |                       |                       |
| <input type="radio"/> | <input type="radio"/> | <input type="radio"/> | <input type="radio"/> |
| ٢٣                    |                       |                       |                       |
| <input type="radio"/> | <input type="radio"/> | <input type="radio"/> | <input type="radio"/> |
| ٢٤                    |                       |                       |                       |
| <input type="radio"/> | <input type="radio"/> | <input type="radio"/> | <input type="radio"/> |
| ٢٥                    |                       |                       |                       |
| <input type="radio"/> | <input type="radio"/> | <input type="radio"/> | <input type="radio"/> |
| ٢٦                    |                       |                       |                       |
| <input type="radio"/> | <input type="radio"/> | <input type="radio"/> | <input type="radio"/> |
| ٢٧                    |                       |                       |                       |
| <input type="radio"/> | <input type="radio"/> | <input type="radio"/> | <input type="radio"/> |
| ٢٨                    |                       |                       |                       |
| <input type="radio"/> | <input type="radio"/> | <input type="radio"/> | <input type="radio"/> |
| ٢٩                    |                       |                       |                       |
| <input type="radio"/> | <input type="radio"/> | <input type="radio"/> | <input type="radio"/> |
| ٣٠                    |                       |                       |                       |

| د                     | ج                     | ب                     | أ                     |
|-----------------------|-----------------------|-----------------------|-----------------------|
| <input type="radio"/> | <input type="radio"/> | <input type="radio"/> | <input type="radio"/> |
| ١١                    |                       |                       |                       |
| <input type="radio"/> | <input type="radio"/> | <input type="radio"/> | <input type="radio"/> |
| ١٢                    |                       |                       |                       |
| <input type="radio"/> | <input type="radio"/> | <input type="radio"/> | <input type="radio"/> |
| ١٣                    |                       |                       |                       |
| <input type="radio"/> | <input type="radio"/> | <input type="radio"/> | <input type="radio"/> |
| ١٤                    |                       |                       |                       |
| <input type="radio"/> | <input type="radio"/> | <input type="radio"/> | <input type="radio"/> |
| ١٥                    |                       |                       |                       |
| <input type="radio"/> | <input type="radio"/> | <input type="radio"/> | <input type="radio"/> |
| ١٦                    |                       |                       |                       |
| <input type="radio"/> | <input type="radio"/> | <input type="radio"/> | <input type="radio"/> |
| ١٧                    |                       |                       |                       |
| <input type="radio"/> | <input type="radio"/> | <input type="radio"/> | <input type="radio"/> |
| ١٨                    |                       |                       |                       |
| <input type="radio"/> | <input type="radio"/> | <input type="radio"/> | <input type="radio"/> |
| ١٩                    |                       |                       |                       |
| <input type="radio"/> | <input type="radio"/> | <input type="radio"/> | <input type="radio"/> |
| ٢٠                    |                       |                       |                       |

| د                     | ج                     | ب                     | أ                     |
|-----------------------|-----------------------|-----------------------|-----------------------|
| <input type="radio"/> | <input type="radio"/> | <input type="radio"/> | <input type="radio"/> |
| ١                     |                       |                       |                       |
| <input type="radio"/> | <input type="radio"/> | <input type="radio"/> | <input type="radio"/> |
| ٢                     |                       |                       |                       |
| <input type="radio"/> | <input type="radio"/> | <input type="radio"/> | <input type="radio"/> |
| ٣                     |                       |                       |                       |
| <input type="radio"/> | <input type="radio"/> | <input type="radio"/> | <input type="radio"/> |
| ٤                     |                       |                       |                       |
| <input type="radio"/> | <input type="radio"/> | <input type="radio"/> | <input type="radio"/> |
| ٥                     |                       |                       |                       |
| <input type="radio"/> | <input type="radio"/> | <input type="radio"/> | <input type="radio"/> |
| ٦                     |                       |                       |                       |
| <input type="radio"/> | <input type="radio"/> | <input type="radio"/> | <input type="radio"/> |
| ٧                     |                       |                       |                       |
| <input type="radio"/> | <input type="radio"/> | <input type="radio"/> | <input type="radio"/> |
| ٨                     |                       |                       |                       |
| <input type="radio"/> | <input type="radio"/> | <input type="radio"/> | <input type="radio"/> |
| ٩                     |                       |                       |                       |
| <input type="radio"/> | <input type="radio"/> | <input type="radio"/> | <input type="radio"/> |
| ١٠                    |                       |                       |                       |