

شكراً لتحميلك هذا الملف من موقع المناهج السعودية



اختبار الفترة منتصف الفصل

[موقع المناهج](#) ← [المناهج السعودية](#) ← [الصف الثالث](#) ← [رياضيات](#) ← [الفصل الثالث](#) ← [الملف](#)

التواصل الاجتماعي بحسب الصف الثالث

روابط مواد الصف الثالث على تلغرام

[الرياضيات](#)

[اللغة الانجليزية](#)

[اللغة العربية](#)

[التربية الاسلامية](#)

المزيد من الملفات بحسب الصف الثالث والمادة رياضيات في الفصل الثالث

[نموذج إجابة الاختبار التحريبي النهائي](#)

1

[اختبار تحريبي نهائي](#)

2

[نموذج إجابة مراجعة المنهج](#)

3

[أسئلة مراجعة شاملة للمنهج](#)


4

[مجموعة اختبارات نهائية مع نماذج الإجابة](#)

5



اختبار الفترة الأولى مادة الرياضيات للصف الثالث الابتدائي



الفصل:

اسم الطالب/ة:

٢٠

السؤال الأول: اجب عن ما يلي :

• اختر الوحدة الأنسب لقياس الأشياء الآتية :

	١. كتلة حبة فراولة (جرام - كيلوجرام)
	٢. سعة حوض سمك (ملتر - لتر)
	٣. طول قلم حبر (ملتر - سنتيمتر - متر - كيلومتر)
	٤. كتلة طفل (جرام - كيلوجرام)
	٥. سعة ملعقة (ملتر - لتر)
	٦. طول غرفة الصف (ملتر - سنتيمتر - متر - كيلومتر)
	٧. طول المسافة بين الرياض وحائل (ملتر - سنتيمتر - متر - كيلومتر)
	٨. طول عنملة (ملتر - سنتيمتر - متر - كيلومتر)

• أوجد ما يلي :


الحجم = وحدة مكعبة	المساحة = وحدة مربعة	المحيط = سم

• اكتب الزمن الذي تُشير إليه ساعة العقارب :

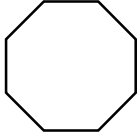


..... :

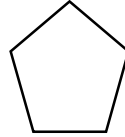
• اكمل الفراغ :

عدد الرؤوس	عدد الأحرف	عدد الأوجه	اسم الجسم	الجسم
.....	

• اسم الشكل المستوي



.....



.....

• اكمل الجدول :

عدد محاور التماثل	هل له محور تماثل	الشكل
.....	(نعم - لا)	