

شكراً لتحميلك هذا الملف من موقع المناهج السعودية



نموذج إجابة اختبار منتصف الفصل

[موقع المناهج](#) ⇨ [المناهج السعودية](#) ⇨ [الصف الثالث](#) ⇨ [التربية الفنية](#) ⇨ [الفصل الأول](#) ⇨ [الملف](#)

التواصل الاجتماعي بحسب الصف الثالث

روابط مواد الصف الثالث على تلغرام

[الرياضيات](#)

[اللغة الانجليزية](#)

[اللغة العربية](#)

[التربية الاسلامية](#)

المزيد من الملفات بحسب الصف الثالث والمادة التربية الفنية في الفصل الأول

[نموذج إجابة اختبار منتصف الفصل](#)

1

[اختبار منتصف الفصل ترم أول](#)

2

[توزيع منهج التربية الفنية 1445 هـ](#)

3

[تحضير وحدات الفنية 1444 هـ](#)

4

[تحميل كتاب الطالب](#)

5



اختبار التربية الفنية - ثالث ابتدائي - الترم الاول


الصف : ٣ /

اسم الطالب/ة :

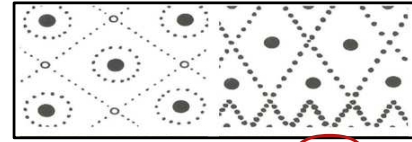
السؤال الأول ، صح او خطأ :

١. التصميم هو التخطيط لشيء معين وإنشاؤه بطريقة جميلة وممتعة
 صح خطأ
٢. يتم تنفيذ الاسكتش غالباً بأقلام الرصاص
 صح خطأ
٣. العابنا تعتمد على التصميم
 صح خطأ
٤. التصميم يستخدم في الفنون و العمارة و الأثاث فقط
 صح خطأ
٥. لم يعتمد الانسان في زخرفته على الموجودات المحيطة به
 صح خطأ

السؤال الثاني ، اختاري ما بين الأقواس وضعه في المكان المناسب في الفراغات التالية :
(تشكيلات من نقطة - تشكيلات من الخطوط)

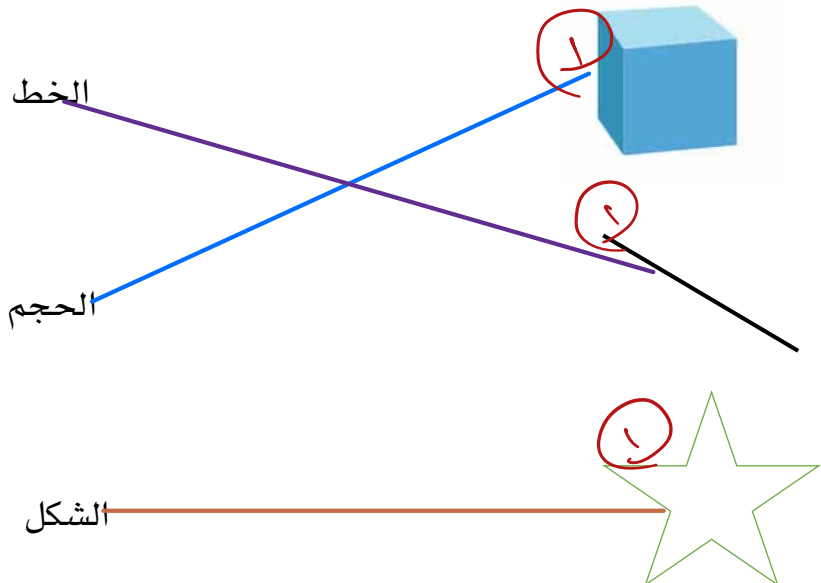


..... تشكيلات من الخطوط



..... تشكيلات من نقطة

السؤال الثالث ، صل/ي بين الشكل وما يناسبه من الكلمات فيما يأتي :



لا تنسوني من دعائكم في ظهر الغيب لعل أحدكم
أقرب إلى الله مني ومستجاب الدعوة فاسعد بيها
طول عمري

<https://t.me/schoolart45>