

تم تحميل هذا الملف من موقع المناهج الإماراتية



\*للحصول على أوراق عمل لجميع الصفوف وجميع المواد اضغط هنا

<https://almanahj.com/sa>

\* للحصول على أوراق عمل لجميع مواد الصف الثالث اضغط هنا

<https://almanahj.com/sa/3>

\* للحصول على جميع أوراق الصف الثالث في مادة رياضيات وجميع الفصول, اضغط هنا

<https://almanahj.com/sa/3>

\* للحصول على أوراق عمل لجميع مواد الصف الثالث في مادة رياضيات الخاصة بـ اضغط هنا

<https://almanahj.com/sa/3>

\* لتحميل كتب جميع المواد في جميع الفصول للـ الصف الثالث اضغط هنا

<https://almanahj.com/sa/grade3>


للتحدث إلى بوت المناهج على تلغرام: اضغط هنا

[https://t.me/almanahj\\_bot](https://t.me/almanahj_bot)

بِسْمِ اللَّهِ الرَّحْمَنِ الرَّحِيمِ

## وقت مادة الرياضيات

أحضر كتاب الرياضيات ودفتر الرياضيات  
والقلم الذي تفضل الكتابة به  
وهيا نستمتع معاً بوقت الرياضيات



### لوحة حضور وغياب



حنين



جوانا



ليندا



رغد



نهال



ميهاف



همس



الحضور قبل الحصة  
الدراسية وعدم المغادرة  
إلا بعد انتهائها



اغلق المايك  
وعدم فتحه  
إلا بإذن المعلم



عدم الكتابة في درجشة  
الاجتماع إلا بإذن المعلم



رفع اليد عند  
المشاركة وانتظار  
الموافقة

بِسْمِ اللَّهِ الرَّحْمَنِ الرَّحِيمِ

# موضوع الدرس : الزمن (قراءة الساعة)

أهداف الدرس:

قراءة الساعة.



الحضور قبل الحصة  
الدراسية وعدم المغادرة  
إلا بعد انتهائها



إغلاق المايك  
وعدم فتحه  
إلا بإذن المعلم



رفع اليد عند  
المشاركة وانتظار  
الموافقة



عدم الكتابة في درشة  
الاجتماع إلا بإذن المعلم







الحضور قبل الحصة  
الدراسية وعدم المغادرة  
إلا بعد انتهائها



إغلاق المايك  
وعدم فتحه  
إلا بإذن المعلم



رفع اليد عند  
المشاركة وانتظار  
الموافقة



عدم الكتابة في دررشة  
الاجتماع إلا بإذن المعلم

www.ien.edu.sa



أَسْتَعِدُّ

نَظَرُ مُحَمَّدٌ إِلَى سَاعَتِهِ الرَّقْمِيَّةِ عِنْدَ نَهَايَةِ  
حِصَّةِ التَّرْيِيَةِ الْبَدَنِيَّةِ.  
كَمْ كَانَتِ السَّاعَةُ عِنْدَمَا انْتَهَتِ الْحِصَّةُ؟

فِكْرَةُ الدَّرْسِ

أَقْرَأُ السَّاعَةَ.

الْمُفْرَدَاتُ

السَّاعَةُ الرَّقْمِيَّةُ


سَاعَةُ الْعَقَارِبِ

ماذا  
اريد ان  
اعرف

ماذا  
اعرف



# السَّاعَةُ الرَّقْمِيَّةُ



السَّاعَةُ

الدَّقَائِقُ

السَّاعَةُ الرَّقْمِيَّةُ: هِيَ سَاعَةٌ تُسْتَعْمَلُ فِيهَا الْأَرْقَامُ فَقَطْ لِإِظْهَارِ الزَّمَنِ.

تعريف  
المفردة



فِي السَّاعَةِ الرَّقْمِيَّةِ التَّالِيَةِ:

الْأَرْقَامُ عَنْ يَسَارِ النُّقْطَتَيْنِ (:) تُمَثِّلُ السَّاعَاتِ.

الْأَرْقَامُ عَنْ يَمِينِ النُّقْطَتَيْنِ (:) تُمَثِّلُ الدَّقَائِقَ.

وَالزَّمَنُ الَّذِي تُشِيرُ إِلَيْهِ هُوَ: الثَّامِنَةُ وَ ثَلَاثُونَ دَقِيقَةً، وَتُكْتَبُ: ٨:٣٠.

مثال

أُكْتُبِ الزَّمَنَ الَّذِي تُشِيرُ إِلَيْهِ السَّاعَةُ الرَّقْمِيَّةُ التَّالِيَةُ:

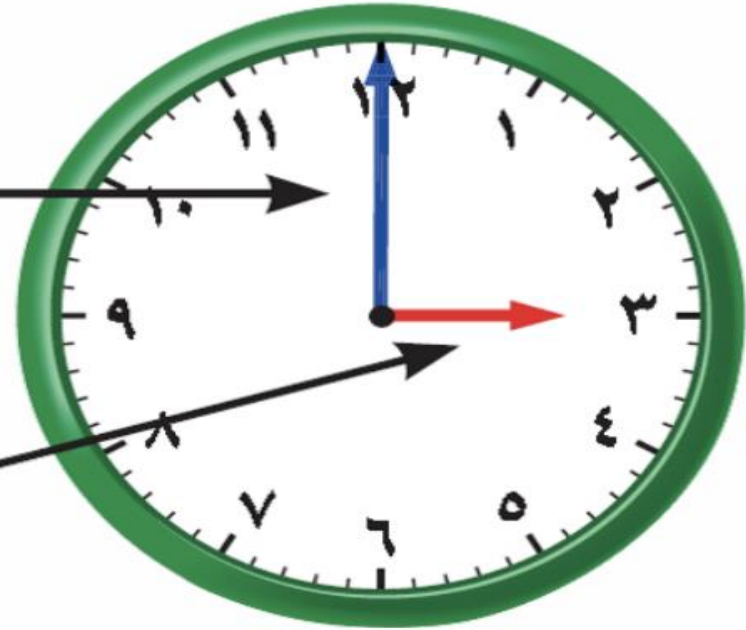


سؤال

# سَاعَةٌ أَوْ عَقَارِبُ

عَقْرِبُ الدَّقَائِقِ

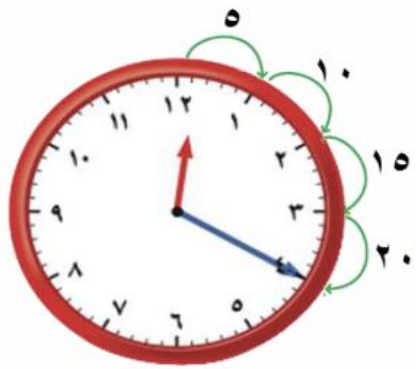
عَقْرِبُ السَّاعَاتِ





تعريف  
المفردة

سَاعَةُ الْعَقَارِبِ: هِيَ سَاعَةٌ يُوجَدُ بِهَا عَقْرَبُ سَاعَاتٍ وَعَقْرَبُ دَقَائِقٍ.



فِي سَاعَةِ الْعَقَارِبِ التَّالِيَةِ:

عَقْرَبُ السَّاعَاتِ الْأَقْصَرُ تَعْدَى الرَّقْمَ ١٢ ، إِذْنُ السَّاعَةُ ١٢ .

الْعَقْرَبُ الْأَطْوَلُ هُوَ عَقْرَبُ الدَّقَائِقِ .

نَبْدَأُ عِنْدَ الْعَدَدِ ١٢ وَنَعُدُّ خَمْسَاتٍ : ٥ ، ١٠ ، ١٥ ، ٢٠ . إِذْنُ تُوجَدُ ٢٠ دَقِيقَةً .

فَنَقْرَأُ: السَّاعَةُ الثَّانِيَةَ عَشْرَةَ وَعِشْرُونَ دَقِيقَةً وَنَكْتُبُ ١٢ : ٢٠ .

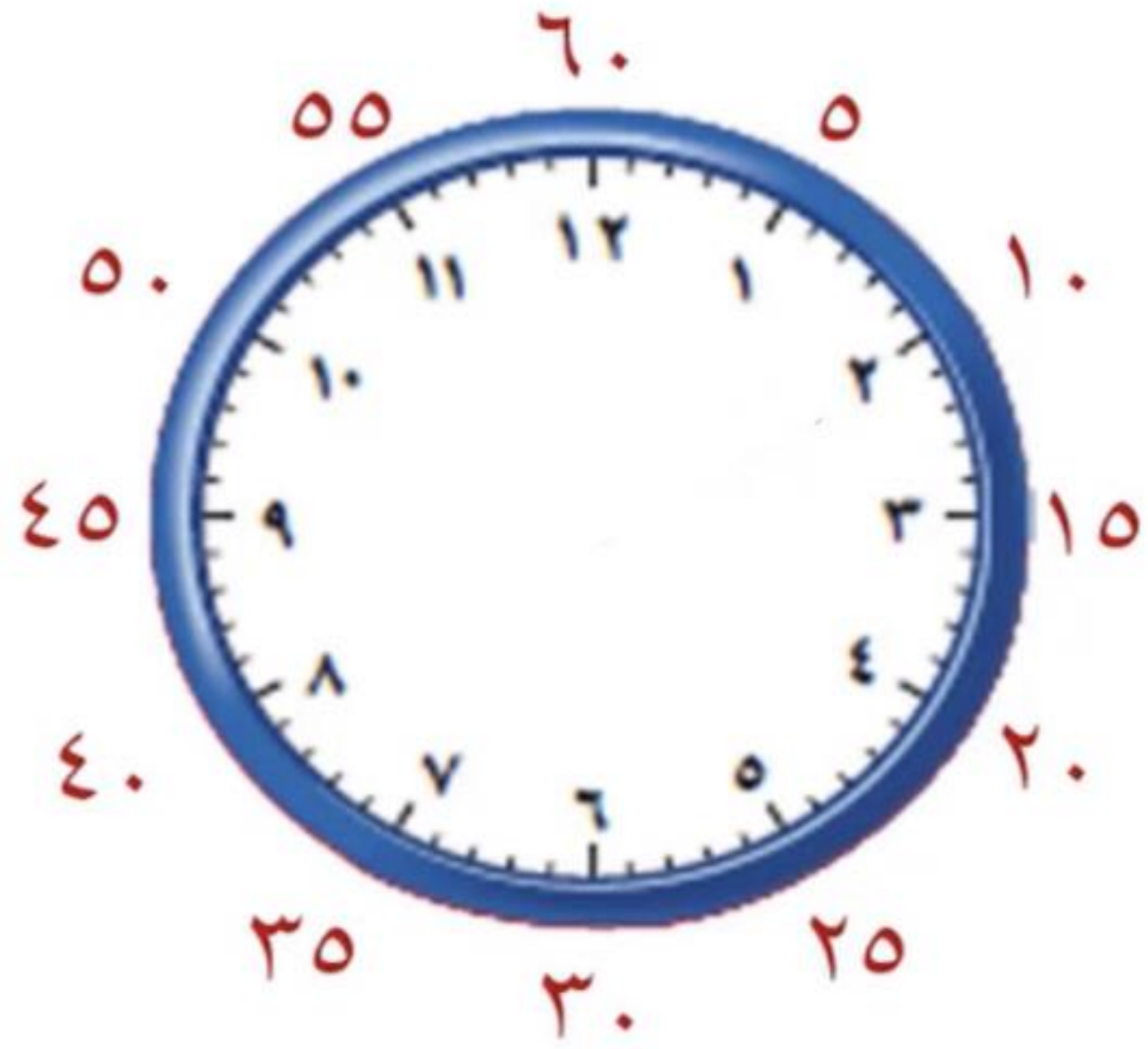


أَكْتُبِ الزَّمْنَ الَّذِي تُشِيرُ إِلَيْهِ السَّاعَةُ التَّالِيَةُ .

مثال

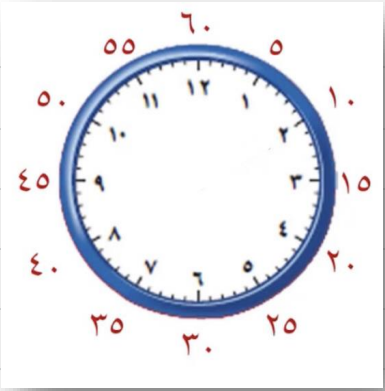
سؤال





# أُسْتَعِدُّ

نَظَرُ مُحَمَّدٌ إِلَى سَاعَتِهِ الرَّقْمِيَّةِ عِنْدَ نَهَايَةِ  
حِصَّةِ التَّرْيِيبِ الْبَدَنِيَّةِ.  
كَمْ كَانَتِ السَّاعَةُ عِنْدَمَا انْتَهَتِ الْحِصَّةُ؟



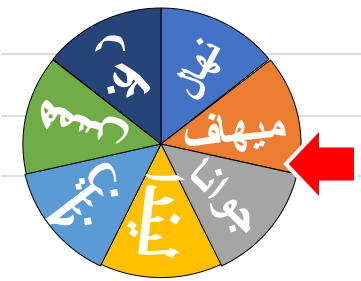
## مِثَالٌ مِنْ وَاقِعِ الْحَيَاةِ



**الْوَقْتُ:** أَكْتُبُ الزَّمَانَ الَّذِي تُشِيرُ إِلَيْهِ سَاعَةُ مُحَمَّدٍ.



أَقْرَأُ: الثَّامِنَةَ وَثَلَاثُونَ دَقِيقَةً. وَأَكْتُبُ: ٨:٣٠



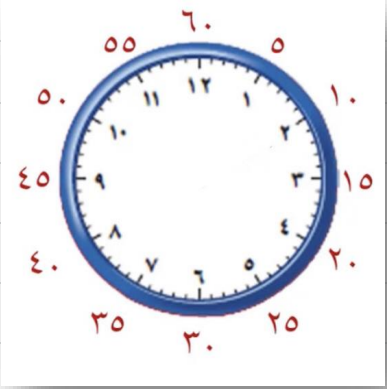
# مثال

٢

الوقت: اكتب الزمن الذي تشير إليه ساعة العقارب.

اقرأ: الخامسة وسبعة وأربعون دقيقة.

وأكتب: ٥ : ٤٧





# تَأْكُدُ ✓

أَكْتُبُ الزَّمْنَ الَّذِي تُشِيرُ إِلَيْهِ السَّاعَةُ الرَّقْمِيَّةُ أَوْ سَاعَةُ الْعَقَارِبِ:



٢ : ٤٢

وتقرأ الساعة ٢ و ٤٢ دقيقة



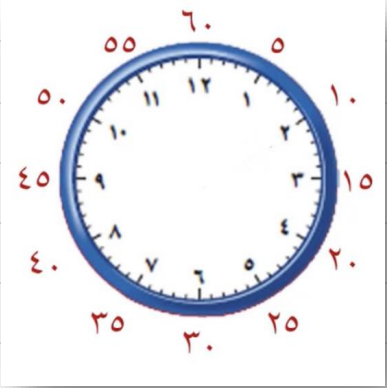
١٠:٢٨

العاشره و ٢٨ دقيقة



٥ : ١٥

وتقرأ الساعة ٥ و ١٥ دقيقة



00:01:00

Start Clear

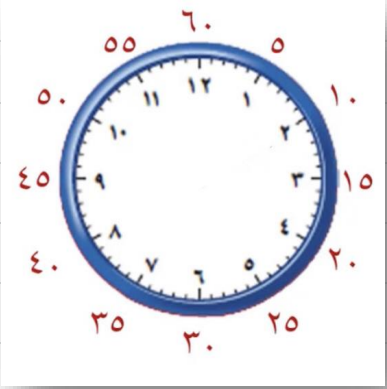


أَكْتُبُ الزَّمْنَ الَّذِي تُشِيرُ إِلَيْهِ السَّاعَةُ الرَّقْمِيَّةُ أَوْ سَاعَةُ الْعَقَارِبِ:

إِذَا كَانَ عَقْرَبُ الدَّقَائِقِ يُشِيرُ إِلَى الرَّقْمِ ٢، فَمَا عَدَدُ الدَّقَائِقِ الَّتِي يُشِيرُ إِلَيْهَا؟



عدد الدقائق ١٠ دقائق



00:01:00

Start Clear

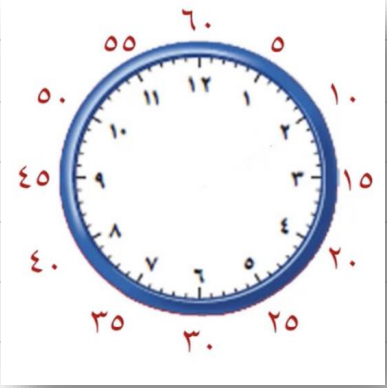


أَكْتُبِ الزَّمْنَ الَّذِي تُشِيرُ إِلَيْهِ السَّاعَةُ الرَّقْمِيَّةُ أَوْ سَاعَةُ الْعَقَارِبِ:

إِذَا كَانَتْ سَاعَةُ الْحَائِطِ تُشِيرُ إِلَى الْوَقْتِ ٤٥ : ٨ ،  
فَكَمْ سَيَكُونُ الْوَقْتُ بَعْدَ مُرُورِ ٧ دَقَائِقَ؟

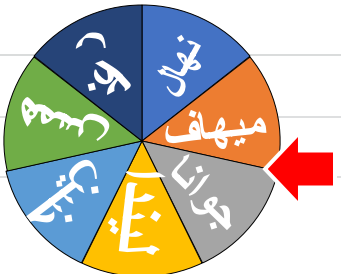
١٣

٨:٤٥



00:01:00

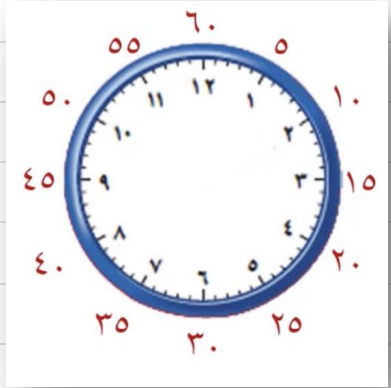
Start Clear





## تَدْرِبْ وَحَلِّ الْمَسَائِلِ

أَكْتُبِ الزَّمْنَ الَّذِي تُشِيرُ إِلَيْهِ السَّاعَةُ الرَّقْمِيَّةُ أَوْ سَاعَةُ الْعَقَارِبِ:



١:٥٠

الواحدة و ٥٠ دقيقة



٣:٤٤

الثالثة و ٤٤ دقيقة



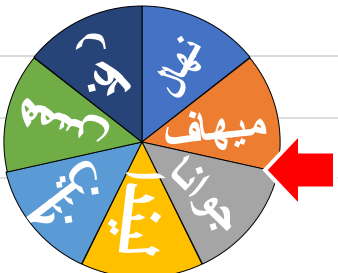
١٢:٢٠

الثانية عشر و ٢٠ دقيقة



٦:٥٧

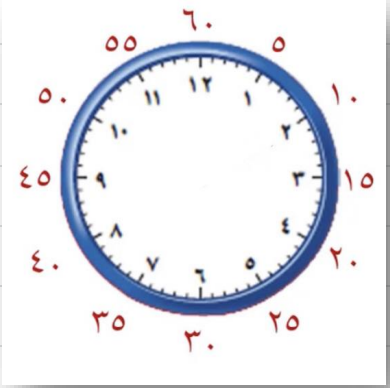
السادسة و ٥٧ دقيقة



# مسائل مهارات التفكير العليا

أكتب ١٥  
أيُّهُمَا يَتَحَرَّكُ أَسْرَعَ فِي سَاعَةِ الْعَقَارِبِ؛ عَقْرَبُ السَّاعَاتِ أَمْ عَقْرَبُ الدَّقَائِقِ؟  
كَيْفَ أَتَحَقَّقُ مِنْ ذَلِكَ؟

عقرب الدقائق ، يحتاج عقرب الدقائق إلى التحرك دورة كاملة حتى يتحرك عقرب الساعات إلى الرقم التالي.



00:01:00

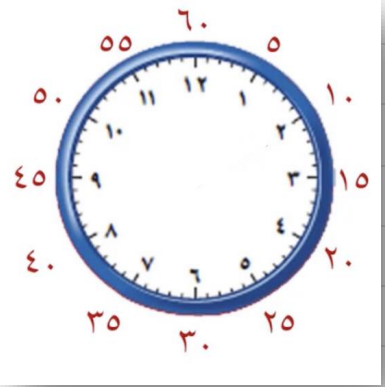
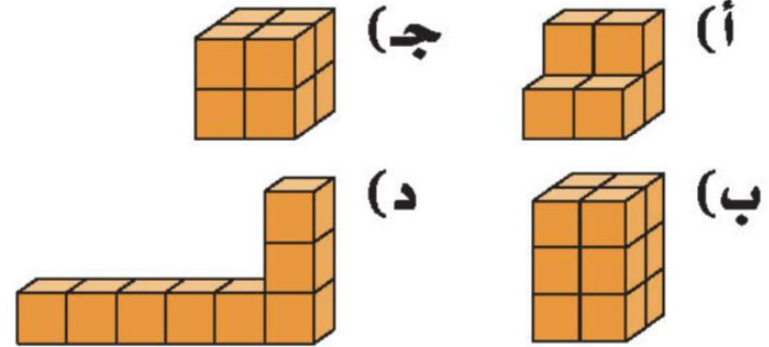
Start Clear



١٧ إذا كَانَ عَقْرَبُ الدَّقَائِقِ يُشِيرُ إِلَى الرَّقْمِ ٩، فَمَا عَدَدُ الدَّقَائِقِ الَّتِي يُشِيرُ إِلَيْهَا؟ (الدرس ٨-٨)

- (أ) ٩  
(ب) ١٠  
(ج) ١٥  
(د) ٤٥

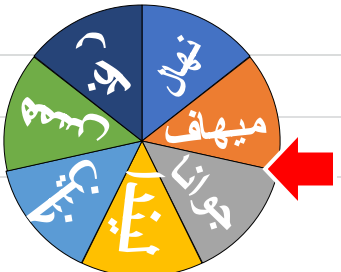
١٦ أَيُّ الْمُجَسَّمَاتِ الَّتِيَّةِ حَجْمُهُ أَقَلُّ مِنْ ٧ وَحَدَاتٍ مُكَعَّبَةٍ؟ (الدرس ٨-٧)



00:01:00

Start

Clear





ماذا تعلمت اليوم

تعلمنا اليوم: قراءة الساعة



أكتب الزمن الذي تشير إليه الساعة ؟



إذن الساعة: ٣:٢٥

• أقرأ الساعات

• أقرأ الدقائق

• اكتب الزمن

٣

٢٥

٣:٢٥



# الواجب المنزلي



لا تنسين مشاهدة الدرس  
عبر قناة عين و منصة  
مدرستي وحل الواجب في  
منصة مدرستي



مدرستي  
"Madrasati"







[https://youtube.com/channel/UCSRiG9b2\\_1Dsojn7h14QIQ](https://youtube.com/channel/UCSRiG9b2_1Dsojn7h14QIQ)

# YouTube

## قناة

## منار الزهراني تابعو كل جديد

إضافة إلى

مشاركة

0



مشارك

