

تم تحميل هذا الملف من موقع المناهج السعودية



\* للحصول على أوراق عمل لجميع الصفوف وجميع المواد اضغط هنا

<https://www.almanahj.com/sa>

[3/sa/com.almanahj//:https](https://www.almanahj.com/sa/3)

\* للحصول على أوراق عمل لجميع مواد الصف الثالث اضغط هنا

\* للحصول على جميع أوراق الصف الثالث في مادة رياضيات ولجميع الفصول, اضغط هنا

<https://www.almanahj.com/sa/3>

\* للحصول على أوراق عمل لجميع مواد الصف الثالث في مادة رياضيات الخاصة بـ اضغط هنا

<https://www.almanahj.com/sa/33>

\* لتحميل كتب جميع المواد في جميع الفصول للـ الصف الثالث اضغط هنا

<https://www.almanahj.com/sa/grade3>

[sacourse/me.t//:https](https://www.almanahj.com/sa/course)

للحصول على جميع روابط الصفوف على تلغرام وفيسبوك من قنوات وصفحات: اضغط هنا

# المحيط

الاسم /

١٨ سم

٢٤ سم

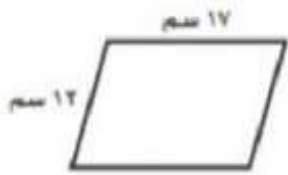
١٦ سم

٥٨ سم

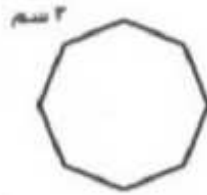
١٢ سم

٨ سم

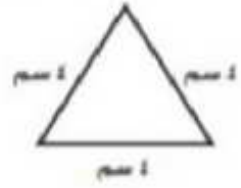
أجِدْ مُحِيطَ كُلِّ شَكْلِ مِمَّا يَأْتِي:



٣



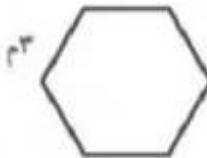
٢



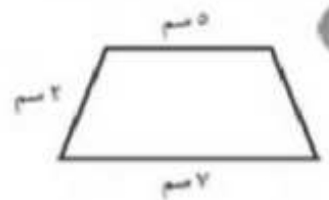
١



٦



٥



٤

اعداد/ أ. لطيفه الزبيدي