

شكراً لتحميلك هذا الملف من موقع المناهج السعودية



الدرس الثاني الأشكال المستوية

[موقع المناهج](#) ← [المناهج السعودية](#) ← [الصف الثالث](#) ← [رياضيات](#) ← [الفصل الثالث](#) ← [الملف](#)

تاريخ نشر الملف على موقع المناهج: 12:45:35 2023-04-02

التواصل الاجتماعي بحسب الصف الثالث



المزيد من الملفات بحسب الصف الثالث والمادة رياضيات في الفصل الثالث

نموذج إجابة الاختبار التحريبي النهائي	1
اختبار تحريبي نهائي	2
نموذج إجابة مراجعة المنهج	3
أسئلة مراجعة شاملة للمنهج	4
مجموعة اختبارات نهائية مع نماذج الإجابة	5



٩ - ٢

الأشكال المستوية



أ. أحمد الأحمد
@ahmad9963



أَسْتَعِدُّ

لَا حَظَّ حَمْدٌ أَنَّ الْإِشَارَةَ «قِفْ» شَكْلٌ هَنْدَسِيٌّ
مُكَوَّنٌ مِنْ ٨ أَضْلَاعٍ،
وَمِثْلُ هَذَا الشَّكْلِ يُسَمَّى مُضَلَّعًا.
الشَّكْلُ الْمُسْتَوِيُّ هُوَ شَكْلٌ ثُنَائِيٌّ الْأَبْعَادِ لَهُ طُولٌ وَعَرْضٌ.

فكرة الدرس

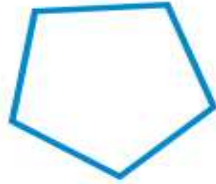
أسمي الأشكال
المستوية وأصفها.
المفردات

الشكل المستوي
المضلع
المثلث
الرباعي
الخماسي
السداسي
الثماني

أ. أحمد الأحمد

@ahmad9963

المُضَلَّعُ هُوَ شَكْلٌ مُسْتَوٍ مُغْلَقٌ مُكَوَّنٌ مِنْ ثَلَاثِ زَوَايَا أَوْ أَكْثَرَ، وَثَلَاثِ قِطَعٍ مُسْتَقِيمَةٍ أَوْ أَكْثَرَ.



شَكْلٌ خَمَّاسِيٌّ

٥ أضلاع
و٥ زوايا



شَكْلٌ رُبَاعِيٌّ

٤ أضلاع
و٤ زوايا



مُثَلَّثٌ

٣ أضلاع
و٣ زوايا



شَكْلٌ ثَمَانِيٌّ

٨ أضلاع و٨ زوايا



شَكْلٌ سِدَّاسِيٌّ

٦ أضلاع و٦ زوايا

أَصِفُ الْأَشْكَالَ الْمُسْتَوِيَّةَ

مِثَالانِ مِنْ وَاقِعِ الْحَيَاةِ



إِشَارَاتُ الْمُرُورِ: أَصِفُ كُلًّا مِنَ الْمُضَلَّعَيْنِ الْآتِيَيْنِ، ثُمَّ أَسْمِيهِ:




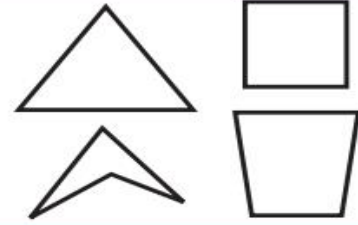
لَهُ ٤ أَضْلاعٍ وَأَرْبَعُ زَوَايَا؛
لِذَا فَهُوَ رُبَاعِيٌّ.



لَهُ ٣ أَضْلاعٍ وَ ٣ زَوَايَا؛
لِذَا فَهُوَ مُثَلَّثٌ.



في الجدول أدناه أمثلة لمضلعات، وأخرى ليست لمضلعات:

ليست مضلعات	مضلعات
	

أسمي الأشكال المُستوية

مثال من واقع الحياة



مُضَلَّعٌ لَهُ ٦ أَضْلاعٍ، وَ ٦ زَوَايا، مَاذَا أُسْمِي هَذَا

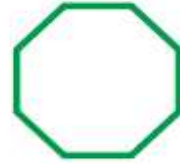
المُضَلَّع؟

هَذَا الْمُضَلَّعُ يُسَمَّى سُدَّاسِيًّا.

أ.أحمد الأحمدي

@ahmad9963

أَصِفْ كُلَّ شَكْلِ مُسْتَوٍ مُسْتَعْمَلًا (عَدَدَ الْأَضْلَاعِ، وَعَدَدَ الزَّوَايَا)، ثُمَّ أَسْمِّهِ:



أَسْمِي الشَّكْلِ الْمُسْتَوِي:

٤ مُضَلَعٌ لَهُ ٣ أَضْلَاعٍ وَ ٣ زَوَايَا.

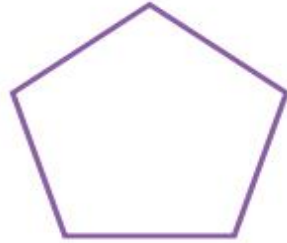
٥ مُضَلَعٌ لَهُ ٦ زَوَايَا.




٦ أَتَحَدَّثُ أَشْرَحُ لِمَاذَا لَا يَكُونُ شَكْلُ الطَّبَقِ مُضَلَعًا .

أَتَدْرَبُ، وَأُحِلُّ الْمَسَائِلَ


أَصِفْ كُلَّ شَكْلٍ مُسْتَوٍ مُسْتَعْمِلًا (عَدَدَ الْأَضْلَاعِ، وَعَدَدَ الزَّوَايَا)، ثُمَّ أَسَمِّهِ:



٩



٨

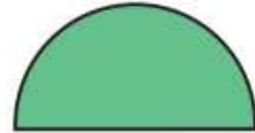


٧


أَسْمِي الشَّكْلَ الْمُسْتَوِي:

١١ مَضَلَعٌ لَهُ ٨ أَضْلاعٍ وَ ٨ زَوَايَا.

١٠ مَضَلَعٌ عَدَدُ زَوَايَاهُ أَقَلُّ مِنْ عَدَدِ زَوَايَا الشَّكْلِ الرَّبَاعِيِّ.



١٢ هَلِ الشَّكْلُ الْمَجَاوِرُ يُعَدُّ مَضَلَعًا؟ أَوْضِحْ إِجَابَتِي.



١٥



١٤



١٢

أَسْمِي الْوَجْهَ الْمُظَلَّلَ فِي كُلِّ مُجَسَّمٍ مِمَّا يَأْتِي:



مسائل مهارات التفكير العليا

١٦ مسألة مفتوحة: أذكر شيئاً في عُرفَةِ صَفِّي فِيهِ مُضَلَّعَانِ عَلَى الْأَقْلِّ.

أ. أحمد الأحمد
@ahmad9963

١٧ **أَكْتَشِفُ الْخَطَأَ:** صَنَّفَ كُلُّ مَنْ أَحْمَدَ وَسَعِيدٍ الشَّكْلَ الْمَرْسُومَ أَذْنَاهُ، فَأَيُّهُمَا إِجَابَتُهُ صَحِيحَةٌ؟
أَوْضِّحْ ذَلِكَ.



لِسَعِيدٍ
خُطْبَتِي



أَحْمَدُ
لِسَدَائِسِي

